

1) Aşağıdaki verilenlerden hangisi doğrudur?

- A) Okul servisini güvenli bir yerde beklemeliyiz.
- B) Duran bir arabanın arkasından çabucak geçebiliriz.
- C) Okul servisine çok hızlı bir şekilde binmeliyiz.

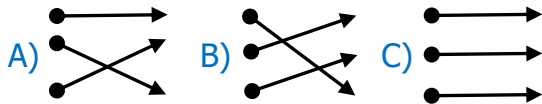
2)

Serviste yerimize oturmalıyız. mutlaka

Emniyet kemerini takmalıyız. yerimizden

Yol boyunca..... kalkmamalıyız. kendi

Yukarıdaki cümlelerde boş bırakılan yerlere gelecek olan sözcükler hangi seçenekte doğru verilmiştir?



3) Aşağıdakilerden hangisi okul servisine binmeden önce yapılması gereken davranıştır?

- A) Servisi güvenli bir yerde beklemek.
- B) Serviste emniyet kemeri takmak.
- C) İnerken sağ kapıdan inmek.

4) Toplu taşıma araçlarına binmek için nerede beklemeliyim?



Yukarıdaki sorunun cevabı nedir?

- A) durak
- B) yol
- C) kaldırım

5) Aşağıdaki araçlardan hangisi ile yolculuk yapılması uygun değildir?

- A) Özel araçlar
- B) Toplu taşıma araçları
- C) Üzeri açık araçlar

6) Özel araçlarda yolculuk yaparken çocuklar nerede oturmalıdır?

- A) Yan koltukta oturmalıdır.
- B) Arka koltukta oturmalıdır.
- C) Bagajda oturmalıdır.

7) Aşağıdakilerden hangisi okul servisi içerisinde iken uymamız gereken kurallardan birisidir?

- A) Evden zamanında çıkarak geç kalmamak.
- B) Servise sırayla ve acele etmeden binmek.
- C) Serviste gürültülü ve hareketli şakalar yapmamak.

8) Aşağıdakilerden hangisi okul servisinden inerken uymamız gereken kurallardan birisidir?

- A) Servisten inebileceğimiz söyleninceye kadar yerimizde oturmak.
- B) Servise biner binmez yerimize oturmak.
- C) Servisin gelmesini durakta beklemek.

9) Araçlara biniş ve inişlerde hangi kapılar kullanılmalıdır?

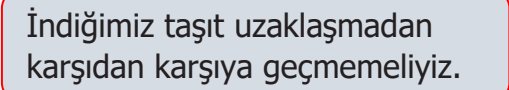
- A) Şoför kapısı
- B) Sol taraftaki kapılar
- C) Sağ taraftaki kapılar

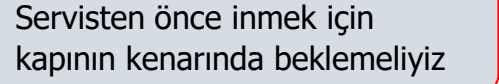
10)  Araçlarda emniyet kemeri takılmasının sebebi nedir?

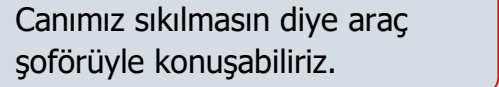
- A) Güvenli yolculuk yapmak için
- B) Bizi sıcak tutması için
- C) Koltuğun sallanmasını önlemek için

11) Kaç yaşındaki bir çocuk arabanın ön koltuğunda oturabilir?

- A) 7
- B) 10
- C) 9

12)  1


 2

 3

Yukarıda verilenlerden hangisi doğrudur?

- A) 1
- B) 2
- C) 3

13) Yanda verilen görsel için aşağıdakilerden hangisi söylenebilir?



- A) Yolculuk kurallarına uyulmaktadır.
- B) Güvenli bir yolculuk yapılmaktadır.
- C) Yolculuk kurallarına uyulmamaktadır.

14) Okul servisine biner binmez yapmamız gereken şey aşağıdakilerden hangisidir?

- A) Arkadaşımızın yanına oturmak
- B) Koltuğumuza oturup kemer takmak
- C) Servis şoförü ile sohbet etmek

15) Aşağıdaki durumlardan hangisinde emniyet kemerini çıkarabiliriz?

- A) araba hareket ederken
- B) araba durduğunda
- C) araba yavaşladığında