






Aşağıdaki işlemlerden hangisi saksılardaki toplam çiçek sayısını verir?




- A)  $2 \times 4$       B)  $4 + 4$       C)  $2 \times 2$

2)  $4+4+4+4+4=?$  Yanda verilen toplama işleminin çarpma işlemi şeklinde ifade edilişi hangi seçenekte doğru verilmiştir?

- A)  $4 \times 4=16$   
B)  $5 + 4=9$   
C)  $5 \times 4=20$


3)  →  $2 \times 6 = 12$   
 →  $3 \times 3 = 9$   
 →  $2 \times 5 = 7$

Yandaki tabloda verilen çarpma işlemlerinden hangisi yanlıştır.

- A)   
B)   
C) 

4) Aşağıdaki çarpma işlemlerinden hangisinin sonucu 8'dir?

- A)  $3 \times 2 = \dots\dots$   
B)  $4 \times 2 = \dots\dots$   
C)  $3 \times 3 = \dots\dots$



Civcivlerin toplam ayak sayısını bulmak için hangi işlemi yapmalıyız?

- A)  $6 + 2 = 8$   
B)  $2 \times 2 = 4$   
C)  $2 \times 6 = 12$

6) 
$$\begin{array}{r} 6 \rightarrow \dots\dots 1 \\ \times 2 \rightarrow \dots\dots 2 \\ \hline 12 \rightarrow \dots\dots 3 \end{array}$$

Çarpma işlemine ait terimlerin adları hangi seçenekte doğru verilmiştir?

- 1      2      3  
A) çarpan    çarpan    çarpım  
B) çarpan    çarpım    çarpan  
C) çarpım    çarpan    çarpan

7) .....kere....., 14 eder.

Noktalı yerlere gelmesi gereken sayılar hangi seçenekte verilmiştir?

- A) 2-6      B) 2-7      C) 3-4

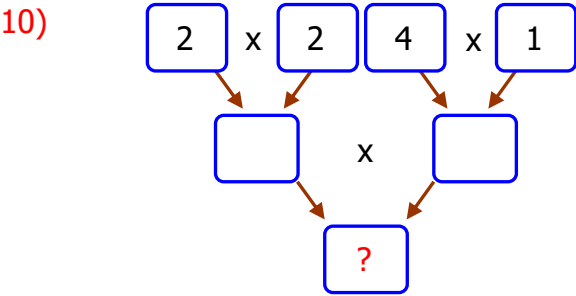
8) Çarpan: 3  
Çarpan: 4  
Çarpım: ?

Yandaki tabloda verilenlere göre çarpım kaçtır?

- A) 12      B) 10      C) 9

9) Her birinde 2 elma olan 6 tabakta toplam kaç elma vardır?

- A) 10      B) 8      C) 12



Soru işareti yerine hangi sayı yazılmalıdır?

- A) 16      B) 14      C) 12

11)

$6 \times 2$	$3 \times 2$	$4 \times 2$	$5 \times 3$
$4 \times 3$	$3 \times 4$	$1 \times 2$	$2 \times 6$

Yukarıdaki çarpma işlemlerinden kaç tanesinin sonucu 10' dan büyüktür?

- A) 4      B) 5      C) 6

12) Aşağıdaki işlemlerden hangisinin sonucu daha büyüktür?

- A)  $5 \times 1 =$       B)  $7 \times 1 =$       C)  $5 \times 0 =$

13) Bir arabada 4 adet lastik vardır. Buna göre 4 tane arabada kaç tane lastik vardır?

- A) 8      B) 20      C) 16

14) Bir kutuda 3 tane kalem olduğuna göre, 6 tane kutuda kaç tane kalem vardır?

- A) 18      B) 9      C) 12

15)

X	6	2	5
2	12	4	A
3	B	6	15
4	C	7	20

Yanda verilen çarpma işlemlerine göre A,B,C yerine yazılacak sayıların toplamı kaçtır?

- A) 50      B) 42      C) 52