



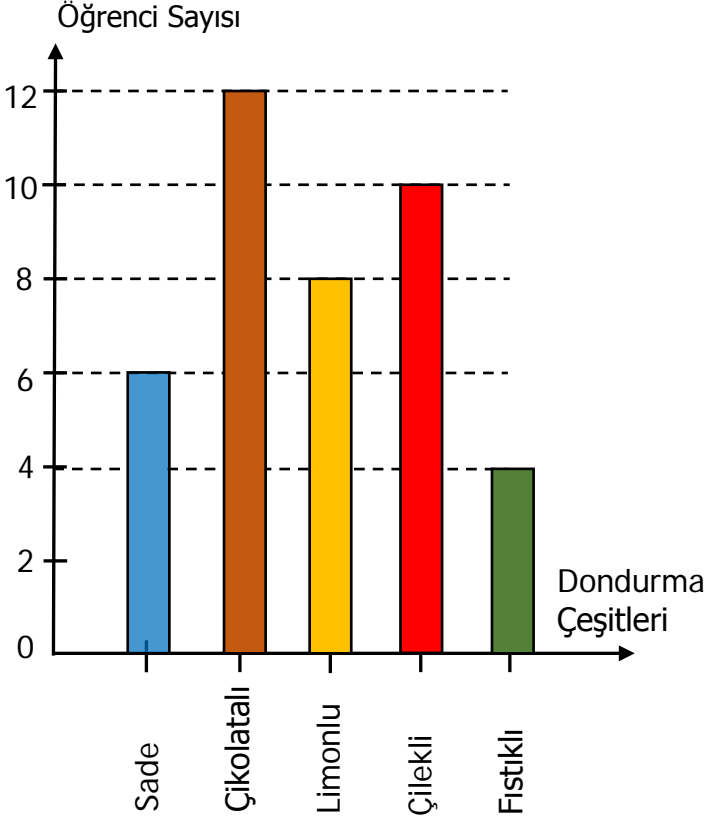
Adı Soyadı :

Numarası :

Konu: Sütun Grafiği (Çetele Tablosu ve Sıklık Tablosu) Etkinliği 4

Aşağıda 4/C sınıfı öğrencilerinin sevdiği dondurma çeşitleri verilmiştir. Buna göre grafiği inceleyerek noktalı yerleri doldurunuz.

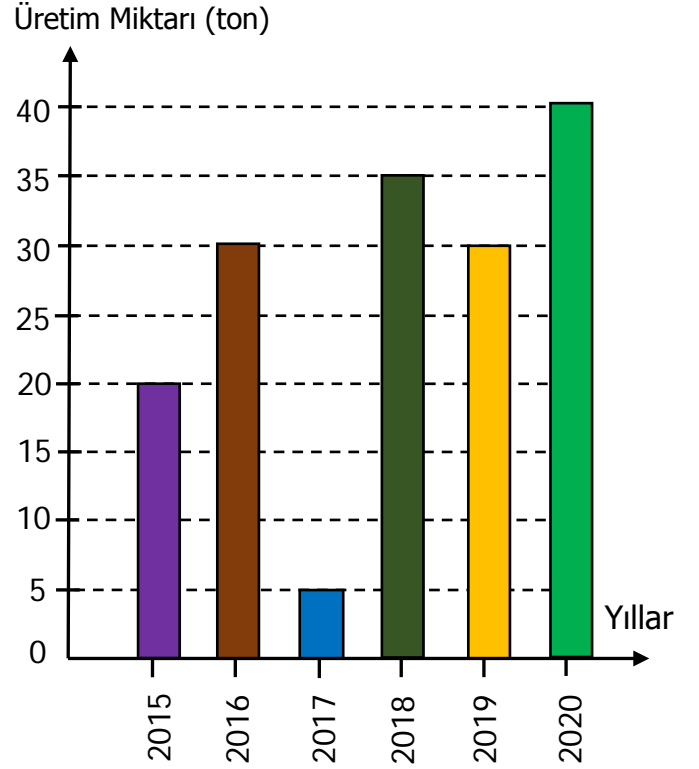
Grafik: Sevilen Dondurma Çeşitleri



- En çok sevilen dondurma çeşidi ile en az sevilen dondurma çeşidi arasındaki fark kaçtır?
.....
- 4/C sınıfında toplam kaç öğrenci vardır?
.....
- Hangi dondurma çeşitlerini toplamı çikolatalı dondurma sayısına eşittir?
.....
- Çilekli ve limonlu dondurma sevenlerin sayısı çikolatalı dondurma sevenlerin sayısından kaç fazladır?
.....

Aşağıdaki sütun grafiğinde bir tarlada yıllara göre üretilen domates miktarı gösterilmiştir. Grafikte verilenlere göre soruları yanıtlayınız.

Grafik: Üretilen Domates



- En az domates hangi yıl üretilmiştir?
.....
- En fazla domates hangi yıl üretilmiştir?
.....
- 2019 yılı üretimi, 2015 yılı üretiminden kaç ton fazladır?
.....
- Hangi yılların üretim toplamı 2020 yılındaki üretime eşittir?
.....
- Tarlada 6 yılda üretilen domates miktarı kaç tondur?
.....

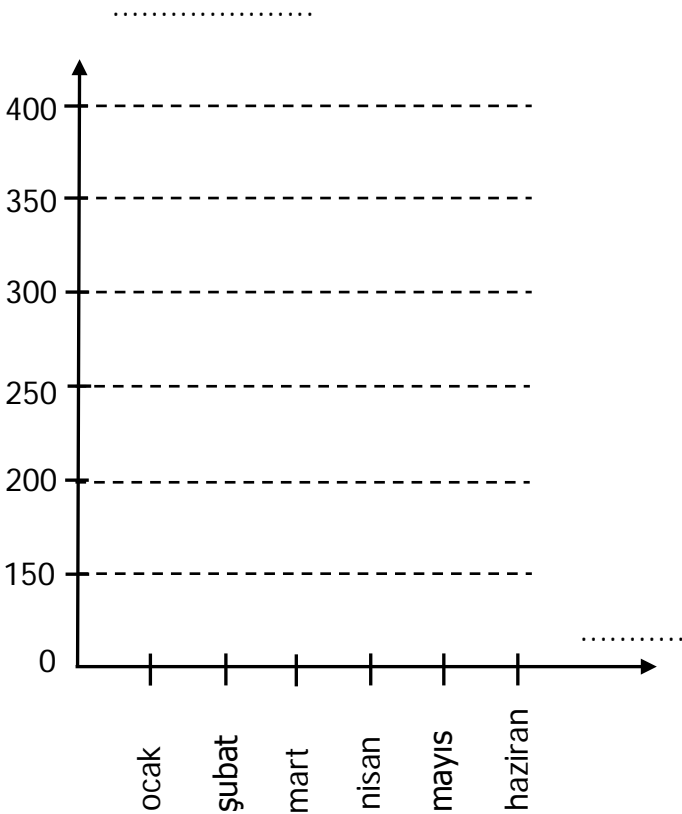
Aşağıdaki bilgilere göre sıklık tablosu oluşturunuz. Tablodaki verileri kullanarak bir sütun grafiği oluşturunuz.

- 6 aylık otomobil üretimi: Ocak 150, şubat 200, mart 300, nisan 250, mayıs 400, haziran 350.

Tablo:

Aylar	Otomobil Sayısı

Grafik:



Aşağıdaki bilgilere göre çetele tablosu oluşturunuz. Tablodaki verileri kullanarak bir sütun grafiği oluşturunuz.

- Manavda satılan günlük sebze miktarı: Birber 10 kg, patates 30 kg, soğan 25, kg, fasulye 10 kg, domates 15 kg, patlıcan 5kg

Tablo:

Sebzeler	Sebze Miktarı

Grafik:

