

## Hoca'nın Yüzüğü

Nasrettin Hoca bir gün bahçeye çıkmış. Kapının önünde sağa sola bakıp duruyormuş. Komşularından biri Hoca'ya ne aradığını sormuş. Hoca:



-Yüzüğümü düşürdüm, onu arıyorum, demiş. Komşusu:

-Yüzüğünü orada mı düşürdün?

Hoca:

- Yok, burada düşürmedim. Evin bodrumunda düşürdüm. Komşusu:

-Hoca, bodrumda düşürülen yüzük kapının önünde aranır mı? Hoca:

-Ne yapayım? Bodrum çok karanlık.

(1, 2 ve 3. Soruyu metne göre cevaplayınız.)

1) Metnin konusu aşağıdakilerden hangisidir?

- A) Hoca'nın göle maya çalması.
- B) Hoca'nın yüzüğünü araması.
- C) Hoca'nın eşeğinin kaybolması.

2) Metin ile ilgili verilen bilgilerden hangisi yanlıştır?

- A) Olayın geçtiği yer Nasrettin Hoca'nın evinin bahçesidir.
- B) Olayın zamanı bir öğle vaktidir.
- C) Hikâyenin karakterleri Nasrettin Hoca ve komşusudur.

3) Bu hikâyeden hangi sonuca ulaşabiliriz?

- A) Başkalarının sözü ile hareket etmemeliyiz.
- B) Bazı işlerimizde çevremizdeki insanlara ihtiyaç duyarız.
- C) Yanlış çözüm yolu ile doğru sonuca ulaşamayız.

4)



Benim ismim alfabe-  
nin 10. harfi ile başlı-  
yor ve ismimde 3 tane  
sesli harf var.

Verdiği bilgiye göre yukarıdaki çocuğun ismi hangisidir?

- A) Hüseyin
- B) Hasan
- C) İsmail

5) Aşağıdaki cümlelerden hangisinde zıt anlamlı sözcükler bir arada kullanılmıştır?

- A) Uzun ince bir yoldayım.
- B) Gidiyorum gündüz gece.
- C) Bilmiyorum ne haldeyim.

6) **Cevap** **Beyaz** **Ufak**





Yukarıdaki sözcüklerin eş anlamlılarının baş harfleri ile hangi sözcük yazılabilir?

- A) Kas
- B) Yak
- C) Sis






7) Nasrettin Hoca( )nın evinde yiyecek kalmamış( ) Bu nedenle eşeğini alıp pazara varmış( ) Pazardan sebze( ) meyve ve un almış( )

Aşağıdakilerden hangisi, yukarıdaki metinde yay ayraç ( ) ile belirtilen yerlere yazılması gereken noktalama işaretlerinden biri değildir?

- A) Nokta (.)
- B) Kesme İşareti (')
- C) Ünlem İşareti(!)

- 8)  Benim adım Melisa.  
 Biz antalyada yaşıyoruz.  
 Mevlana İlkokuluna gidiyorum.  
 Büyüyünce Doktor olacağım.

Yukarıdaki cümlelerden hangisinde veya hangilerinde büyük harflerin kullanımı ile ilgili bir yanlış yapılmıştır?

- A) Yalnız 
- B)  ve 
- C)  ve 

9) Aşağıdaki cümlelerden hangisinde soru eki (-mi) doğru bir şekilde yazılmıştır?

- A) Parka gelecek misin?
- B) Ayşeler gelmişmi?
- C) Saklambaç oynar mı yız?

10) Yandaki görselden hangi sonucu çıkaramayız?



- A) Temizliğe özen göstermeliyiz.
- B) Banyoda suyu israf etmemeliyiz.
- C) Düzenli olarak spor yapmalıyız.



- Karagözüm kaç yaşındasın?  
 -Benim oğlan 10 yaşında.  
 -Oğlanı değil, seni sordum.  
 -Hanım da oğlandan 25 yaş büyük.  
 -Sen laftan anlamaz mısın be adam?  
 -Ben de hanımdan 5 yaş büyüğüm.  
 -İşte şimdi yaşını zihinden hesaplamak kolay.



(11, 12 ve 13. Soruyu metne göre cevaplayınız.)

11) Karagöz'ün hanımı kaç yaşındadır?

- A) 25      B) 35      C) 45

12) Oğlu Karagöz'den kaç yaş küçüktür?

- A) 25      B) 30      C) 35

13) Karagöz, hanımı ve oğlunun yaşları toplamı kaçtır?

- A) 65      B) 75      C) 85

14)

$$\begin{array}{r} 23 \\ +58 \\ \hline \end{array}$$



- ▲ Tahmini sonuç 70'dir.  
 ■ Gerçek sonuç 71'dir.  
 ● Fark 1'dir.

Nehir, yukarıdaki toplama işleminin tahmini sonucunu, gerçek sonucunu ve tahmini sonuç ile gerçek sonuç arasındaki farkı bulmuştur.

Nehir'in cevaplarından hangisi veya hangileri doğrudur?

- A) ▲, ■ ve ●  
 B) ▲ ve ■  
 C) Yalnız ●

15) Yandaki işlemde ★ ile belirtilen yere hangi sayı yazılmalıdır?

$$\begin{array}{r} 75 \\ - \dots \\ \hline 30 \end{array} \quad \begin{array}{r} \dots \\ + \dots \\ \hline 80 \end{array}$$

- A) 25      B) 35      C) 45

16)

$$24 + 37 = 73 - \text{☀}$$

$$12 + \text{☁} = 48 - 24$$

Yukarıda verilen eşitliklere göre "☀ + ☁ = ?" işleminin sonucu kaçtır?

- A) 24      B) 26      C) 28

17)



İçinde 25 yolcu olan bir otobüs durakta durmuştur. Durakta otobüse 17 yolcu binmiş ve otobüsten 8 yolcu inmiştir.

Otobüs duraktan kaç yolcu ile hareket etmiştir?

- A) 34      B) 40      C) 50

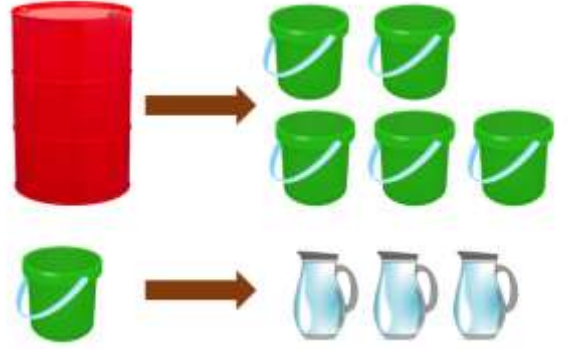
18)



Yukarıdaki tişörtü ve pantolonu almak için satıcıya 80 lira veren Miraç kaç lira para üstü almalıdır?

- A) 7      B) 11      C) 17

19)




Bir varil 5 kova su ile dolmaktadır. Bir kova ise 3 sürahi su ile dolmaktadır.

Verilen bilgiye göre bir varili doldurmak için kaç sürahi su gereklidir?

- A) 8      B) 15      C) 24

20)



İlayda defterine hayalindeki ağacı çizmek istiyor.

İlayda'nın hayalindeki ağacı çizmek için hangi geometrik cisme ihtiyacı yoktur?

- A) Küp  
B) Silindir  
C) Dikdörtgen prizma

21) Evimizdeki kaynakları ..... kullanmalıyız. Kaynakları boş yere harcamak ..... zarar verir.

Yukarıdaki paragrafta boş bırakılan yerlere sırası ile hangi sözcükler yazılmalıdır?

- A) düzenli-sağlığımıza
- B) bilinçli-komşularımıza
- C) tasarruflu-aile bütçemize




22)



Görseldeki çocuğun yardım etmek için hangi ifadeyi kullanması yanlıştır?

- A) Yardım etmemi ister misiniz?
- B) Size yardımcı olabilir miyim?
- C) Bensiz geçemezsin değil mi?

23) Aşağıdaki çocuklardan hangisi işlerimizi planlama ile ilgili yanlış bir ifade kullanmıştır?

- A)  Plan yaparken önceliğim oyunlardır.
- B)  Yapacaklarımı önceden planlarım.
- C)  Her gün düzenli olarak kitap okurum.

24) Korona virüs salgını nedeniyle okullar kapanmış, uzaktan eğitim başlamıştı. Elif'in geçmişteki bir isteği, Elif için artık ihtiyaç olmuştu.



Metinde bahsedilen ihtiyaç aşağıdakilerden hangisi olabilir?

- A) 
- B) 
- C) 

- 25) ▲ Elleri yıkamak.  
● Kahvaltı yapmak.  
■ Çizgi film izlemek.  
◆ Banyo yapmak.

Yukarıdaki cümlelerden hangisi veya hangileri sağlıklı büyüme ve gelişme ile ilgili değildir?

- A) Yalnız ■  
B) ● ve ■  
C) ▲ ve ◆

26) Hangisi besinlerin faydalarından biri değildir?

- A) Büyüyüp gelişmemizi sağlarlar.  
B) Hastalıklara karşı dirençli olmamızı sağlarlar.  
C) Büyüklere karşı saygılı olmamızı sağlarlar.

27) Aşağıdakilerden hangisi sağlığımız için yararlı bir besin kaynağı değildir?



28) Hangisi sağlığımız için çalışan mesleklerden biri değildir?

- A) Polis B) Hemşire C) Doktor

29)



Bizim evde balığın ustası babamdır. Yine bir akşam yemeğinde babam balık yapmıştı. Ailece sofraya oturduk. Yemeğe ailemle birlikte başladım. Herkes birbirine “afiyet olsun.” dedi. Tabağımdaki balığın hepsini bitirdim. Sofradan kalkarken anneme “Ellerine sağlık.” demeyi de unutmadım.

Yukarıda anlattıklarına göre çocuğun hangi davranışı yanlıştır?

- A) Yemeğe ailesiyle birlikte başlamış.  
B) Tabağındaki balığı bitirmiş.  
C) Annesine “Ellerine sağlık.” demiş.

30)



Gel vatandaş gel.  
Ayvalar dalından  
yeni koptu.

Hasan amcanın cümlesinden yola çıkarak hangi mevsim olduğu söylenebilir?

- A) Sonbahar B) Kış C) İlkbahar

## Cevap Anahtarı

1-B 2-B 3-C 4-A 5-B 6-B 7-C 8-B 9-A 10-C 11-B 12-B 13-C 14-C 15-B 16-A 17-A  
18-C 19-B 20-A 21-C 22-C 23-A 24-B 25-A 26-C 27-B 28-A 29-C 30-A