



Adı Soyadı :

Numarası :

Konu: Haydi Biz de Ölçelim

Aşağıdaki nesnelerin ölçümünü standart olmayan ölçme aracıyla numara vererek örnekteki gibi eşleştiriniz.

1



2




3



4



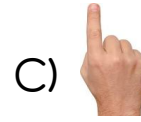
5




1) Yandaki dolabı Ali 8 karış, Mert 7 karış, Oruç Reis 9 karış ölçtü. Çocuklar niçin farklı sonuçlar bulmuşlardır? 🖐️

- A) Çocuklar boylarının uzunluğu aynı olmadığı için.
- B) Çocukların karış uzunlukları farklı olduğu için.
- C) Çocuklar aynı yaşta olmadığı için

2) Yandaki tırın uzunluğunu hangi standart olmayan uzunluk ölçü aracıyla ölçeriz? 🚚




3)



Yukarıdaki hayvanların boylarını karşılaştıralım. Buna göre hangi ifade yanlıştır?

- A) Hayvanlardan en uzun zürafadır.
- B) Kaplan zürafadan kısadır.
- C) Fil ile Kaplan aynı boydadır.

4) Görseldeki hayvanları kısından uzuna doğru boy sırasına koyalım. Buna göre atın yeri neresi olur?



- A) Sincap ile kurtun arasındadır.
- B) En arkadadır.
- C) Köpek ile filin arasındadır.