









Adı Soyadı :

Numarası :

Konu: Tabloları Okuyalım

Tabloyu dikkatlice inceleyiniz. Soruları tabloya göre cevaplayınız.

Hayvanlar	Hayvan Sayıları
	
	
	
	

1) Hangi hayvanların sayıları birbirine eşittir?

.....

2) Çiftlikte kaç tane tavşan vardır?

.....

3) Çiftlikte kaç tane tavuk vardır?

.....

4) Keçi ve ineklerin toplam sayısı kaçtır?

.....

5) Çiftlikteki toplam hayvan sayısı kaç tanedir?

.....

A) Rize ilimizin 1 haftalık Hava Durumu Tabloda verilmiştir. Dikkatlice inceleyelim. Tabloya göre soruları cevaplayalım.

1) Tabloya göre hava kaç gün yağmurludur?

A) 4 B) 3 C) 2

2) Hava hangi gün kar yağışlıdır?

A) Pazartesi B) Cuma C) Pazar

3) Hava kaç gün güneşlidir?









A) 1 B) 2 C) 3

4) En fazla hangi hava olayı gözlenmiştir?

A) Kar B) Yağmur C) Bulut

Günler	Hava Olayları
Pazartesi	
Salı	
Çarşamba	
Perşembe	
Cuma	
Cumartesi	
Pazar	

B) Tabloya göre soruları yanıtlayalım.

Meyveler	Meyve Sayısı
	
	
	
	

1) Elma ve armutların toplamı kaçtır?

.....

2) Tabloda en az hangi meyve vardır?

.....

3) Armutlar muzlardan kaç fazladır?

.....

4) Tabloda toplam kaç meyve vardır?

.....