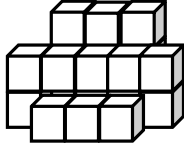


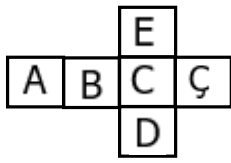
1)



Yukarıdaki şekilde kaç tane birim küp vardır?

- A) 19 B) 20 C) 21 D) 22

2)



Yukarıda açılımı verilen küp aşağıdakilerden hangisidir ?

- A) B)   
C) D)

3)

$$\text{○} + \text{○} + \text{○} = \text{②7}$$

- K 6 A 3 E 12 N 20  
R 8 T 11 P 2 L 9

Yukarıdaki üç sayı kullanılarak toplam 27 elde edilmek isteniyor. Bu durumda hangi kelime ortaya çıkar ?

- A) TEN B) KAN C) TEL D) KEL

4) Bir koşu yarışmasında 7. sırada olan Soner 6. ve 5.'yi geçerse kaçınıncı olur ?

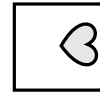
- A) 5. B) 6. C) 4. D) 7.

$$\begin{aligned} \heartsuit + \heartsuit &= 8 & \star\star + \heartsuit\heartsuit &= 18 \\ \diamond + \star &= 13 & \diamond + \heartsuit &= ? \end{aligned}$$

Yukarıdaki işlemlere göre son işlemin toplamı kaçtır?

- A) 16 B) 13 C) 12 D) 15

6)



Yukarıdaki şekil saat yönünde döndürülürse aşağıdaki şekillerden hangisi **oluşmaz** ?

- A) B)   
C) D)


7)

Kasap → Et  
Eczacı → ?

Kelimelerin arasındaki ilişkiye göre soru işareti yerine aşağıdakilerden hangisi gelmelidir ?

- A) ilaç B) şampuan  
C) meyve D) pasta

8)



Görseller arasındaki ilişkiye göre soru işareti yerine aşağıdakilerden hangisi gelmelidir ?

- A) B)   
C) D)