



## SEBEP SONUÇ CÜMLELERİ

\* Aşağıdaki cümlelerdeki sebep ve sonuç ifadelerini yazınız .

\* Dedem hasta olduğu için babam köye gitti.

SebeP: ..... Sonuç:.....

\* Yağmur yağmadığı için barajlarda sular azalmış.

SebeP: ..... Sonuç:.....

\* Kitap alamadı çünkü parasını kaybetmiş.

SebeP: ..... Sonuç:.....

\* Amcam gidince çok üzıldüm.

SebeP: ..... Sonuç:.....

\* Güneş çıkınca karlar eridi.

SebeP: ..... Sonuç:.....

\* Elektrikler gidince karanlıkta kaldık .

SebeP: ..... Sonuç:.....

\* Köpeği görünce kedi kaçtı.

SebeP: ..... Sonuç:.....

\* Problemi yapamadı çünkü çok zordu.

SebeP: ..... Sonuç:.....



## OLUMLU VE OLUMSUZ CÜMLE

\* Aşağıdaki cümlelerde olumsuz cümleyi olumlu hale , olumlu cümleyi olumsuz hale dönüştürelim.

Sinem kaybettiği kalemi bulamamış.  
Sinem kaybettiği kalemi bulmuş.

Babam pazardan karpuz almamış.  
.....

Parktan gelince ellerimi yıkamadım.  
.....

Fatih ve Ozan havuzda yüzmedi.  
.....

Defne kitaptaki problemleri çözemedi.  
.....




Ablam bahçedeki çiçekleri suladı.  
.....

Annem balkondaki çamaşırları topladı.  
.....

Serhat anlattığım fıkraya güldü.  
.....

## KIYAFET SEÇERKEN

1. Etkinlik: Aşağıdaki kıyafet ve ayakkabıları uygun olduğu mevsime göre boyayınız .  
İlkbahar: Yeşil Yaz : Kırmızı Sonbahar: Sarı Kış : Mavi



- 2.Etkinlik: Aşağıdaki resimlerin altına uygun mevsimleri yazınız .



.....



.....



.....




.....


## ÇARPMA İŞLEMİ

1. Etkinlik: Aşağıdaki nesne sayılarını örnekteki gibi önce toplama işlemiyle bulunuz. Sonra çarpma işlemiyle ifade ediniz.


a)


$$\begin{array}{ccccccc} \boxed{2} & + & \boxed{2} & + & \boxed{2} & = & \boxed{6} \\ & & \boxed{3} & \times & \boxed{2} & = & \boxed{6} \end{array}$$


b)


$$\begin{array}{ccccccc} \boxed{\dots} & + & \boxed{\dots} & + & \boxed{\dots} & + & \boxed{\dots} & = & \boxed{\dots} \\ & & \boxed{\dots} & \times & \boxed{\dots} & = & \boxed{\dots} \end{array}$$

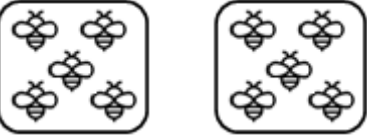
c)


$$\begin{array}{ccccccc} \boxed{\dots} & + & \boxed{\dots} & + & \boxed{\dots} & + & \boxed{\dots} & + & \boxed{\dots} & = & \boxed{\dots} \\ & & \boxed{\dots} & \times & \boxed{\dots} & = & \boxed{\dots} \end{array}$$


d)


$$\begin{array}{ccccccc} \boxed{\dots} & + & \boxed{\dots} & + & \boxed{\dots} & = & \boxed{\dots} \\ & & \boxed{\dots} & \times & \boxed{\dots} & = & \boxed{\dots} \end{array}$$

e)


$$\begin{array}{ccccccc} \boxed{\dots} & + & \boxed{\dots} & = & \boxed{\dots} \\ \boxed{\dots} & \times & \boxed{\dots} & = & \boxed{\dots} \end{array}$$

f)


$$\begin{array}{ccccccc} \boxed{\dots} & + & \boxed{\dots} & + & \boxed{\dots} & + & \boxed{\dots} & + & \boxed{\dots} & = & \boxed{\dots} \\ & & \boxed{\dots} & \times & \boxed{\dots} & = & \boxed{\dots} \end{array}$$



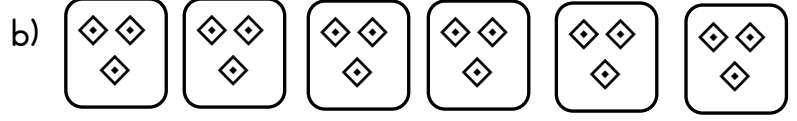
## ÇARPMA İŞLEMİ

1. Etkinlik: Aşağıdaki nesne sayılarını örnekteki gibi önce toplama işlemiyle bulunuz. Sonra çarpma işlemiyle ifade ediniz.




$$2 + 2 = 4$$

$$2 \times 2 = 4$$




$$\dots + \dots + \dots + \dots + \dots + \dots = \dots$$

$$\dots \times \dots = \dots$$




$$\dots + \dots = \dots$$

$$\dots \times \dots = \dots$$




$$\dots + \dots + \dots + \dots + \dots = \dots$$

$$\dots \times \dots = \dots$$



$$\dots + \dots + \dots + \dots = \dots$$

$$\dots \times \dots = \dots$$



$$\dots + \dots + \dots + \dots + \dots + \dots = \dots$$

$$\dots \times \dots = \dots$$

2. Etkinlik: Aşağıdaki cümlelerdeki ve işlemlerdeki noktalı yerleri doldurunuz.

$$2 + 2 + 2 = \dots$$

2

$$3 \times 2 = \dots$$

x3

... tane 2 , ... eder.

... defa 2 , ... 'ya eşittir.

... kere 2 , ... eder.

... çarpı 2 , ... 'ya eşittir.

.....

$$3 + 3 + 3 + 3 = \dots$$

3

$$4 \times 3 = \dots$$

x4

4 ..... 3 , ... eder.

4 ..... 3 , ... 'ye eşittir.

4 ..... 3 , ... eder.

4 ..... 3 , ... 'ye eşittir.

.....

$$4 + 4 + 4 + 4 = \dots$$

4

$$4 \times 4 = \dots$$

x4

... tane 4 , ... eder.

... defa 4 , ... 'ya eşittir.

... kere 4 , ... eder.

... çarpı 4 , ... 'ya eşittir.

.....

$$5 + 5 + 5 = \dots$$

5

$$3 \times 5 = \dots$$

x3

3 ..... 5 , ... eder.

3 ..... 5 , ... 'e eşittir.

3 ..... 5 , ... eder.

3 ..... 5 , ... 'e eşittir.

.....

## ÇARPMA İŞLEMİ

1. Etkinlik: Aşağıdaki toplama işlemlerini örnekteki gibi yaptıktan sonra çarpma işlemiyle ifade ediniz.

a)  $2 + 2 + 2 = 6$   
 $3 \times 2 = 6$



b)  $3 + 3 + 3 + 3 = \dots$   
 $\dots \times \dots = \dots$



c)  $5 + 5 + 5 + 5 + 5 + 5 = \dots$   
 $\dots \times \dots = \dots$



ç)  $4 + 4 = \dots$   
 $\dots \times \dots = \dots$



d)  $2 + 2 + 2 + 2 + 2 = \dots$   
 $\dots \times \dots = \dots$



e)  $3 + 3 + 3 = \dots$   
 $\dots \times \dots = \dots$



f)  $4 + 4 + 4 + 4 + 4 + 4 + 4 = \dots$   
 $\dots \times \dots = \dots$



g)  $5 + 5 + 5 + 5 + 5 = \dots$   
 $\dots \times \dots = \dots$



ğ)  $2+2+2+2+2+2+2+2 = \dots$   
 $\dots \times \dots = \dots$



h)  $4 + 4 + 4 = \dots$   
 $\dots \times \dots = \dots$



ı)  $3+3+3+3+3+3 = \dots$   
 $\dots \times \dots = \dots$



i)  $5+5+5+5+5+5+5+5+5 = \dots$   
 $\dots \times \dots = \dots$



j)  $2+2+2+2+2+2+2+2+2+2 = \dots$   
 $\dots \times \dots = \dots$



k)  $4 + 4 + 4 + 4 + 4 = \dots$   
 $\dots \times \dots = \dots$



l)  $2+2+2+2+2+2+2 = \dots$   
 $\dots \times \dots = \dots$



m)  $4 + 4 = \dots$   
 $\dots \times \dots = \dots$



## ÇARPMA İŞLEMİ

1. Etkinlik: Aşağıdaki çarpma işlemlerini yapalım.

a)  $7 \times 1 = \dots$

b)  $3 \times 1 = \dots$

c)  $4 \times 1 = \dots$

d)  $6 \times 1 = \dots$

e)  $9 \times 1 = \dots$

f)  $2 \times 1 = \dots$

g)  $10 \times 1 = \dots$

ğ)  $1 \times 1 = \dots$

$$\begin{array}{r} 1 \\ \times 3 \\ \hline \end{array}$$

$$\begin{array}{r} 1 \\ \times 9 \\ \hline \end{array}$$

$$\begin{array}{r} 1 \\ \times 6 \\ \hline \end{array}$$

$$\begin{array}{r} 1 \\ \times 8 \\ \hline \end{array}$$

$$\begin{array}{r} 1 \\ \times 5 \\ \hline \end{array}$$

$$\begin{array}{r} 1 \\ \times 4 \\ \hline \end{array}$$

$$\begin{array}{r} 1 \\ \times 7 \\ \hline \end{array}$$

2. Etkinlik: Aşağıdaki çarpma işlemlerini yapalım. Şifreyi bulalım

a)  $3 \times 2 = \dots$  (R)

b)  $7 \times 2 = \dots$  (M)

c)  $1 \times 2 = \dots$  (I)

d)  $4 \times 2 = \dots$  (Y)

e)  $8 \times 2 = \dots$  (A)

f)  $5 \times 2 = \dots$  (P)

g)  $10 \times 2 = \dots$  (C)

ğ)  $6 \times 2 = \dots$  (L)

20	16	6	10	14	16		8	16	10	16	12	2	14
...	...	...	...	...	...		...	...	...	...	...	...	...

$$\begin{array}{r} 2 \\ \times 4 \\ \hline \end{array}$$

$$\begin{array}{r} 2 \\ \times 8 \\ \hline \end{array}$$

$$\begin{array}{r} 2 \\ \times 5 \\ \hline \end{array}$$

$$\begin{array}{r} 2 \\ \times 7 \\ \hline \end{array}$$

$$\begin{array}{r} 2 \\ \times 2 \\ \hline \end{array}$$

$$\begin{array}{r} 2 \\ \times 6 \\ \hline \end{array}$$

$$\begin{array}{r} 2 \\ \times 9 \\ \hline \end{array}$$

3. Etkinlik: Aşağıdaki çarpma işlemlerini yapalım.

a)  $4 \times 3 = \dots$

b)  $7 \times 3 = \dots$

c)  $3 \times 3 = \dots$

d)  $8 \times 3 = \dots$

e)  $10 \times 3 = \dots$

f)  $9 \times 3 = \dots$

g)  $1 \times 3 = \dots$

ğ)  $5 \times 3 = \dots$

$$\begin{array}{r} 3 \\ \times 5 \\ \hline \end{array}$$

$$\begin{array}{r} 3 \\ \times 6 \\ \hline \end{array}$$

$$\begin{array}{r} 3 \\ \times 1 \\ \hline \end{array}$$

$$\begin{array}{r} 3 \\ \times 9 \\ \hline \end{array}$$

$$\begin{array}{r} 3 \\ \times 2 \\ \hline \end{array}$$

$$\begin{array}{r} 3 \\ \times 7 \\ \hline \end{array}$$

$$\begin{array}{r} 3 \\ \times 3 \\ \hline \end{array}$$



## ÇARPMA İŞLEMİ

1. Etkinlik: Aşağıdaki çarpma işlemlerini yapalım.

a)  $7 \times 4 = \dots$

b)  $3 \times 4 = \dots$

c)  $4 \times 4 = \dots$

d)  $6 \times 4 = \dots$

e)  $9 \times 4 = \dots$

f)  $2 \times 4 = \dots$

g)  $10 \times 4 = \dots$

ğ)  $1 \times 4 = \dots$

$$\begin{array}{r} 4 \\ \times 3 \\ \hline \end{array}$$

$$\begin{array}{r} 4 \\ \times 9 \\ \hline \end{array}$$

$$\begin{array}{r} 4 \\ \times 6 \\ \hline \end{array}$$

$$\begin{array}{r} 4 \\ \times 8 \\ \hline \end{array}$$

$$\begin{array}{r} 4 \\ \times 5 \\ \hline \end{array}$$

$$\begin{array}{r} 4 \\ \times 4 \\ \hline \end{array}$$

$$\begin{array}{r} 4 \\ \times 7 \\ \hline \end{array}$$

2. Etkinlik: Aşağıdaki çarpma işlemlerini yapalım.

a)  $4 \times 5 = \dots$

b)  $7 \times 5 = \dots$

c)  $3 \times 5 = \dots$

d)  $8 \times 5 = \dots$

e)  $10 \times 5 = \dots$

f)  $9 \times 5 = \dots$

g)  $1 \times 5 = \dots$

ğ)  $6 \times 5 = \dots$

$$\begin{array}{r} 5 \\ \times 5 \\ \hline \end{array}$$

$$\begin{array}{r} 5 \\ \times 6 \\ \hline \end{array}$$

$$\begin{array}{r} 5 \\ \times 1 \\ \hline \end{array}$$

$$\begin{array}{r} 5 \\ \times 9 \\ \hline \end{array}$$

$$\begin{array}{r} 5 \\ \times 2 \\ \hline \end{array}$$

$$\begin{array}{r} 5 \\ \times 7 \\ \hline \end{array}$$

$$\begin{array}{r} 5 \\ \times 3 \\ \hline \end{array}$$

3. Etkinlik: Aşağıdaki noktalı yerleri uygun sayılarla dolduralım.

2 kere 5 , ..... eder.

3 kere 4 , ..... eder.

4 kere 2 , ..... eder.

5 kere 3 , ..... eder.

6 kere 2 , ..... eder.

4 kere 4 , ..... eder.

6 kere 5 , ..... eder.

7 kere 3 , ..... eder.

2 kere 2 , ..... eder.

8 kere 1 , ..... eder.

10 kere 4 , ..... eder.

8 kere 3 , ..... eder.

7 kere 2 , ..... eder.

9 kere 1 , ..... eder.

4 kere 5 , ..... eder.

1 kere 3 , ..... eder.

2 kere 4 , ..... eder.

4 kere 1 , ..... eder.

5 kere 2 , ..... eder.

5 kere 5 , ..... eder.

6 kere 3 , ..... eder.

7 kere 4 , ..... eder.

9 kere 2 , ..... eder.

9 kere 3 , ..... eder.