



Adı Soyadı :

Numarası :

Konu: Saatler Etkinliği 4

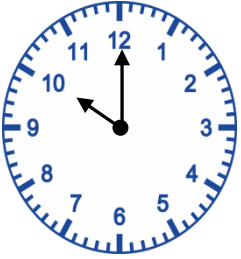
Aşağıdaki saatleri okunuşları ile eşleştirelim.



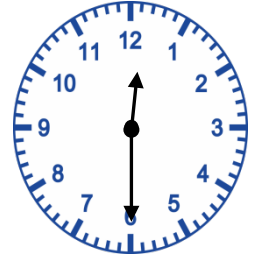
12 buçuk



10



11' i 25 geçiyor



8'i 20 geçiyor.



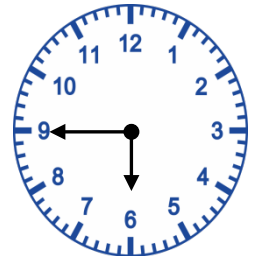
6 buçuk



3'ü 5 geçiyor.



9' u 15 geçiyor.



5'e 5 dakika var.





7'ye 10 dakika var.




6' ya 15 dakika var.

Aşağıdaki saatlerin öğlede önce ve öğleden sonra kaç gösterdiklerini örnekteki gibi yazalım.


	Öğleden önce
	11 . 05
	Öğleden sonra
	23 . 05

	Öğleden önce

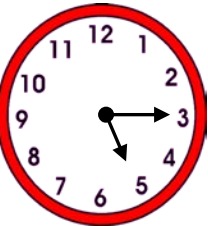
	Öğleden sonra

	Öğleden önce


	Öğleden sonra

	Öğleden önce


	Öğleden sonra

	Öğleden önce


	Öğleden sonra

	Öğleden önce


	Öğleden sonra

	Öğleden önce

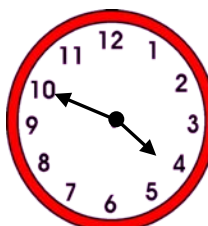
	Öğleden sonra

	Öğleden önce

	Öğleden sonra

	Öğleden önce

	Öğleden sonra

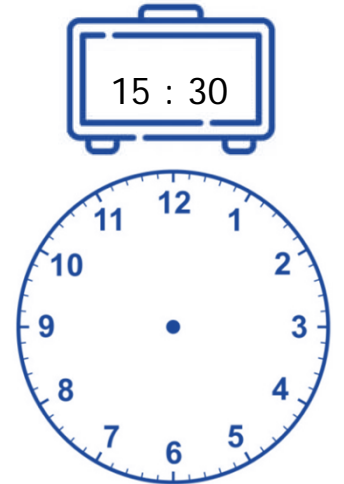
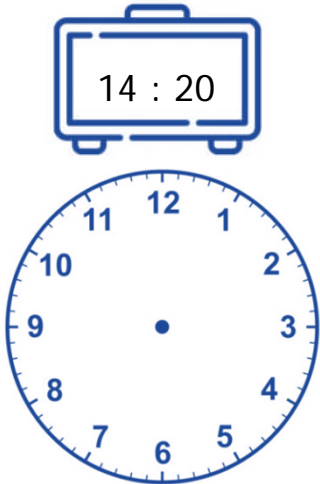

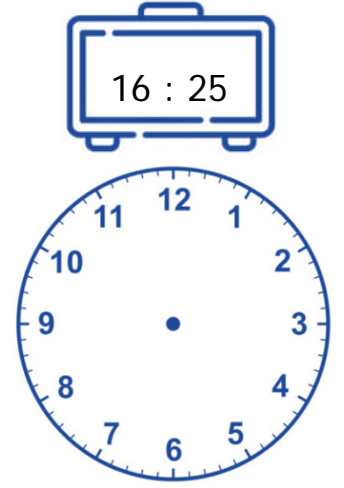
	Öğleden önce

	Öğleden sonra

Dijital saatleri analog saatler üzerinde gösterelim.



Aşağıda verilen dijital saatleri analog saatler üzerinde akrep ve yelkovan çizerek gösteriniz.



Aşağıda saat ve dakika olarak verilen zamanları örnekteki gibi dakika olarak yazınız.

1 saat 20 dakika



$$60 \text{ dakika} + 20 \text{ dakika} = 75 \text{ dakika}$$

2 saat 15 dakika



$$\dots \text{ dakika} + \dots \text{ dakika} = \dots \text{ dakika}$$

3 saat 5 dakika



$$\dots \text{ dakika} + \dots \text{ dakika} = \dots \text{ dakika}$$

3 saat 40 dakika



$$\dots \text{ dakika} + \dots \text{ dakika} = \dots \text{ dakika}$$

4 saat 25 dakika



$$\dots \text{ dakika} + \dots \text{ dakika} = \dots \text{ dakika}$$

5 saat 20 dakika




$$\dots \text{ dakika} + \dots \text{ dakika} = \dots \text{ dakika}$$

6 saat 10 dakika



$$\dots \text{ dakika} + \dots \text{ dakika} = \dots \text{ dakika}$$

7 saat 15 dakika



$$\dots \text{ dakika} + \dots \text{ dakika} = \dots \text{ dakika}$$

Aşağıdaki zamanları örnekteki gibi saat ve dakika olarak yazınız.

85 dakika

$$85 - 60 = 25$$

1 saat 25 dakika

70 dakika

$$\dots - \dots = \dots$$

\dots saat \dots dakika

90 dakika

$$\dots - \dots = \dots$$

\dots saat \dots dakika

100 dakika

$$\dots - \dots = \dots$$

\dots saat \dots dakika

95 dakika

$$\dots - \dots = \dots$$

\dots saat \dots dakika

75 dakika

$$\dots - \dots = \dots$$

\dots saat \dots dakika

65 dakika

$$\dots - \dots = \dots$$

\dots saat \dots dakika

105 dakika

$$\dots - \dots = \dots$$

\dots saat \dots dakika

80 dakika

$$\dots - \dots = \dots$$

\dots saat \dots dakika