

Adı Soyadı :

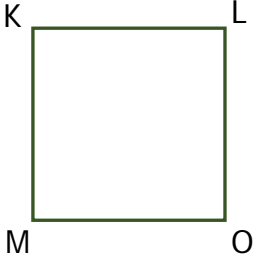
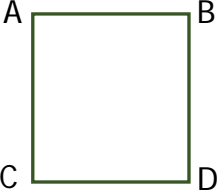
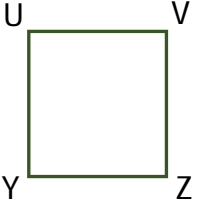

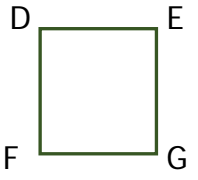
Numarası :

Konu: Üçgen, Kare ve Dikdörtgenin Kenarlarını ve Köşelerini İsimlendirme Etkinliği




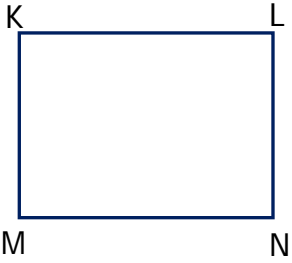

Aşağıdaki tabloda verilen üçgenlerin okunuşlarını, kenarlarını ve köşelerini örnekteki gibi dolduralım.

Geometrik Şekiller	Okunuşu (İsimlendirme)	Köşeleri	Kenarları
	KLM üçgeni LMK üçgeni MKL üçgeni	K köşesi L köşesi M köşesi	KL kenarı LM kenarı MK kenarı

Aşağıdaki tabloda verilen karelerin okunuşlarını, kenarlarını ve köşelerini dolduralım.

Geometrik Şekiller	Okunuşu (İsimlendirme)	Köşeleri	Kenarları






Aşağıdaki tabloda verilen dikdörtgenlerin okunuşlarını, kenarlarını ve köşelerini dolduralım.

Geometrik Şekiller	Okunuşu (İsimlendirme)	Köşeleri	Kenarları






Aşağıda verilen geometrik şekillerin köşelerini isimlendirelim. Noktalı yerlere geometrik şekillerin isimlerini farklı şekilde yazalım.



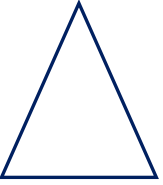
İsimlendirme

.....
.....
.....
.....




İsimlendirme

.....
.....
.....
.....



İsimlendirme

.....
.....
.....



İsimlendirme

.....
.....
.....



İsimlendirme

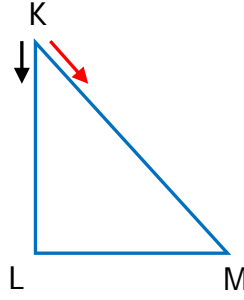
.....
.....
.....
.....



İsimlendirme

.....
.....
.....
.....

Aşağıda verilen geometrik şekillerin kenarlarını örnekteki gibi farklı şekilde isimlendirelim.



Kenarları

KL kenarı

LM kenarı

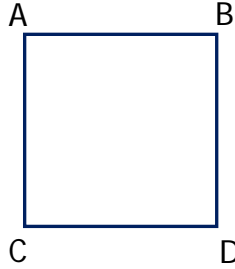
MK kenarı

Kenarları

KM kenarı

ML kenarı

LK kenarı



Kenarları

.....

.....

.....

.....


Kenarları

.....

.....

.....

.....



Kenarları

.....

.....

.....

.....

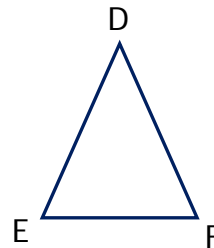
Kenarları

.....

.....

.....

.....



Kenarları

.....

.....

.....

Kenarları

.....

.....

.....