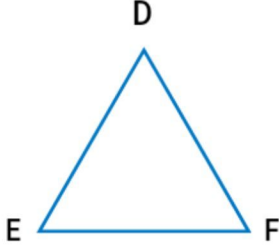


1)



Yukarıda verilen üçgen, saat yönünde isimlendirilirse aşağıdakilerden hangisi gibi olmaz?

- A) $\triangle DEF$ üçgeni B) $\triangle DFE$ üçgeni
C) $\triangle FED$ üçgeni D) $\triangle EDF$ üçgeni

2)



Yukarıda verilen dikdörtgen aşağıdakilerden hangisi gibi isimlendirilemez?

- A) VYZT dikdörtgeni
B) YVTZ dikdörtgeni
C) YTZV dikdörtgeni
D) ZTVY dikdörtgeni

3)



Yandaki kare, Y köşesinden başlanarak saat yönünde isimlendirilirse aşağıdaki sonuçlardan hangisi ortaya çıkacaktır?

- A) DYRM karesi B) RDMY karesi
C) MDRY karesi D) YRMD karesi

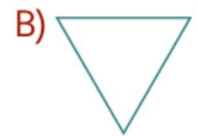
4) Üçgen ile ilgili aşağıda verilen bilgilerden hangisi yanlıştır?

- A) Üçgenin üç köşesi vardır.
B) Üçgenin üç kenarı vardır.
C) Üçgen isimlendirilirken harflerin üstüne \triangle işareti konur.
D) Üçgenin dört köşesi vardır.

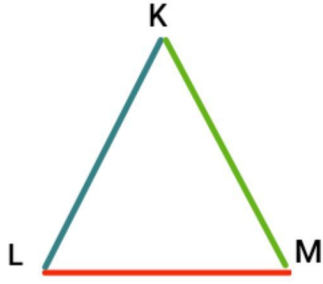
5) Dikdörtgen ile ilgili aşağıda verilen bilgilerden hangisi yanlıştır?

- A) Dikdörtgen isimlendirilirken beş tane harf kullanılır.
B) Dikdörtgenin dört köşesi vardır.
C) Dikdörtgenin dört kenarı vardır.
D) Dikdörtgenin iki kenarı uzun, diğer iki kenarı ise kısadır.

6) Aşağıdaki geometrik şekiller kenar ve köşe sayılarına göre gruplandırılırsa hangi şıktaki şekil dışarıda kalmalıdır?



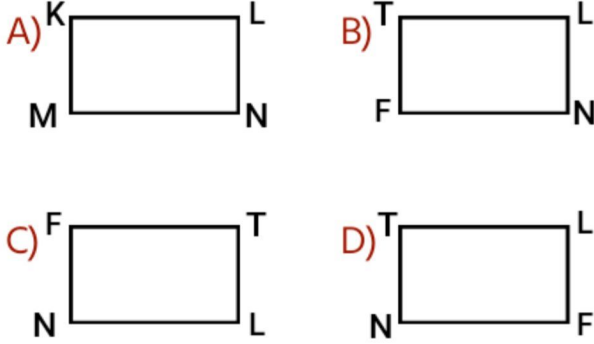
7)




Aşağıdakilerden hangisi, verilen üçgenin kenar isimlerinden biri olamaz?

- A) [LK] kenarı B) [KM] kenarı
C) [ML] kenarı D) [MN] kenarı

8) Aşağıdaki dikdörtgenlerden hangisi, TLFN dikdörtgeni olarak isimlendirilebilir?



9)



Şıklarda verilenlerden hangisi yukarıda verilen karenin kenarlarından biri olamaz?

- A) [DR] B) [DT] C) [TF] D) [FD]

10)

Arkadaşlar, bu üçgenin köşelerini G, H ve K olarak belirlersek, üçgenimizi kaç farklı şekilde isimlendirebiliriz?

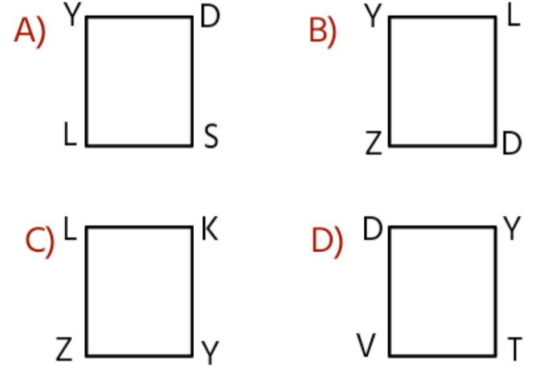


Sema'nın sorusunun cevabı aşağıdakilerden hangisidir?

- A) 6 B) 7 C) 8 D) 9

11)

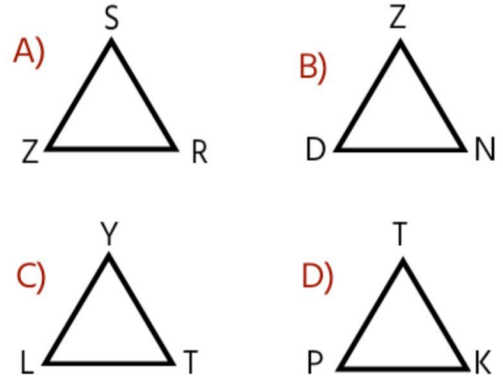
Köşelerindeki harfler sırasıyla "YILDIZ" kelimesinin sessiz harfleri olan dikdörtgen, aşağıdakilerden hangisidir?



12)

[SR] kenarı
[ZN] kenarı
[PT] kenarı

Yanda verilen kenar isimleriyle aşağıdaki üçgenler eşleştirildiğinde hangi şıkta bulunan üçgen dışta kalmalıdır?



CEVAP ANAHTARI

1- A

2- C

3- D

4- D

5- A

6- B

7- D

8- D

9- B

10- A

11- B

12- C