

1)



Aşağıdakilerden hangisi saatin **uzun** veya **kısa** koluna verilen isimlerden biri değildir?

- A) yengeç B) yelkovan C) akrep

2)

Analog ve dijital olmak üzere iki tür saat kullanırız.	
Saatin üzerinde 12 sayı olduğu için 1 gün 12 saattir.	
1 saat 30 dakika, 2 saat ise 60 dakikadır.	

Yukarıdaki bilgilerden doğru olanlara **D**, yanlış olanlara **Y** yazarsak nasıl bir görüntü oluşur?

- A)

Y
D
Y

 B)

Y
D
D

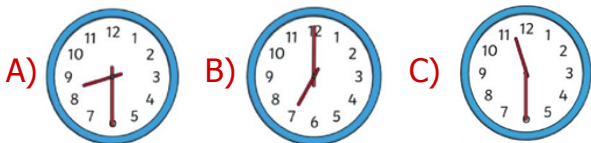
 C)

D
Y
Y

3)



Selim her sabah saat **7'de** uyanmaktadır. Buna göre Selim'in uyanma saati şıklardan hangisidir?



4)



Yukarıdaki duvar saatine göre **Polat** saat kaçta kahvaltıya başlamıştır?

- A) 08.09 B) 09.40 C) 07.45

5)



Yukarıdaki saatin okunuşu aşağıdakilerden hangisidir?

- A) Beşi yirmi geçiyor.
B) Dördü yirmi beş geçiyor.
C) Beşi dört geçiyor.

6)



Yukarıdaki dijital saatlerden kaç tanesi **öğleden sonrayı** göstermez?

- A) 1 B) 2 C) 3

7)

6:15

•

•

5:45

•

•

6:45

•

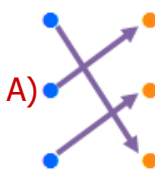
•

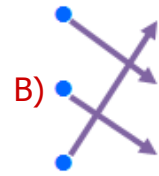
Yediye çeyrek var

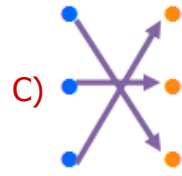
Altıyı çeyrek geçiyor

Altıya çeyrek var

Yukarıdaki dijital saatler ve okunuşları eşleştirilirse nasıl bir **görüntü** oluşur?

A) 

B) 

C) 

8)



Saat beşe çeyrek var. 1 saat sonra canlı ders başlayacak.


Yukarıdaki konuşmaya göre **canlı ders** saat kaçta başlayacaktır?

A) 

B) 

C) 

9)



Merve sabah saat **11.30**'da evden çıktı. Saat **17**'de eve döneceğini annesine söyledi.

Yukarıdaki bilgiye göre **Merve** dışarıda ne kadar vakit geçirecektir?

- A) 7 saat 30 dakika
- B) 6 saat 30 dakika
- C) 5 saat 30 dakika

10)



Saat 16'yı 25 geçiyor.

Yukarıda söylenen saatin analog saatte gösterimiyle ilgili aşağıdaki **bilgilerden** hangisi doğrudur?

- A) Akrep 4'e, yelkovan 5'e gelecek.
- B) Akrep 5'e, yelkovan 4'e gelecek.
- C) Akrep 6'ya, yelkovan 5'e gelecek.





11)

Saati gösteren ve peş peşe gelen her iki sayının arasında beşer dakikalık süre vardır.


Yukarıdaki bilgiye göre **2 ile 7 sayıları** arasında toplam kaç dakikalık süre vardır?

- A) 20 B) 25 C) 30

12)

Öğleden Önce		Öğleden Sonra
07.10		
		16.40


Yukarıdaki tabloya göre çiçeklerin yerine hangisi yazılmalıdır?

- 

A) 04.40 - 19.10

B) 06.40 - 17.10

C) 19.19 - 04.04



CEVAP ANAHTARI

- 1) A
- 2) C
- 3) B
- 4) C
- 5) A
- 6) B
- 7) B
- 8) C
- 9) C
- 10) A
- 11) B
- 12) A