


1)




Hakan, duvarın arkasını görememekte fakat orada bir **kedinin** olduğunu anlamaktadır.

Bu **durumun** açıklaması aşağıdakilerden hangisidir?

- A) Kedilerin sesi, diğer hayvanların seslerinden daha şiddetlidir.
- B) Ses kaynağını göremesek de oluşan sesi duyabiliriz.
- C) Duvarın kısa olması Hakan'ın duyma kabiliyetini olumsuz etkilemiştir.

2)



Ali, **Faruk'un öğretmene** sorduğu soruyu dinlemesine rağmen anlamamıştır. Yukarıdaki durumun sebebi aşağıdakilerden hangisi olabilir?

- A) Yüksek şiddetteki sesleri duyamayız.
- B) Mesafe sesin şiddetini etkilemez.
- C) Ses kaynağından uzaklaştıkça sesin şiddeti azalır.




3)

İnsanlar tarafından yapılan, ses çıkaran eşya ve cihazlara**1**..... ses kaynakları , insan etkisi olmadan, kendiliğinden ses çıkaran kaynaklara**2**..... ses kaynakları denir.

Yukarıdaki tanımda **noktalı alanlara** aşağıdakilerden hangisi gelmelidir?

- | | |
|----------|----------|
| <u>1</u> | <u>2</u> |
| A) güçlü | - yapay |
| B) yapay | - doğal |
| C) insan | - hayvan |

4)

	Ses kaynaklarının yerini <u>tat alma duyumuzla belirleriz.</u>
	İnsanlar doğadaki tüm sesleri <u>duyabilirler.</u>
	Kaynaktan uzaklaştıkça sesin <u>şiddeti artmaz.</u>

Her biri bir şekil ile eşleştirilen cümlelerden hangisi **yanlış** değildir?

- A)  B)  C) 

5) Aşağıdaki ses kaynaklarını gruplandırırsak hangisi bu grubun **dışında** kalır?

- A)  B)  C) 




		Yapay ses kaynağı
		Doğal ses kaynağı
		Doğal ses kaynağı
		Yapay ses kaynağı


Yukarıdaki **tabloda**, ses kaynakları ile ilgili kaç tane hata yapılmıştır?




- A) 1 B) 2 C) 3

Şelale sesi	Düdük sesi	Siren sesi
Davul sesi	Dalga sesi	Kurbağa sesi

Yukarıdaki tablodaki ses kaynaklarından, doğal olmayanları boyarsak ortaya nasıl bir **görüntü** çıkar?

- A)  B) 
- C) 

8)  Aşağıdaki kaynaklardan hangisi, **yandaki** ses kaynağı ile aynı grupta yer alır?

- A)  B)  C) 



Zeynep **yapay ses kaynaklarının** yazılı olduğu balonları vurmak istiyor. Buna göre kaç adet balonu vurmamalıdır?

- A) 3 B) 2 C) 1



Leyla, annesi, babası ve kardeşi pikniğe gitmişlerdi. Piknik alanı ağaçlarla çevrili ve çok güzeldi. Kuşların civıltısı, yaprakların hışırtısı ve hafif rüzgâr, güz mevsiminin habercisiydi. Masaya koyulan tabak, bardak sesleri ve ateşe koyulan etlerin pişme sesi iştahları artırıyordu. Akşam olunca yağmur ve gök gürültüsü eşliğinde evlerine döndüler.

10 ve 11. Soruları metne göre cevaplayınız.

10) Aşağıdaki **ses kaynaklarından** hangisi metinde geçmemektedir?

- A) masa B) rüzgar C) uçurtma

11) Aşağıdakilerden hangisi metinde geçen **doğal** ses kaynaklarından değildir?

- A)  B)  C) 

CEVAP ANAHTARI

- 1) B
- 2) C
- 3) B
- 4) C
- 5) A
- 6) A
- 7) C
- 8) B
- 9) A
- 10) C
- 11) B