

## ÇANAKKALE GEÇİLMEZ

Gelmeyiniz ey düşmanlar,  
Çanakkale geçilmez.  
Bekler nice kahramanlar,  
Çanakkale geçilmez.



On sekiz mart zaferini,  
Herkes tanır Türk askerini,  
Ölür de vermez yerini,  
Çanakkale geçilmez.

Ali Osman ATAK

(İlk 4 soruyu metne göre cevaplayınız.)

- 1) Çanakkale'de kimler beklermiş?
  - A) Düşmanlar
  - B) Kahramanlar
  - C) Dostlar
- 2) Çanakkale Zaferi hangi tarihte kutlanır?
  - A) 18 Mart
  - B) 23 Nisan
  - C) 19 Mayıs
- 3) Şiirin konusu nedir?
  - A) İstanbul'un Fethi
  - B) Çanakkale Zaferi
  - C) Zafer Bayramı

- 4) Metin ile ilgili verilen bilgilerden hangisi yanlıştır?
  - A) Metnin türü şiirdir.
  - B) Şiir iki dizeden oluşmuştur.
  - C) Şairi Ali Osman ATAK'tır.
- 5) Hangi seçenekte zıt anlamlı sözcükler yanlış eşleştirilmiştir?
  - A) Dost-Düşman
  - B) Savaş-Barış
  - C) Gel-Gelme

6)

Benim tatlı bir kedim var.



Yukarıdaki cümleyi oluşturan sözcüklerden hangisinin zıt anlamlısı yoktur?

A)

B)

C)

- 7) Hangi cümlede altı çizili sözcük zıt anlamlı bir sözcük değildir?
  - A) Okulumu çok özlemiştim.
  - B) İyi ki okullar açıldı.
  - C) Her gün okula gidiyorum.

- 8) Yaz Otur Dur

Yukarıdaki sözcüklerin zıt anlamlı-  
ları sırası ile hangi seçenekte doğru  
verilmiştir?

- A) Kış-Git-Kalk  
B) Sil-Kalk-Git  
C) Sil-Kalk-Durma

- 9) ▲  $8 \times 3 =$   
■  $5 \times 5 =$   
●  $6 \times 4 =$

Yukarıdaki çarpma işlemlerinden  
hangilerinin sonucu aynıdır?

- A) ▲ ve ■  
B) ▲ ve ●  
C) ■ ve ●

- 10) Yedi kere üç kaç eder?

Yukarıda okunuşu verilen çarpma  
işlemi hangi seçenekte doğru bir  
şekilde yazılarak cevaplanmıştır?

- A)  $7 \times 3 = 21$   
B)  $3 \times 7 = 18$   
C)  $7 \times 3 = 24$

- 11) Aşağıdaki çarpma işlemlerinden  
hangisinin sonucu yanlıştır?

- A)  $3 \times 6 = 18$   
B)  $4 \times 8 = 24$   
C)  $5 \times 9 = 45$

- 12)  $2 \times 8 = \text{▲}$   $4 \times 7 = \text{■}$

Yukarıda verilen işlemlere göre  
“ $\text{▲} + \text{■} = ?$ ” işleminin sonucu  
kaçtır?

- A) 37 B) 44 C) 51

- 13) Bir elde 5 parmak ol-  
duğuna göre 7 elde  
kaç parmak vardır?



- A) 25 B) 30 C) 35

- 14) Ayşe balkondaki 10  
tane saksıya 2'şer tane  
çiçek dikecektir.



Yukarıda verilen bilgiye göre Ay-  
şe'nin kaç çiçeğe ihtiyacı vardır?

- A) 12 B) 16 C) 20

- 15) Zeynep hafta içi her gün 6 saat canlı derse katılmaktadır.



Buna göre Zeynep bir haftada kaç saat canlı derse katılmaktadır?

- A) 25      B) 30      C) 36

- 16) Bahçeden topladığımız ayvaları 4 kasaya eşit şekilde dağıttık. Her kasada 9'ar tane ayva oldu.




Verilen bilgiye göre bahçeden kaç ayva toplanmıştır?

- A) 36      B) 40      C) 45

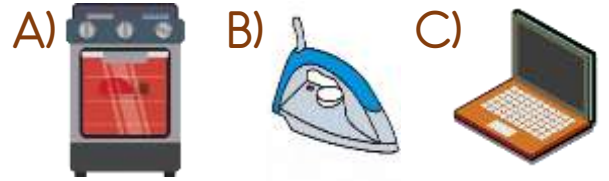
- 17) Aşağıdakilerden hangisi teknolojik aletlerin olumlu bir özelliğidir?




- A) Vakit kaybına neden olur.  
B) Hayatımızı kolaylaştırır.  
C) Gözlerimizi bozabilir.

- 18) Aşağıdaki teknolojik aletlerden hangisi sağlık alanında kullanılır?



- 19) Hangi teknolojik aleti tek başımıza kullanabiliriz?



- 20)  Elektrikle çalışır.  
 Çalışırken ses çıkarır.  
 Temizlik amaçlı kullanılır.

Yukarıda özellikleri verilen teknolojik alet aşağıdakilerden hangisidir?



## Cevap Anahtarı

1-B 2-A 3-B 4-B 5-C 6-B 7-C 8-B 9-B 10-A 11-B 12-B 13-C 14-C 15-B 16-A  
17-B 18-A 19-C 20-B