




Adı Soyadı :

Numarası :

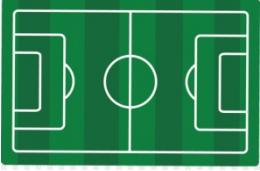
Konu: Düzlem ve Düzlemsel Şekil Etkinliği

İfadelerdeki noktalı yerlere "düzlem modeli veya düzlemsel şekil" sözcüklerinden uygun olanı yazınız.




Satranç tahtası dir.

Satranç tahtasının üzerindeki çizgiler dir.



Futbol sahası dir.

Futbol sahasındaki çizgiler dir.



Yapboz dir.

Yapbozun üzerindeki çizgiler dir.



Duvar dir.

Duvardaki çizgiler dir.



Halı dir.

Halının üzerindeki şekiller ve desenler dir.







Tablo dir.

Tablonun üzerindeki resimler dir.

1) Aşağıdakilerden hangisi düzlem modeline örnektir?

- A) Vazo
- B) Arabanın tekeri
- C) Sandalye
- D) Ayna

2) Aşağıdakilerin hangisinde düzlemsel şekil yoktur?

- A)  B) 
- C)  D) 

3) Düzlemle ilgili ifadelerden hangisi yanlıştır?

- A) Düzlem belirli büyüklük ve genişlikte olabilir.
- B) Her düzlemin üzerinde düzlemsel şekil bulunur.
- C) Düzlemler düz yüzeylerden oluşur.
- D) Düzlemler sınırsız da olabilir.

- 4)
 - Sıranın yüzeyi
 - Penceredeki cam
 - Sınıf tahtasının yüzeyi
 - Karpuzun yüzeyi

Yukarıdakilerden kaç tanesi düzlem modelidir?

- A) 1 B) 2 C) 3 D) 4

5) Aşağıdakilerden hangisi düzlemsel şekile örnektir?

- A) Odanın duvarı
- B) Türkiye Haritası
- C) Çizgisiz kağıt
- D) Tangram parçası

6)



Yukarıdaki görselle ilgili hangi ifade yanlıştır?

- A) Tahtanın yüzeyi düzlem modelidir.
- B) Duvardaki pano düzlemsel şekildir.
- C) Elma, düzlem modelidir.
- D) Masanın yüzeyi düzlem modelidir.