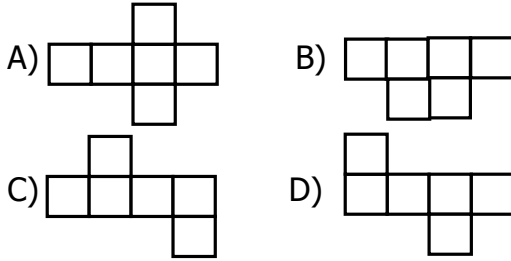


Yukarıdaki 6 tane kare şeklindeki eş yüz hangi geometrik cisime aittir ?

- A) Kare prizma B) Dikdörtgen prizma
C) Küp D) Silindir

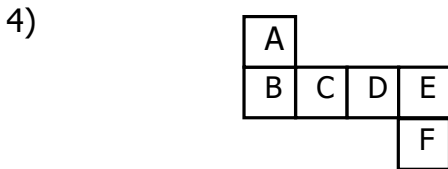
2) Aşağıdakilerden hangisi ile bir küp **oluşturamaz** ?



- 3) Küpün 6 tane eş yüzü vardır.
 Küpün 4 yüzü dikdörtgen bölgedir.
 Küpün 8 köşesi vardır

Yukarıdaki ifadelerde doğru olana "D", yanlış olana "Y" yazdığımızda sıralama nasıl olur?

- A) DYD B) DDD C) YYD D) DYY



Açık olarak verilmiş küp katlandığında A harfinin karşısına hangi harf gelir?


- A) B B) F C) D D) E

5) 42 tane eş kare şeklindeki yüzden kaç tane küp elde edilir?

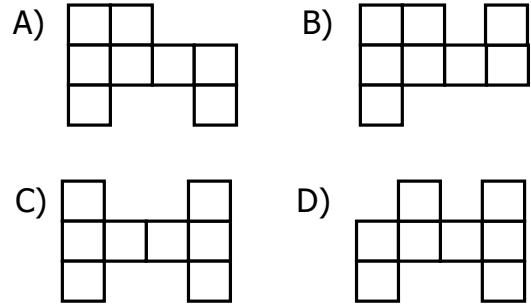
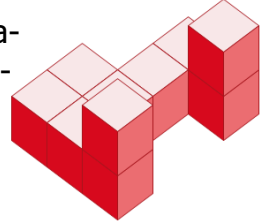
- A) 8 B) 6 C) 5 D) 7

6) Yandaki yapıda kaç tane küp vardır?

- A) 21 B) 19
C) 20 D) 22



7) Yandaki yapının tam yukarıdan görünüşü aşağıdakilerden hangisidir?



8) Küplerden yararlanılarak daha büyük bir küp elde etmek istiyoruz. Her yüzünde 9 tane karesel bölge olacak şekilde büyük bir küp oluşturacak olursak kaç tane küçük küp kullanırız?

- A) 25 B) 36 C) 30 D) 27

9) Yandaki prizmayı küplerle tamamlamak için kaç tane daha birim küp gereklidir ?

- A) 17 B) 19
C) 20 D) 22

