



Adı Soyadı :

Numarası :

Konu: Genel Değerlendirme 1

1 Mert'in 18 tane misketi vardı. Mert misketlerinden 7 tanesini kaybetti. Mert'in kaç misketi kaldı?

- A) 9 B) 7 C) 11




2 Aşağıdaki çıkarma işlemlerinden hangisinin farkı en büyüktür?

A) $\begin{array}{r} 14 \\ -5 \\ \hline \end{array}$ B) $\begin{array}{r} 12 \\ -8 \\ \hline \end{array}$ C) $\begin{array}{r} 17 \\ -9 \\ \hline \end{array}$

3 Yandaki kova aşağıdaki nesnelere hangisiyle daha çabuk dolar?



- A)  B)  C) 





4  +  = 

Yukarıda modellerle gösterilen toplam işleminde "?" işareti ile gösterilen yere hangi sayı gelmelidir?

- A) 5 B) 0 C) 1

5 Aşağıdaki tabloyu inceleyelim. Soruları cevaplayalım.

Tablo: Hayvanlar

Hayvan	Hayvan sayısı
Arı	
Kelebek	
Uğur Böceği	
Çekirge	

A) Kelebekler arılardan kaç fazladır?

- A) 1 B) 3 C) 2

B) Uğur böcekleri ile çekirgelerin toplamı kaçtır?

- A) 6 B) 7 C) 5

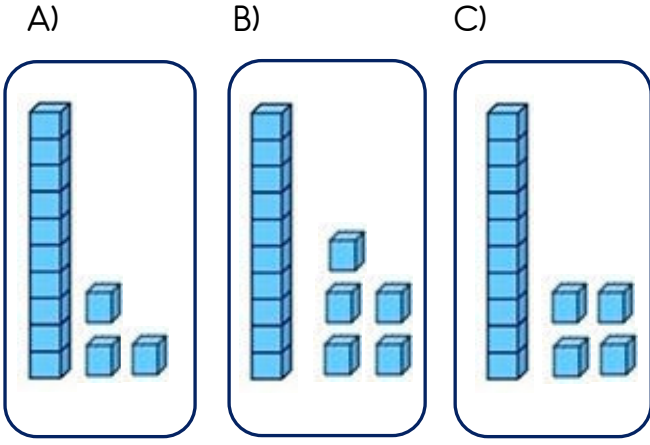
C) Çekirgeler arılardan kaç tane azdır?

- A) 2 B) 3 C) 1

D) Hayvanların toplam sayısı aşağıdakilerden hangisidir?

- A) 3 B) 15 C) 14

6 Aşağıdaki modellerden hangisi "on beş" sayısını göstermektedir?



7 Yandaki armutlar kaç yarım armut eder?

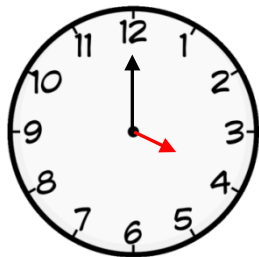


- A) 8 B) 4 C) 6

8 Aşağıdaki toplama işlemlerinden hangisinin sonucu yanlıştır?

A)
$$\begin{array}{r} 14 \\ + 4 \\ \hline 17 \end{array}$$
 B)
$$\begin{array}{r} 13 \\ + 6 \\ \hline 19 \end{array}$$
 C)
$$\begin{array}{r} 7 \\ + 8 \\ \hline 15 \end{array}$$

9 Yandaki saati 2 saat geri alırsa saat kaç olur?






- A) İki
B) Dört
C) Üç

10



Yukarıdaki örüntüde boş bırakılan yerlere hangi şekiller gelmelidir?

- A) 
B) 
C) 



11 Yukarıdaki kutuda toplam kaç lira vardır?

- A) 34 ₺ B) 36 ₺ C) 37 ₺

$$8 + 3 + 5 = \dots$$

12 Yukarıdaki toplama işleminin sonucu kaçtır?

- A) 16 B) 12 C) 15

13 Sınıfımızdaki erkek öğrencileri sayısı 6'dır. Kız öğrencilerin sayısı erkeklerden 4 fazladır. Sınıfımızın toplam öğrenci sayısı kaçtır?

- A) 18 B) 14 C) 16