



TÜRKÇE

 Noktalı yere gelecek kelimeyi boyayalım.

* Kırtasiyeden kalem , silgi defter aldım. **yada** **ve** **ama**

* Teyzem , annem sarı saçlıdır. veya ya da gibi

* Yattım uyuyamadım. için ama ve

* Kardeşim parkta oynadık. ile çünkü ya da

* Kutuyu taşıyamadım çok ağırdı. çünkü gibi veya

* Mavi kırmızı tokayı alacağım. ama veya için

* Sinem yüzemediği havuza giremedi. çünkü için ve

* Çok bekledim arkadaşım gelmedi. ya da gibi fakat

* Çamaşırları annem ablam toplamıştır. ama ya da kadar

* Ceren , Jale güzel resim yapar. kadar veya fakat

* Marketten karpuz peynir aldık. ama çünkü ile






* Çok çalış başarılı olasın. veya ya da ki

* Parka gidecektim yağmur yağdı. ile ama kadar



TÜRKÇE

1. Etkinlik: Aşağıda verilen cümlelerdeki varlığı ve özelliğini örnekteki gibi yazalım.

Cümle	Varlık	Özelliği
 <u>Kara kuzu</u> bahçede dolaşiyor.	kuzu	kara
Babam <u>büyük kutuyu</u> taşıyor.
Çocuklar <u>eski evin</u> bahçesinde oynuyorlar.
Eda <u>sıcak çay</u> içemez.
 Ağaçtaki <u>üç kuş</u> kediyi görünce uçtu.
<u>Tatlı portakalları</u> çabucak yedik.
Balkondaki <u>kare masayı</u> salona taşıdık.
Babam <u>bozuk televizyonu</u> tamirciye götürdü.
 Ercan <u>yüksek duvara</u> hemen çıktı.
<u>Kurnaz tilki</u> kümese girmiş.
Annemin yaptığı <u>güzel keki</u> yedik.
<u>İnatçı keçi</u> duvara çıkmış.
 Boyalarımı <u>küçük kardeşim</u> almış.
Tabaktaki <u>ekşi elmayı</u> ablam aldı.
Bahçeye <u>demir kapı</u> yaptırdık.
Salih'in <u>beyaz gömleği</u> leke olmuş.
 Bugün <u>beş öğrenci</u> gelmemiş.
Babam <u>taze balık</u> almış.
Fatma <u>cam tabağı</u> kırmış.
<u>Uzun cetveli</u> Yeliz almış.


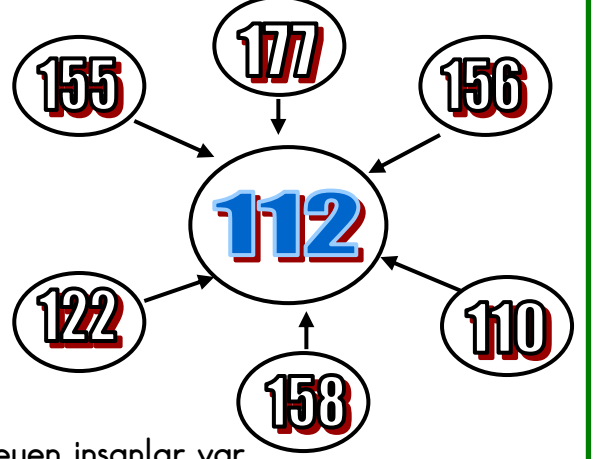




ACİL DURUMLARDA


1. Etkinlik: Aşağıdaki durumların hangisinde 112 'yi ararız? Bu durumların harflerini kutuya yazalım.

- A** Tatilden evimize geldiğimizde eşyaların çalınmış olduğunu görüyoruz.
B Komşumuzun evi yanıyor.
C Hava durumunu öğrenmek istiyoruz.
Ç Eli silahlı bir adam bir kadını zorla götürüyor.
D İki öğrenci sınıfta kavga ediyor .
E Trafik çok sıkışmış , arabalar ilerleyemiyor.
F Sokakta trafik kazası oldu, yaralılar var.
G Depremde yıkılan evin enkazında kurtarılmayı bekleyen insanlar var.
Ğ Evimizin elektrikleri gitti.
H Köyde iki aile arasında büyük bir kavga çıktı.
I Arabamız çalışmıyor , yolda kaldık .
İ Bir gündür sularımız akıyor.
J Sel nedeniyle evin çatısında mahsur kalan insanlar var .
K İnsanların kalabalık olduğu bir caddede sahipsiz bir çanta var.
L Ev telefonumuz çalışmıyor.
M Dedem evde kalp krizi geçiriyor.



112

.....



ÇARPMA İŞLEMİ PROBLEMLER

1. Bahçemizde 4 tane ağaç var. Ağaçların her birinde 3 tane kuş var. Ağaçlardaki kuşların tamamı kaç tanedir?

Çözüm:



2. Masanın üzerinde 3 tane kalemlik var. Kalemliklerin her birinde beşer tane kalem var. Kalemliklerdeki kalemlerin tamamı kaç tanedir?

Çözüm:



3. Sınıfımızda 10 tane sıra var. Her sırada 2 öğrenci oturmaktadır. Sınıfımızda kaç öğrenci vardır.?

Çözüm:



4. Ozan her gün 5 sayfa kitap okumaktadır. Ozan 6 günde toplam kaç sayfa kitap okur?

Çözüm:



5. Masanın üzerinde 6 tane tabak var. Her tabakta dörder tane elma var. Tabaklarda toplam kaç elma vardır?

Çözüm:



6. Dedem 8 torununun her birine beşer lira verdi. Dedem toplam kaç lira vermiştir?

Çözüm:



7. Gaye her gün 10 saat uyuyor. Gaye 4 günde toplam kaç saat uyur ?

Çözüm:



8. Ayşe tanesi 2 liradan 7 tane toka almış. Ayşe tokalara kaç lira ödemiştir?

Çözüm:



Doğru

cevap

bulunan

çemberleri

boyayalım.

40

35

14

24

16

40

15

25

18

20

10

12

30

22

ÇARMA İŞLEMİ PROBLEMLER

1. Kantinci 4 deste kalem satmış. Kantinci toplam kaç tane kalem satmıştır?

Çözüm:



2. Kümesimizde 7 tane tavuk var. Tavukların toplam kaç tane ayağı vardır ?

Çözüm:



3. Bahçede 8 tane kuzu var. Kuzuların toplam kaç tane ayağı vardır ?

Çözüm:



4. Öğretmenimiz elindeki boncukları 6 çocuğa eşit olarak paylaştırdı. Her bir çocuğun elinde 3 tane boncuk oldu. Öğretmenimizin elinde dağıtmadan önce kaç tane boncuk var ?

Çözüm:



5. Betüller her gün 3 ekmek yiyorlarmış. Betüller bir haftada kaç tane ekmek yerler?

Çözüm:



6. 3 tane çocuğun her birinin elinde dörder tane erik var. Çocuklarda toplam kaç erik vardır ?

Çözüm:



7. Rana tanesi 1 liradan 8 tane kalem almış. Rana kalemlere toplam kaç lira ödemiştir ?

Çözüm:



8. Her arabaya 5 kişi bindiğine göre 2 arabaya toplam kaç kişi biner?

Çözüm:



Doğru

cevap

bulunan

yıldızları

boyayalım.

12

16

10

32

6

30

18

8

20

14

40

21

35

ÇARMA İŞLEMİ PROBLEMLER

1. Babam kardeşim ve bana onar lira verdi.
Babam kardeşim ve bana toplam kaç lira verdi ?

Çözüm:



2. Her birinin elinde 9 boncuk olan 3 arkadaş boncukları boş bir kutuya koyuyor.
Kutuda toplam kaç tane boncuk vardır ?

Çözüm:



3. Her gün 10 tane problem çözen Mert 5 günde toplam kaç tane problem çözer ?

Çözüm:



4. Küçük tabakta 4 tane ceviz var. Büyük tabakta ise küçük tabağın 4 katı kadar ceviz var. Büyük tabakta kaç tane ceviz var?

Çözüm:



5. Mehtap kümeden her gün 3 yumurta almış. 6 gün sonunda toplam kaç yumurta olmuştur ?

Çözüm:



6. Ozan , Aysu ve Buse ellerindeki ikişer kalemi boş olan kalemlige koymuşlar.
Kalemlikte kaç tane kalem olmuştur ?

Çözüm:



7. Can 6 yaşındadır. Babasının yaşı ise Can'ın yaşının 5 katıdır. Babasının yaşı kaçtır ?

Çözüm:



8. Bahçemizde elma, kayısı, armut , kiraz ve dut ağacı var. Her ağaçtan beşer tane olduğuna göre bahçemizde toplam kaç ağaç vardır ?

Çözüm:



Doğru

cevap

bulunan

çemberleri

boyayalım.

30

8

10

20

25

6

20

14

27

18

16

26

40

50

ÇARMA İŞLEMİ PROBLEMLER

1. Kümesimizde 9 tane tavuk var. Tavukların tamamının ayak sayısı kaçtır ?

Çözüm:



2. Sıla dün 4 sayfa kitap okumuş. Bugün ise dün okuduğunun 6 katını okumuş. Sıla bugün kaç sayfa okumuştur?

Çözüm:



3. Her gün 8 kilometre koşan Cenk 5 gün sonunda kaç kilometre koşmuş olur ?

Çözüm:



4. Masada 3 tane tabak var. Tabakların her birinde 9 tane kurabiye var. Tabakların tamamında kaç tane kurabiye vardır ?

Çözüm:



5. Okulun bahçesinde 8 tane bank var. Her bankta 4 öğrenci oturuyor. Bankların tamamında kaç öğrenci oturmaktadır ?

Çözüm:



6. Funda kumbarasına her gün 2 lira atıyor. 10 gün sonunda kaç lira atmış olur ?

Çözüm:



7. Önder ve 2 arkadaşının her birinin elinde 7 tane bilye var. Bilyeleri bir torbaya koymuşlar. Torbada kaç bilye vardır ?

Çözüm:



8. Oturduğumuz apartman 7 katlıdır. Her katta 4 daire olduğuna göre , apartmanımızda kaç daire vardır ?

Çözüm:



Doğru

cevap

bulunan

çemberleri

boyayalım.

16

20

32

40

23

18

27

30

34

14

24

22

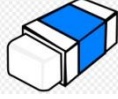
28

45

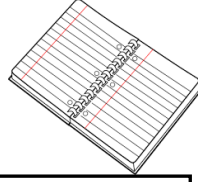
ÇARMA İŞLEMİ PROBLEMLER



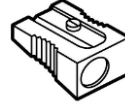
Kalem: 3 lira



Silgi: 1 lira



Defter: 4 lira



Açacak: 2 lira



Kitap: 5 lira

Aşağıdaki soruları yukarıdaki bilgilere göre cevaplayalım.

1. Efe 3 tane defter almış. Kaç lira öder ?

Çözüm:



2. Suna 7 tane açacak almış. Kaç lira öder ?

Çözüm:



3. Bora 8 tane silgi almış. Kaç lira öder ?

Çözüm:



4. Asya 6 tane kitap almış. Kaç lira öder ?

Çözüm:



5. Öykü 5 tane kalem almış. Kaç lira öder ?

Çözüm:



6. Yasin 9 tane defter almış. Kaç lira öder ?

Çözüm:



7. Recep 6 tane açacak almış. Kaç lira öder ?

Çözüm:



8. Soner 10 tane silgi almış. Kaç lira öder ?

Çözüm:



ÇARMA İŞLEMİ PROBLEMLER

1. 3 tane kutunun her birinde 9 tane boncuk var. Kutuların tamamında kaç boncuk vardır ?

Çözüm:



2. Hülya her gün 7 sayfa test çözüyor-muş. Hülya 2 günde kaç sayfa çözer ?

Çözüm:



3. Benim 4 liram var. Ablamın parası ise benim paramın 8 katı. Ablamın kaç lirası var?

Çözüm:



4. Çiçekçi anneler gününde 5 deste gül satmış. Çiçekçi kaç tane gül satmıştır ?

Çözüm:



5. Bir basamaklı en büyük sayının 4 katı kaçtır ?

Çözüm:



6. Bir pazarcı günde 7 kasa elma satmış. 3 günde kaç kasa elma satar?

Çözüm:



7. Aysu ve 4 arkadaşı sekizer tane fındık yemişler. Hepsini kaç fındık yemiştir ?

Çözüm:



8. Annem her gün 6 kilometre yürüyor. Annem 4 gün sonunda kaç kilometre yürümüş olur ?

Çözüm:



Doğru

cevap

bulunan

çemberleri

boyayalım.

25

40

35

21

20

14

32

36

50

28

27

24

18

30

ÇARPMA İŞLEMİ PROBLEMLER

1. Kutuda 3 değişik renkten onar tane boncuk var. Kutudan 12 tane boncuk aldık. Kutuda kaç tane boncuk kalmıştır ?

Çözüm:



2. Hülya 43 sayfalık kitaptan her gün 8 sayfa okumuş. 3 gün sonunda okunacak kaç sayfa kalmıştır ?

Çözüm:



3. Sınıfımızdaki 13 sıranın 3 tanesi boş. Geri kalanında ise her birinde 2 kişi oturuyor. Sınıfımızda kaç kişi vardır?

Çözüm:



4. 4 kardeş tabaktaki eriklerden altışar tane yemişler. Tabakta 8 tane erik kalmış. Yemeden önce tabakta kaç tane erik vardı?

Çözüm:



5. Okan 7 yaşındadır. Babasının yaşı ise Okan'ın yaşının 3 katının 13 fazlasıdır. Babası kaç yaşındadır ?

Çözüm:



6. Arda'nın aldığı kalem 2 liradır. Kitabın fiyatı ise kalemin fiyatının 6 katından 3 lira fazladır. Kitap kaç liradır ?

Çözüm:



7. Masadaki kasede 36 tane zeytin vardı. Masadaki 5 kişinin her biri 4 tane zeytin yedi. Kasede kaç tane zeytin kalmıştır ?

Çözüm:



8. Annemi 50 lirası vardı. Tanesi 3 lira olan çoraplardan 9 tane aldı. Geriye kaç lirası kalmıştır ?

Çözüm:



Doğru

cevap

bulunan

çemberleri

boyayalım.

20

34

14

15

40

24

32

19

12

42

21

23

18

16