

Günlerden bir gün, ormandaki tazılar bir **tilkiyi** kovalamaya başlamışlar. **Tilki**, ormanda odun toplayan bir adama yaklaşmış. Ondan, kendisini saklamasını istemiş. Adam da ona kendi kulübesini göstermiş. **Tilki** kulübeye saklanmış.

Biraz sonra avcılar gelmişler. **Oduncuya**, **tilkiyi** sormuşlar. **Oduncu**:

— “Görmedim.” demiş. Ama parmağıyla da kulübeyi göstermiş. Avcılar, adamın işaretini anlamamışlar ve oradan uzaklaşmışlar. **Tilki**, onların gittiğini anlayınca kulübeden çıkmış ve hiçbir şey demeden uzaklaşmaya başlamış. **Oduncu** bu duruma öfkelenmiş:

— “Nankör hayvan! Canını bana borçlusun. Bir teşekkür bile etmeyecek misin?” demiş. **Tilki** başını çevirerek:

— “Teşekkür mü? Davranışların da sözlerin gibi güzel olsaydı, teşekkür ederdim.” demiş. Sonra da oradan hızla uzaklaşmış.

➤ İlk soruyu metne göre cevaplayınız.

1) Yukarıdaki metnin **ana fikri** aşağıdakilerden hangisi olamaz?

- A) Sözlerimiz ve davranışlarımız tutarlı değilse, iyilikten söz edemeyiz.
- B) İzin almadan kimsenin eşyasına dokunmamalıyız.
- C) İkiyüzlü insanlar, iyilik ediyor gibi görünüp kötülük ederler.

2)



Yandaki **anahtar**, aşağıdaki kilitlerden, üzerinde tümü doğru hecelenmiş kelimelerin olduğu kilidi açacaktır. Buna göre anahtar hangi kilidi açar?

A)



B)




C)



3) Aşağıdaki **sözcük** çiftlerinden hangisi anlam yönünden diğerlerinden farklıdır?

- A) cevap – yanıt    B) cimri – pinti
- C) sorun – çözüm


4)



Yukarıdaki **çocukların** isimlerini sözlük sırasına göre sıraladığımızda, aşağıdaki ipuçlarından hangisi yanlış olmaz?

- A) **Semih** 1. veya 2. değildir.
- B) **Sema** 2. veya 3. değildir.
- C) **Selami** 1. veya 3. değildir.

5)



Ali, üstlerinde doğru yazılmış kelimelerin olduğu **3 koyunu** seçmelidir. Buna göre hangi kelimelerin yazılı olduğu **koyunları** seçmelidir?

- A) dinozor – şöför – yalınış  
B) tıraş – dinozor – şarj  
C) süpriz – şöför – tıraş

6)



Yukarıdaki **uçaklardan** hangisinin cümlesinde eş sesli (sesteş) kelime yoktur?

- A) 2      B) 3      C) 1

7)



Aşağıdaki cümlelerden hangisinde, parantez içine yukarıdaki **noktalama** işaretlerinden biri gelmeyecektir?

- A) Nerede hata yaptığını bilmiyordum ( )  
B) Tiyatroya sen de gelecek misin ( )  
C) Yaşasın ( ) yarışı ben kazandım!

8)

Annem manavdan	→	Cümledir.
Henüz eve gelmedi	→	Cümle değil.
Dün gece mahallede	→	Cümle değil.
İki kilo elma aldım	→	Cümledir.
Bu resmi ben çizdim	→	Cümle değil.


Yukarıdaki eşleştirmelerden kaç tanesinde **hata** yapılmamıştır?

- A) 4      B) 2      C) 3

9)

Ayşe Teyze bizi çok sever.	Kardeşim İngilizce dersine çalışıyor.
Ay, Dünya'nın uydusudur.	Tarlada Kaplumbağa gördüm.

Büyük harf kullanımında hata yapılmayan cümlelerin kutucuklarını boyarsak nasıl bir **görüntü** çıkar?



10)




Yukarıda her biri bir **harf** ile eşleştirilen kelimelerden kurallı bir cümle kurmak istersek harfler nasıl sıralanır?

- A) D – F – G – H    B) H – D – F – G  
C) F – G – H – D

- 11)  $90 + 400$  ➤ I  
 $9 + 40 + 700$  ➤ T  
 $600 + 90 + 3$  ➤ K  
 $1 + 800$  ➤ A

Yukarıda çözümlenmiş her bir sayı bir harf ile **eşleştirilmiştir**. Buna göre, bu sayılar büyükten küçüğe doğru sıralandığında hangi **kelime** oluşur?

- A) TAKI      B) ATIK      C) ATKI



Yukarıdaki **rakamlardan** aşağıdaki iki sayı oluşturulmuştur:

- a) Üç basamaklı, rakamları farklı **en büyük tek** sayı  
b) Üç basamaklı, rakamları farklı **en küçük çift** sayı

Buna göre, bu sayıların farkı aşağıdakilerden **hangisidir**?

- A) 680      B) 677      C) 605



Yukarıdaki kardeşlerin **şimdiki** yaşlarının Romen rakamlarıyla gösterilişi şıklardan hangisidir?

- |    | <u>Merve</u> | - | <u>Bulut</u> |
|----|--------------|---|--------------|
| A) | VI           | - | XV           |
| B) | VIII         | - | IX           |
| C) | XVI          | - | VII          |

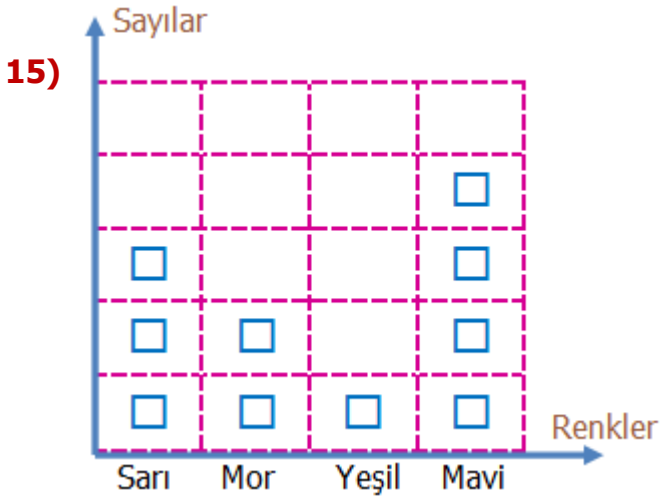


Satıcıya yukarıdaki ürünlerin fiyatlarını soran **Emre**, şu yanıtları almıştır:

- ❖ **Montun** fiyatı, en yakın onluğu 250 olan en büyük sayıdır.
- ❖ **Ayakkabının** fiyatı, en yakın onluğu 190 olan en küçük sayıdır.

Buna göre **Emre** bu iki ürünü almak için ne kadar para vermelidir?

- A) ₺439      B) ₺440      C) ₺441



**Not:** Her şekil 6 kişiyi göstermektedir.

Bir grup öğrenciye yukarıdaki renklerden hangisini **en çok sevdikleri** sorulmuştur. **Grafiğe** göre aşağıdaki bilgilerden hangisi yanlış değildir?

- A) En çok sevilen renk mavi değildir.  
 B) Bu soru 60 öğrenciye sorulmuştur.  
 C) Sarı ile yeşili sevenlerin farkı 10'dur.

16)



Yukarıda Elif'in alacağı ürünlerin kilogram fiyatları verilmiştir.

6 kg fındık, 4 kg ceviz ve 2 kg fıstık alan Elif kasiyere **500** lira vermiştir. Elif'e para üstü ne kadar verilecektir?

- A) ₺128      B) ₺138      C) ₺148

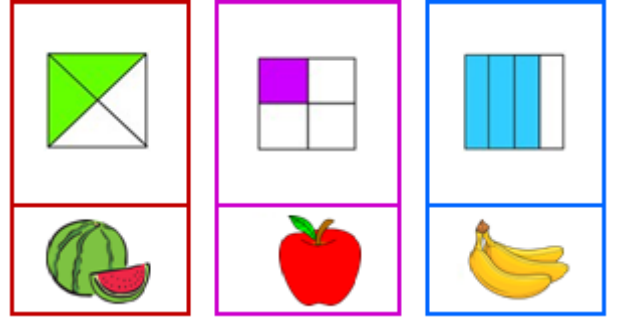
17)



**Yiğit**, **120** sayfalık kitabın **44** sayfasını okudu. Kalanını günde **4** sayfa okuyarak bitirmek istiyor. **Yiğit** kitabı kaç günde bitirir?

- A) 19      B) 17      C) 15

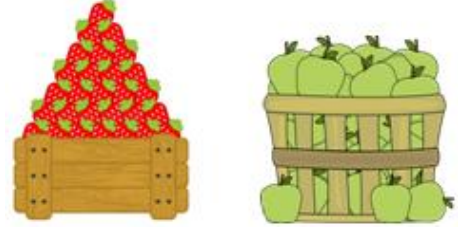
18)



Yukarıdaki şekillerin boyalı alanlarının ifade ettiği kesirler **meyvelerle** eşleştirilmiştir. Buna göre, hangisinin boyalı alanı çeyreği ifade eder?

- A) muz      B) elma      C) karpuz

19)



Yukarıdaki çileklerin ağırlığının  $\frac{1}{6}$ ' i, elmaların ağırlığının  $\frac{1}{9}$ ' ine eşittir. Elmalar

**45 kg** ise çileklerin ağırlığı kaç kg'dır?

- A) 30 kg      B) 35 kg      C) 45 kg

20)



Aşağıdakilerden hangisi yandaki **saatin** okunuşlarından biri değildir?

- A) Bire çeyrek var.  
 B) On ikiyi kırk beş geçiyor.  
 C) Biri dokuz geçiyor.

21)



Dünya'nın bir noktasından hareket eden uçak, hep aynı yöne uçarsa, tekrar uçuşa başladığı noktaya gelir.

Yukarıda verilen **durumun** sebebi şıklardan hangisidir?

- A) Dünya'nın şekli küreye benzer.
- B) Dünya üzerindeki kara alanları, su alanlarından fazladır.
- C) Uçaklar, ulaşım araçları içinde en ağır olanıdır.

22)

1	Dış çekirdek ile kara katmanı arasında yer alır.
2	Dünya'nın merkezinde yer alan bu katman en sıcak katmandır.
3	İç çekirdeği saran katmandır.

Yukarıda, Dünya'nın **katmanlarından** hangisinin özelliklerinden bahsedilmemiştir?

- A) Manto
- B) Dış çekirdek
- C) Yer kabuğu

23)



İlk kez kan verecek olan **Metin** çok heyecanlıydı. İğnenin batışını biraz hissetti. Kan verme işlemi sonunda ona kek verdiler. Kekin tadını çok beğendi.

Yukarıdaki olayda hangi **duyu organından** bahsedilmektedir?



24)

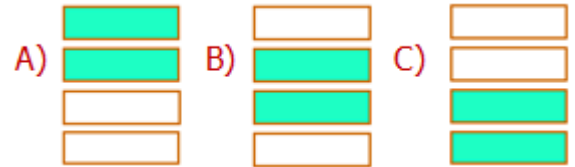
Saatin akrep ve yelkovanı sallanma hareketi yapar.

Çarpışan arabalar yön değiştirme hareketi yapar.

Kediyi gören fare hızlanma hareketi yapar.

Tren istasyondan ayrılırken yavaşlama hareketi yapar.

Yukarıdaki cümlelerden **doğru** olanların kutucuklarını boyarsak nasıl bir görüntü oluşur?



25) Aşağıdaki maddelerden hangisi hem sert hem de pürüzlü bir maddedir?



Madde	Katı	Sıvı	Gaz
Top			✓
Su buharı		✓	
Zeytinyağı	✓		
Saman	✓		
Kolonya			✓

Yukarıdaki tabloda bazı maddeler verilmiştir. Tablodaki uygun sütunlara "✓" işareti koyularak bu maddelerin özellikleri belirtilmiştir.

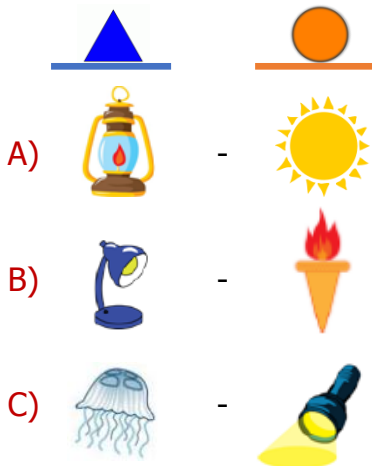
Buna göre yukarıdaki tabloda kaç adet **hata** yapılmıştır?

- A) 2      B) 3      C) 4

27)



Yukarıdaki ışık kaynakları, türlerine göre bir **şekil** ile eşleştirilmiştir. Kaynak türlerine göre aşağıdakilerden hangisinde **hata** yapılmamıştır?



28) Aşağıdakilerden hangisi, **ışığın** günlük hayatta sağladığı **kolaylıklardan** değildir?

- A) Ortamda yeterli ışık yoksa cisimleri net olarak görebiliriz.  
 B) Pilotların gece yolculuklarında pisti rahat görebilmesi için ışık kullanılır.  
 C) Lamba olmayan karanlık yerlerde cep telefonumuzun fenerini açarız.

29)

Kaynağını göremediğimiz sesleri kesinlikle işitemeyiz.

Ses, dalgalar halinde ve her yöne yayılır.

Kaynaktan uzaklaştıkça ses dalgalarının etkisi azalır.

Yukarıdaki cümlelerden doğru olanlara **D**, yanlış olanlara **Y** yazarsak nasıl bir görüntü oluşur?

- A) 

Y
Y
D

      B) 

D
Y
Y

      C) 

Y
D
D

30)



Yukarıdaki öğrencilerden hangileri **doğal** ses kaynaklarına **örnek** vermişlerdir?

- A) Salih ve Ufuk      B) Emel ve Salih  
 C) İpek ve Emel

31)



**Ozan**, yardımsever bir çocuktur. Arkadaşları yardıma ihtiyaç duyduğunda, insanları ayırt etmeden herkese yardımcı olur. Engelli insanlara karşı da oldukça duyarlıdır.

Yukarıdaki açıklamaya göre, **Ozan** ile ilgili aşağıdaki ifadelerden hangisi yanlış değildir?

- A) Bireysel farklılıklara karşı saygılı olduğu söylenemez.
- B) Sergilediği iyi davranışlar arkadaşlık bağlarını güçlendirir.
- C) Duyarlı ve yardımsever olmaması, kaba bir insan olduğunu gösterir.

32)



Öğretmenin verdiği görevleri, grup çalışması sayesinde başarı ile tamamlayan öğrenciler çok mutlu oldular.

Buna göre bu **öğrencilerle** ilgili ifadelerden hangisi doğrudur?

- A) Birbirlerinin kararlarına saygı duymazlar.
- B) Birlik ve beraberliğin gücüne inanmazlar.
- C) Özgüvenleri ve ders başarıları artar.

33)

Su tasarrufu için tuvaletleri kirli bırakmamalıyız.

Kaynakları tutumlu kullanmam gerekmez.

Temizlik görevlisi olduğu için çöpler yere atılabilir.

Kaynak israfını önlemek için sorumluluk alırım.

Yukarıdaki ifadelerden kaç tanesi **bilinçli** bir öğrencinin söylemeyeceği ifadelerdendir?

- A) 1
- B) 2
- C) 3

34)

Eskiden çocuklar, bez bebeklerle, tahtadan yapılmış arabalar ve oyuncaklarla oynarlardı. Şimdi ise telefon, tablet ve bilgisayarla oyun oynuyorlar.

Yukarıdaki durumun **sebebi** aşağıdakilerden hangisidir?

- A) Eskiden çocuklar bilgisayar ve tableti pek sevmiyorlardı.
- B) Teknolojinin gelişimi oyuncakları da değiştirmiştir.
- C) Eskiden telefonların fiyatları çok pahalıydı.

35) Aşağıdakilerden hangisi çocukların **evdeki** sorumluluklarından değildir?

- A) Bozulan elektrik prizini yenilemek
- B) Sofranın kurulmasına yardım etmek
- C) Kişisel eşyaları özenli kullanmak

36)

	Ocak	Şubat	Mart
Elektrik	₺ 105	₺ 90	₺ 150
Su	₺ 60	₺ 75	₺ 55

Yukarıda bir ailenin kullandıkları kaynaklara ait **fatura** tablosu verilmiştir.

Buna göre aşağıdaki **cümlelerden** hangisi yanlıştır?

- A) Bu aile şubat ayında sudan tasarruf etmiştir.
- B) Mart ayındaki fatura miktarı, elektrikten tasarruf edilmediğini gösterir.
- C) Su, diğer aylara göre mart ayında tasarruflu kullanılmıştır.

37)



İsteklerim, ihtiyaçlarımdan daha önemlidir.

Ali



Eşyalarımı ve giysilerimi temiz ve özenli kullanırım.

Mine



Harçlığımın bir kısmını kumbarama atarım.

Kaya



İhtiyacımdan daha fazlasını almak beni mutlu ediyor.

Esra



Yukarıdaki ifadelere göre, hangi çocukların **bilinçli** oldukları söylenbilir?

- A) Ali ve Mine
- B) Esra ve Kaya
- C) Kaya ve Mine

38)

Dışleri fırçalamak	El, yüz yıkamak	Dengeli beslenme
Alışveriş yapmak	Kitap okumak	Duş almak

Tablodaki eylemlerden, kişisel bakım için yapılması gerekenleri boyarsak ortaya nasıl bir **görüntü** çıkar?



39)



Aşağıdakilerden **hangisi**, yukarıdaki levhalardan birinin açıklaması değildir?

- A) Bisiklet Giremez
- B) Yaya Üst Geçidi
- C) Işıklı Trafik İşaret Cihazı

40)



**Tanımadığımız** insanlara karşı, aşağıdaki davranışlardan hangisi doğrudur?

- A) Tehlikeli olduğunu düşündüğümüz insanlardan uzak durmalıyız.
- B) Tanımadığımız insanlardan gelen tekliflere evet demeliyiz.
- C) Evde yalnız kaldığımızda tanımadığımız insanlara kapıyı açabiliriz.



# CEVAP ANAHTARI

## TÜRKÇE

- 1) B
- 2) C
- 3) C
- 4) A
- 5) B
- 6) A
- 7) C
- 8) B
- 9) A
- 10) C

## MATEMATİK

- 11) C
- 12) B
- 13) A
- 14) A
- 15) B
- 16) C
- 17) A
- 18) B
- 19) A
- 20) C

## FEN BİL.

- 21) A
- 22) C
- 23) B
- 24) B
- 25) B
- 26) C
- 27) A
- 28) A
- 29) C
- 30) B

## HAYAT BİL.

- 31) B
- 32) C
- 33) C
- 34) B
- 35) A
- 36) A
- 37) C
- 38) A
- 39) B
- 40) A