

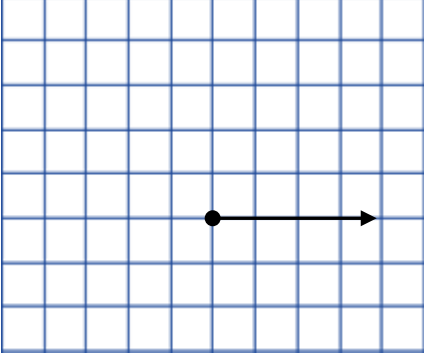


Adı Soyadı :

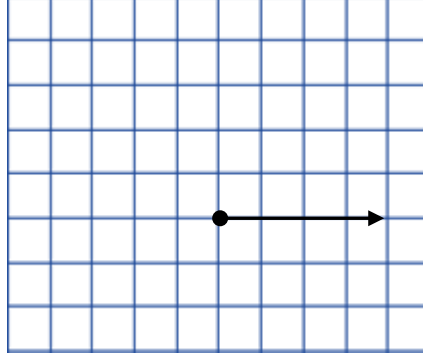
Numarası :

Konu: Ölçüsü Verilen Açığı Çizme Etkinliği 3

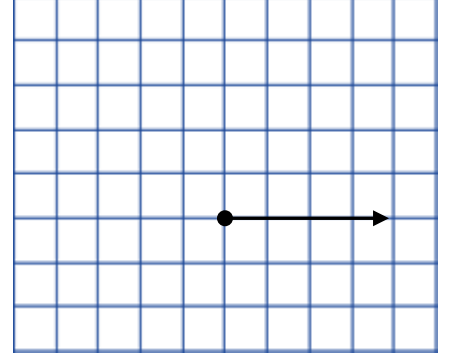
Aşağıda ölçüleri verilen açılar, iletke veya gönye yardımı ile çizelim.



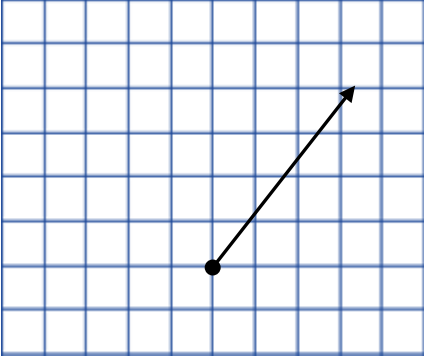
$$s(\hat{K}) = 90^\circ$$



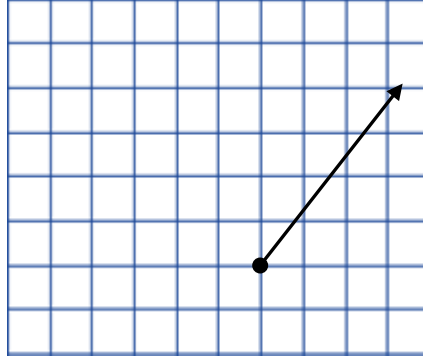
$$s(\hat{T}) = 30^\circ$$



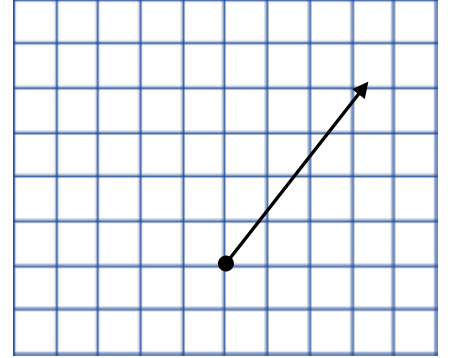
$$s(\hat{P}) = 120^\circ$$



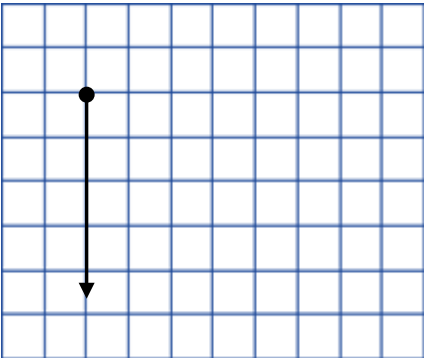
$$s(\hat{A}) = 60^\circ$$



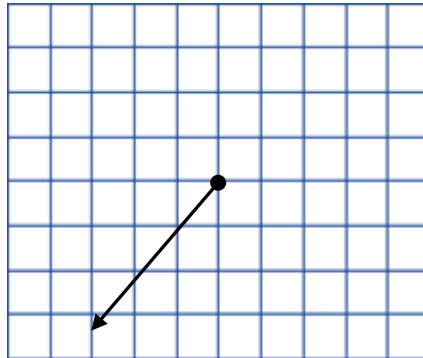
$$s(\hat{D}) = 100^\circ$$



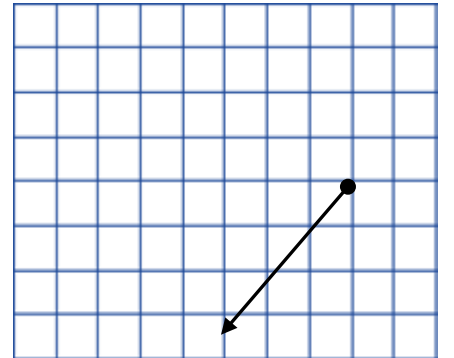
$$s(\hat{V}) = 20^\circ$$



$$s(\hat{Z}) = 90^\circ$$

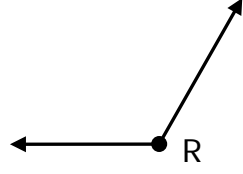


$$s(\hat{M}) = 160^\circ$$



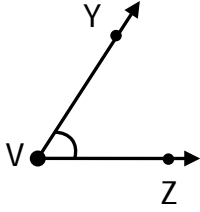
$$s(\hat{O}) = 50^\circ$$

1) Aşağıdakilerden hangisi yandaki açının ölçüsü olabilir?



- A) $\hat{R} = 180^\circ$ B) $\hat{R} = 105^\circ$
C) $\hat{R} = 90^\circ$ D) $\hat{R} = 50^\circ$

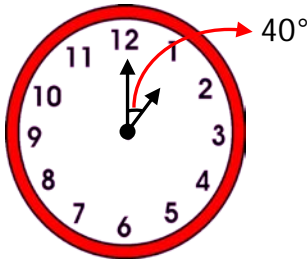
2)



Yanda ölçüsü verilen V açısının çeşidi aşağıdakilerden hangisidir?

- A) Dar açı
B) Dik açı
C) Geniş açı
D) Doğru açı

3)

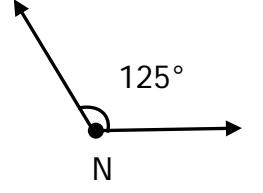


Yukarıdaki saatte akrep ve yelkovan arasındaki açı 40° dir.

Buna göre saat 05.00 olduğunda akrep ve yelkovan arasındaki açı kaç derece olur?

- A) 80° B) 90° C) 120° D) 150°

4) Yandaki açığı N açısını kaç derece küçültürsek dik açı elde etmiş oluruz.?

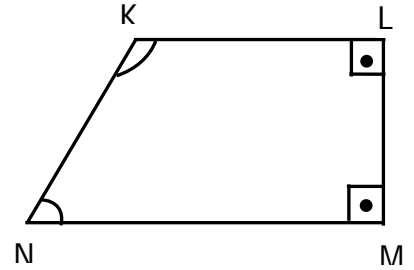


- A) 55° B) 45° C) 35° D) 25°

5) Aşağıda verilen ifadelerden hangisi yanlıştır?

- A) Doğru açı 180° dir.
B) Dar açının en büyük doğal sayı değeri 89° dir.
C) Ölçüsü 0° ile 90° arasında olan açılara geniş açı denir.
D) Ölçüsü 90° olan açılara, dik açı denir.

6)



Yukarıdaki geometrik şekilde bulunan açılardan hangisi doğru olarak verilmiştir?

	\hat{K}	\hat{L}	\hat{M}	\hat{N}
A)	Geniş	Dik	Dar	Dar
B)	Dar	Dik	Dik	Geniş
C)	Geniş	Dik	Dik	Dar
D)	Dik	Geniş	Geniş	Dar