

SEYİT ONBAŞI



18 Mart günü düşman donanması Çanakkale Boğazını geçmek için saldırıya geçmişti. Bu sırada Seyit Ali, Rumeli Mecidiye Tabyasında görevliydi. Yapılan yoğun atışlar nedeniyle topun mermi kaldıran vinci parçalandı. Bunun üzerine Seyit Ali, 275 (iki yüz yetmiş beş) kilogramlık top mermilerini sırtlayarak topun kundağına yerleştirdi. Yaptığı atışlarla Ocean (Ouşın) adındaki düşman gemisini batırdı. Bu başarısından dolayı komutanı Seyit Ali'ye onbaşılık unvanı verdi.

(1, 2 ve 3. Soruyu metne göre cevaplayınız.)

- 1) Düşman donanması hangi gün saldırıya geçmiştir?
- A) 18 Mart
B) 23 Nisan
C) 19 Mayıs

- 2) Topun mermi kaldıran vinci nasıl parçalanmış?

- A) Seyit Ali yanlışlıkla kırmış.
B) Yoğun atışlarla parçalanmış.
C) Düşüp parçalanmış.

- 3) Seyit Ali'ye başarısından dolayı onbaşılık unvanını kim vermiş?

- A) Babası
B) Komutanı
C) Meclis

- 4) "Seyit Ali, koca mermiyi kaldırmış."

Yukarıdaki cümle ile ilgili verilen bilgilerden hangisi yanlıştır?

- A) Harf sayısı 28'dir.
B) Hece sayısı 12'dir.
C) Sözcük sayısı 4'tür.




- 5) Aşağıdaki hayvanlardan hangisinin isminde bir harften oluşan hece bulunmaktadır?



6)	A	Dost	K	Vatan
	I	Vazife	T	Düşman

Yukarıdaki sözcükler alfabetik sıraya göre sıralandığında başlarındaki harfler ile hangi sözcük oluşur?

- A) ATKI B) ATIK C) TAKI

- 7)  3 hecelidir.
 Eş anlamlısı vardır.
 Zıt anlamlısı yoktur.

Yukarıda özellikleri verilen sözcük hangisidir?

- A) Yukarı
 B) Öğretmen
 C) Siyah

- 8) Aşağıdaki cümlelerden hangisinin sonuna farklı bir noktalama işareti gelmelidir?
- A) Oley, sınavdan 100 aldım
 B) Sen kaç aldın
 C) Sınava girmedin mi

9)



- (1)Ülkemizin adı Türkiyedir. (2)Başkentimiz Ankara'dır. (3)Ülkemizin kurucusu Mustafa Kemal Atatürk'tür. (4)Milli marşımız İstiklâl Marşı'dır. (5)Bayrağımız ise beyaz ay ve yıldızlı al bayraktır.

Yukarıdaki paragrafı oluşturan cümlelerin hangilerinde yazım yanlışı yapılmıştır?

- A) 1 ve 3 B) 2 ve 4 C) 3 ve 5

10)



Hangisi yukarıdaki görselin çağrıştırdığı bir sözcük değildir?

- A) Demokrasi
 B) Milli birlik
 C) Tutumluluk



Fatih 13 yaşındadır. Babası ile annesi aynı yaşta ve Fatih'ten 23 yaş büyüktür. Kardeşi Mert ise babasından 25 yaş küçüktür.

(11, 12 ve 13. soruyu metne göre cevaplayınız.)

11) Fatih'in babası ile annesinin yaşları toplamı kaçtır?

- A) 36 B) 61 C) 72

12) Fatih ve kardeşi Mert ile ilgili hangi ifade doğrudur?

- A) Mert, Fatih'ten 2 yaş küçüktür.
B) Fatih, Mert'ten 3 yaş büyüktür.
C) Mert, Fatih'ten 2 yaş büyüktür.

13) 2 yıl sonra Fatih ile kardeşinin yaşları toplamı olur?

- A) 24 B) 26 C) 28

14)



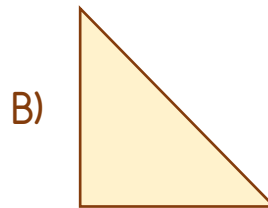
Yukarıdaki trafik levhası saat yönünde üç çeyrek tur döndürüldüğünde görünümü nasıl olur?



15)



Hangisi yukarıdaki karenin iki eş parçasından biri değildir?



16)



Yukarıdaki evin simetri çizgisine göre simetriği hangi seçenekte verilmiştir?



17)



Fadime çiftlikteki keçilerin ayak sayılarını kısa yoldan bulmak için hangi işlemi yapmalıdır?

- A) $7 \times 7 =$
 B) $7 \times 4 =$
 C) $4 \times 4 =$

$$18) \quad 1 \times \blacktriangle = 8 \quad 6 \times \bullet = 0$$

Yukarıda verilen çarpma işlemlerine göre " $\blacktriangle + \bullet = ?$ " işleminin sonucu kaçtır?

- A) 0 B) 8 C) 14

19) Akşam 5 tane pizza siparişi vermiştik. Kutuları açtığımızda her pizzanın 8'er dilim olduğunu gördük.



Verilen bilgiye göre sipariş edilen pizzaların hepsi kaç dilimdir?

- A) 18 B) 25 C) 40

20)



Elisa hafta içi her gün 5'er saat, hafta sonu her gün 4'er saat canlı derse katılmaktadır.

Buna göre Elisa bir haftada kaç saat canlı derse katılmaktadır?

- A) 20 B) 25 C) 33

21) (...) Günde iki öğün yemek yemeliyiz.

(...) Dondurulmuş ve ambalajlı gıdalar tercih etmeliyiz.

(...) Besinleri vücudumuzun ihtiyacı kadar tüketmeliyiz.

Dengeli ve düzenli beslenme ile ilgili verilen ifadelerden doğru olana "D", yanlış olana "Y" nasıl yazılmalıdır?

- | | | |
|--------|--------|--------|
| A) (D) | B) (Y) | C) (Y) |
| (Y) | (Y) | (D) |
| (D) | (D) | (Y) |

22)



Parkta oynarken acıkıp eve gelmişim. Eve girer girmez hemen

Sağlığı için temizliğe dikkat eden Kerem'in konuşmasında boş bırakılan yere hangisi gelmelidir?

- A) masaya oturdum.
B) ellerimi yıkadım.
C) bir şeyler yedim.


23)



Yukarıdaki mesleklerden kaç tanesi sağlığımız için çalışır?

- A) 3 B) 4 C) 5

24) Aşağıdaki meyvelerden hangisi diğerlerinden farklı bir mevsimde yetişir?



25) Aşağıdaki mevsim-kıyafet eşleştirmelerinden hangisi yanlıştır?

- A) İlkbahar →
- B) Yaz →
- C) Sonbahar →




26)



Yukarıdaki ulaşım araçlarını kullanan kişiler sırası ile hangi seçenekte verilmiştir?

- A) Reis - Pilot - Kaptan
- B) Kaptan - Pilot - Makinist
- C) Kaptan - Hostes - Makinist

27) Hangi çocuk ulaşım aracında güvenlik kurallarına uygun davranmıştır?

- A)  Emniyet kemeri takmam.
- B)  Ayakta yolculuk yaparım.
- C)  Şoförün uyarılarını dinlerim.

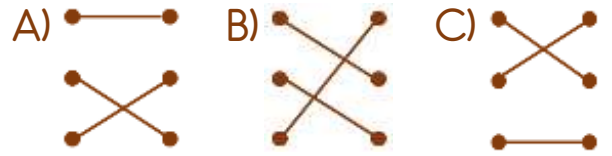
28) Aşağıdakilerden hangisine toplu taşıma aracında her zaman yerimizi vermemiz gerekmez?

- A) Yaşlılara
- B) Arkadaşlarımıza
- C) Özel gereksinimli bireylere

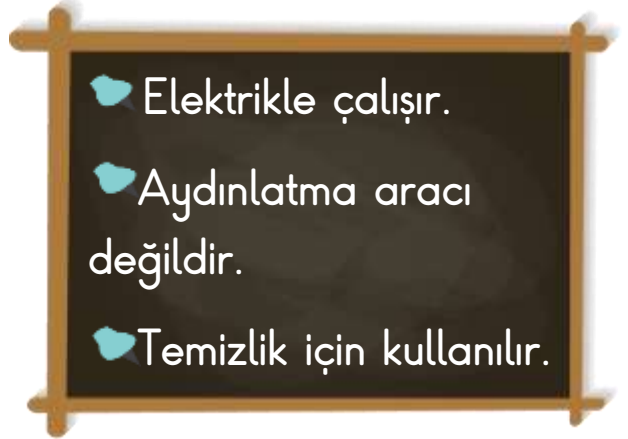
29) Hırsızlık ● ● Ambulans
Yangın ● ● Polis

Yaralanma ● ● İtfaiye

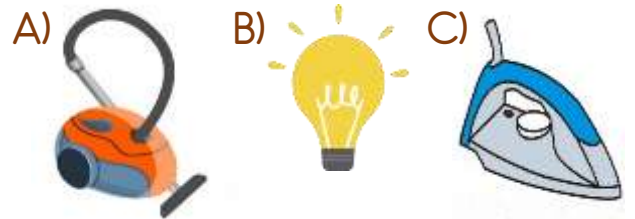
Yukarıda verilen acil durumlar ve bu bu durumlarda aranması gereken kurumlar hangi seçenekte doğru eşleştirilmiştir?



30)



Yukarıda özellikleri verilen teknolojik alet hangisidir?



Cevap Anahtarı

1-A 2-B 3-B 4-C 5-B 6-A 7-B 8-A 9-A 10-C 11-C 12-A 13-C 14-C 15-A 16-B 17-B
18-B 19-C 20-C 21-B 22-B 23-A 24-C 25-A 26-B 27-C 28-B 29-B 30-A