



Adı Soyadı :

Numarası :

Konu: Genel Değerlendirme 3






1 Ahmet yukarıdaki paralardan 3 TL'sini harcadı. Ahmet'in kaç TL'si kaldı?

- A) 12 B) 15 C) 11

2 Aşağıdaki çıkarma işlemlerinden hangisinin sonucu farklıdır?

- A) $\begin{array}{r} 14 \\ - 5 \\ \hline \end{array}$ B) $\begin{array}{r} 12 \\ - 3 \\ \hline \end{array}$ C) $\begin{array}{r} 16 \\ - 8 \\ \hline \end{array}$

3 Aşağıdakilerden hangisi sıvı madde değildir?

- A)  B)  C) 

4 Salonun uzunluğu 17 adımdır. Ömer 12 adım yürüdüğüne göre kaç adım daha yürümelidir?

- A) 6 B) 8 C) 5




5 İki uzun ve iki kısa kenarı olan geometrik şekil aşağıdakilerden hangisidir?

- A)  B)  C) 

6 Aşağıdaki çıkarma işlemlerinden hangisi yanlıştır?

- A) $\begin{array}{r} 13 \\ - 6 \\ \hline \end{array}$ B) $\begin{array}{r} 15 \\ - 7 \\ \hline \end{array}$ C) $\begin{array}{r} 14 \\ - 5 \\ \hline \end{array}$

7 Aşağıdaki nesnelere hangisi silindire benzemektedir?

- A)  B)  C) 



8 Yukarıdaki kabaklar kaç yarım kabak yapar?

- A) 6 B) 8 C) 10

9 Çiftlikteki kümeste 6 tavuk, 5 horoz, 8 hindi var. Kümesteki toplam hayvan sayısı kaç tanedir?

- A) 19 B) 15 C) 18

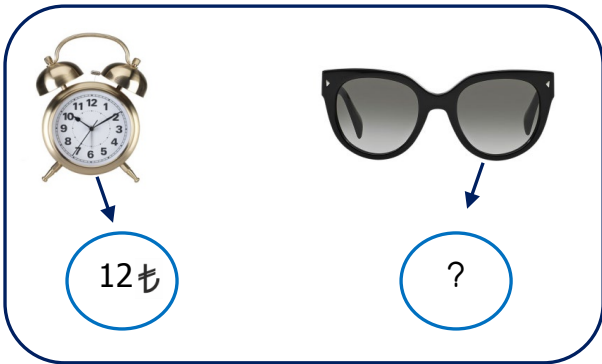
10 Aşağıdaki işlemlerden hangisinin sonucu en küçüktür?

- A) $9 - 0 =$ B) $12 - 3 =$ C) $14 - 6 =$

11 Aşağıdaki sayı örüntüsünde noktalı yere yere hangi sayı gelmelidir?



- A) 18 B) 14 C) 20



12 Gözlüğün fiyatı çalar saatten 7 TL daha pahalıdır. Gözlüğün fiyatı kaç TL'dir?

- A) 16 ₺ B) 20 ₺ C) 19 ₺

13

EYLÜL

Pts	Sa	Çar	Per	Cum	Cts	Paz
					<u>1</u>	<u>2</u>
<u>3</u>	<u>4</u>	<u>5</u>	<u>6</u>	<u>7</u>	<u>8</u>	<u>9</u>
<u>10</u>	<u>11</u>	<u>12</u>	<u>13</u>	<u>14</u>	<u>15</u>	<u>16</u>
<u>17</u>	<u>18</u>	<u>19</u>	20	<u>21</u>	<u>22</u>	<u>23</u>
<u>24</u>	<u>25</u>	<u>26</u>	<u>27</u>	<u>28</u>	<u>29</u>	<u>30</u>

Aşağıdaki soruları tabloya göre cevaplayınız.

1) Eylül ayının ilk günü hangi gündür?

- A) Salı
B) Pazar
C) Cumartesi

2) Eylül ayının 20. günü Özlem' in doğum günüdür. Özlem doğum gününü hangi gün kutlayacaktır?

- A) Pazartesi
B) Perşembe
C) Cuma

3) Eylül ayı kaç gündür?

- A) Otuz
B) Yirmi sekiz
C) Yirmi Dokuz

Başarılar