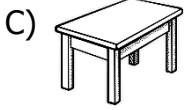
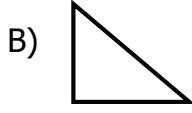
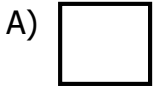


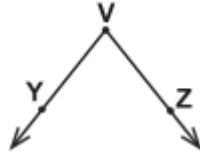
1) Aşağıdakilerden hangisinde düzlem modeli yoktur?



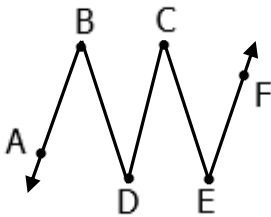
2) Aşağıdaki şekillerin hangisinde dik açı **yoktur** ?



3) Yandaki açının isimlendirilmesi aşağıdakilerden hangisinde yanlış yapılmıştır?



- A) \widehat{YVZ} B) \widehat{V} C) \widehat{VYZ} D) \widehat{ZVY}



4. ve 5. soruları yukardaki şekle göre cevaplayınız.

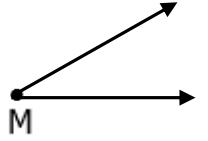
4) Yukarıdaki şekilde aşağıdaki açılardan hangisi yoktur?

- A) \widehat{DEC} B) \widehat{BDC} C) \widehat{FEC} D) \widehat{ECD}

5) Şekilde kaç tane köşe ve açı vardır ?

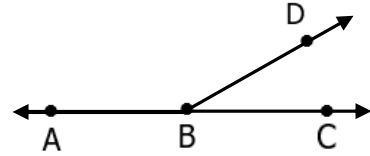
- A) 4 - 5 B) 4 - 4 C) 5 - 5 D) 5 - 4

6) Yandaki M açısı ile ilgili aşağıdaki ifadelerden hangisi doğrudur?



- A) Geniş açıdır B) Dik açıdır
C) Dar açıdır D) Doğru açıdır

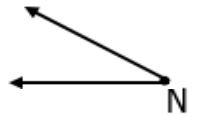
7)



Yukarıda \widehat{ABC} doğru açıdır. \widehat{DBC} 45° olduğuna göre \widehat{ABD} kaç derecedir?

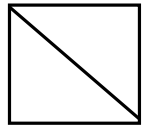
- A) 45° B) 180° C) 145° D) 135°

8) Yandaki \widehat{N} açısı 37° 'dir. Bu açının geniş açı olabilmesi için ne kadar artırmak gerekir?



- A) 53 B) 54 C) 56 D) 60

9) Yandaki şekilde hangi tür açıları vardır?



- A) dar açı – geniş açı B) dar açı – doğru açı
C) dik açı – geniş açı D) dik açı – dar açı

10) karpuz – kağıt para – yazı tahtası – muz yapboz – duvar – zeytin - ayakkabı

Yukarıdakilerden kaç tanesi düzleme örnektir?

- A) 4 B) 6 C) 3 D) 5