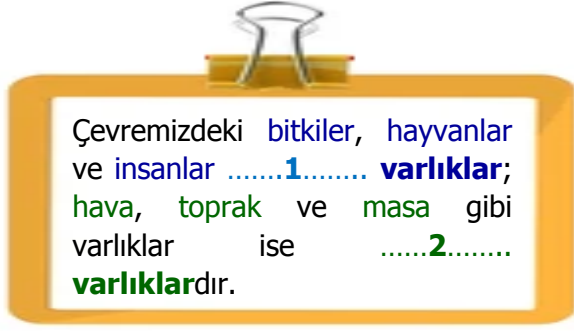


1)






Yukarıdaki açıklamaya göre noktalı alanlara aşağıdakilerden **hangileri** gelmelidir?

21

- A) doğal - yapay
B) cansız - canlı
C) hareketli - hareketsiz

2)

	Denizde yaşayan canlı varlık yoktur.
	İnsan, bitki ve hayvanların yaşamaları için hava gereklidir.
	Tüm hayvanlar yiyeceklerini avlanarak sağlarlar.

Her biri bir şekil ile eşleştirilen cümlelerden hangisi **yanlış** değildir?

- A)  B)  C) 

3)






Yukarıdaki varlıkla ilgili aşağıdakilerden hangisi **doğrudur**?

- A) Boşaltım ve solunum yapmaz.
B) Büyüme ve gelişme göstermez.
C) Türlerinin devamı için çoğalırlar.




4)

otobüs	taş	akrep
çimen	balina	halı




Yukarıdaki tabloda canlı olmayan varlıkları boyarsak ortaya nasıl bir **görüntü** çıkar?

- A)  B) 
C) 

5)

Ağaç	Mont	Sinek
		

Yukarıdaki varlıkları gruplandırırsak hangisi bu grubun **dışında** kalır?

- A)  B)  C) 

- 6) **I** – Hareket ederler.
II– Büyür ve gelişirler.
III– Tepki verirler.

Yukarıdaki ifadelerden hangileri canlıların ortak özelliklerindendir?

- A) **I** ve **III** B) **I,II,III** C) **I** ve **II**

7)

	Cansız	Canlı
Çevreden gelen etkilere tepki vermez.		✓
Beslenmeye ihtiyaç duymazlar.	✓	
Enerji ihtiyaçları için beslenme yaparlar.	✓	
Çevre şartlarına uyum gösterirler.		✓

Yukarıda tabloda bazı ifadeler verilmiştir. Tablodaki sütunlara "✓" işareti koyularak bu maddelerin özellikleri belirtilmiştir.

Buna göre yukarıdaki tabloda kaç adet **hata** yapılmıştır?

- A) 2 B) 3 C) 4

8)



Yukarıda özelliklerinden bahsedilen madde aşağıdakilerden hangisidir?

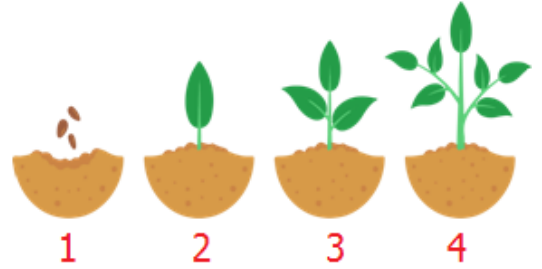
- A) oksijen B) su C) tuz

9) Bitkiler terleme yaparak veya yapraklarında biriktirdiği atık maddeleri uzaklaştırmak için yapraklarını dökerler.

Açıklaması verilen **eylem** aşağıdakilerden hangisidir?

- A) üreme B) solunum C) boşaltım

10)



Yukarıdaki resimde gerçekleşen olaylarla ilgili aşağıdakilerden hangisi **doğrudur**?

- A) Bitkilerin büyümesi yaşam boyunca sürer.
B) Bitkiler çoğalırken suya ihtiyaç duymazlar.
C) Bitkilerin büyüüp gelişmesinde Güneş'in etkisi yoktur.

11)

Bir bitki gölgedeysse güneş ışığına yönelerek tepki verir.

Ulaşım araçlarının hareketi canlı varlıkların hareketine örnektir.

Ayçiçekleri gün boyunca yüzlerini Ay'a dönerler.

Yukarıdaki cümlelerden **doğru** olanlara **D**, yanlış olanlara **Y** yazarsak nasıl bir görüntü oluşur?

- A)

Y
Y
D

 B)

D
Y
Y

 C)

Y
D
D

12)



Ali

Üreyemez, boşaltım ve solunum yapamaz.

Aşağıdakilerden hangisi, **Ali'nin** açıkladığı varlıklara örnek **verilemez**?

- A) yol B) bardak C) papatya

CEVAP ANAHTARI

- 1) B
- 2) A
- 3) C
- 4) A
- 5) C
- 6) B
- 7) A
- 8) B
- 9) C
- 10) A
- 11) B
- 12) C