





# PROBLEMLER



Yusuf'un topladığı fındıklara 8 ekleyince 15 fındık oluyor. Yusuf ilk önce kaç fındık toplamış?





İkranur 4 oyuncak daha alırsa 12 oyuncuğı oluyor. İkranur'un kaç oyuncuğı vardı?




Öykü 9 kitap okudu. Kaç kitap daha okursa 15 kitap okumuş olur?





Eylül dün biraz soru çözdü. Bugün de 8 soru çözdü. Eylül iki günde 16 soru çözdüğüne göre dün kaç soru çözmüştür?





Betül evindeki 17 balondan 7 tanesini patlattı. Mina kaç balon daha şişirirse 20 balonları olur?





Yağız bahçeye 3 ağaç daha dikerse bahçede 10 ağaç oluyor. Bahçede önce kaç ağaç vardı?



Dalda 8 kuş var. Kaç kuş konarsa dalda 17 kuş olur?





Sınıfımızda 9 kız var. Sınıfımızın mevcudu 17 ise kaç tane erkek öğrenci vardır?





# PROBLEMLER



Yusuf'un topladığı fındıklara 8 ekleyince 15 fındık oluyor. Yusuf ilk önce kaç fındık toplamış?





İkranur 4 oyuncak daha alırsa 12 oyuncuğu oluyor. İkranur'un kaç oyuncuğu vardı?





Öykü 9 kitap okudu. Kaç kitap daha okursa 15 kitap okumuş olur?





Eylül dün biraz soru çözdü. Bugün de 8 soru çözdü. Eylül iki günde 16 soru çözdüğüne göre dün kaç soru çözmüştür?





Betül evindeki 17 balondan 7 tanesini patlattı. Mina kaç balon daha şişirirse 20 balonları olur?





Yağız bahçeye 3 ağaç daha dikerse bahçede 10 ağaç oluyor. Bahçede önce kaç ağaç vardı?



Dalda 8 kuş var. Kaç kuş konarsa dalda 17 kuş olur?


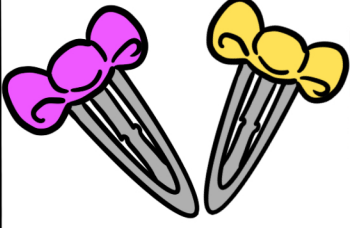


Sınıfımızda 9 kız var. Sınıfımızın mevcudu 17 ise kaç tane erkek öğrenci vardır?




# PROBLEMLER



Zeynep'in 6 tokası vardır.  
Meryem ona biraz toka verdi.  
Zeynep'in 14 tokası oldu.  
Meryem ona kaç toka verdi ?




Efe'nin biraz parası var.  
Şevket Efe'ye 7 lira verince 20 TL'si oldu.  
Efe'nin önce kaç lirası vardı?




Ahmet'in elindeki boncuklara  
8 eklersem 13 boncuk ediyor.  
Ahmet'in elinde kaç boncuk vardı ?




Metehan'ın 9 arabası var.  
Yusuf ona birkaç araba verince 16 arabası oldu.  
Yusuf ona kaç araba verdi ?




Kerem'in 5 arabası biraz da kurşun askeri var.  
Kerem'in toplam oyuncak sayısı 9 olduğuna göre kaç tane kurşun askeri var?





Damla'nın 6 tavşanı var.  
Tuana ona birkaç tavşan verdi.  
Damla'nın 10 tavşanı oldu.  
Tuana Damla'ya kaç tavşan verdi ?



Ece aklında tuttuğu sayıya 7 ekleyince sayı 13 oluyor.  
Ece'nin aklında tuttuğu sayı kaçtır?

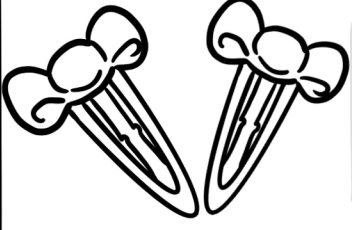


Atakan'ın 12 bilyesi var.  
Aysima ona kaç bilye verirse 20 bilyesi olur?




# PROBLEMLER


Zeynep'in 6 tokası vardır.  
Meryem ona biraz toka verdi.  
Zeynep'in 14 tokası oldu.  
Meryem ona kaç toka verdi ?




Efe'nin biraz parası var.  
Şevket Efe'ye 7 lira verince 20 TL'si oldu.  
Efe'nin önce kaç lirası vardı?




Ahmet'in elindeki boncuklara  
8 eklersem 13 boncuk ediyor.  
Ahmet'in elinde kaç boncuk vardı ?



Metehan'ın 9 arabası var.  
Yusuf ona birkaç araba verince 16 arabası oldu.  
Yusuf ona kaç araba verdi ?



Kerem'in 5 arabası biraz da kurşun askeri var.  
Kerem'in toplam oyuncak sayısı 9 olduğuna göre kaç tane kurşun askeri var?




Damla'nın 6 tavşanı var.  
Tuana ona birkaç tavşan verdi.  
Damla'nın 10 tavşanı oldu.  
Tuana Damla'ya kaç tavşan verdi ?

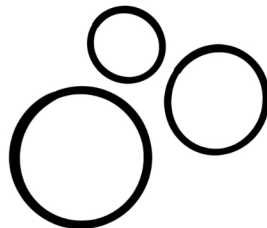


Ece aklında tuttuğu sayıya 7 ekleyince sayı 13 oluyor.  
Ece'nin aklında tuttuğu sayı kaçtır?

1234  
5678  
90



Atakan'ın 12 bilyesi var.  
Aysima ona kaç bilye verirse 20 bilyesi olur?




# 1.SINIF TOPLAMA VE ÇIKARMA PROBLEMLERİ


Zehra 9 yaşındadır. Uğur Zehra'dan 4 yaş büyüktür. İkisinin yaşları toplamı kaçtır?




Babamın 8 tavuğu vardı. 7 tavuk daha aldı. Babamın kaç tavuğu oldu ?




Tabakta 11 kurabiye vardı. 6 tanesini yedim. Tabakta kaç kurabiye kaldı ?



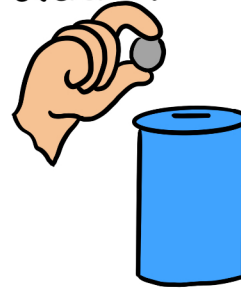

Hasan dün 7 sayfa kitap okudu. Bugün de 8 sayfa kitap okudu. Toplam kaç sayfa kitap okudu ?





Sepette 14 yumurta vardı. 9 tanesi kırıldı . Sepette kaç yumurta kaldı ?




Kumbaramda 8 lira vardı. Annem kumbarama 9 lira attı. Kumbaramda toplam kaç liram oldu ?




Minibüste 12 yolcu vardı. 8 yolcu daha bindi. Minibüste kaç yolcu oldu ?






Kalemliğimde 15 kalemim vardı. 6 tanesini kardeşime verdim. Kalemliğimde kaç kalemim kaldı ?






# 1.SINIF TOPLAMA VE ÇIKARMA PROBLEMLERİ



Zehra 9 yaşındadır. Uğur Zehra'dan 4 yaş büyüktür. İkisinin yaşları toplamı kaçtır?




Babamın 8 tavuğu vardı. 7 tavuk daha aldı. Babamın kaç tavuğu oldu ?




Tabakta 11 kurabiye vardı. 6 tanesini yedim. Tabakta kaç kurabiye kaldı ?




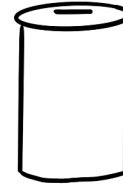
Hasan dün 7 sayfa kitap okudu. Bugün de 8 sayfa kitap okudu. Toplam kaç sayfa kitap okudu ?





Sepette 14 yumurta vardı. 9 tanesi kırıldı . Sepette kaç yumurta kaldı ?




Kumbaramda 8 lira vardı. Annem kumbarama 9 lira attı. Kumbaramda toplam kaç liram oldu ?



Minibüste 12 yolcu vardı. 8 yolcu daha bindi. Minibüste kaç yolcu oldu ?





Kalemliğimde 15 kalemim vardı. 6 tanesini kardeşime verdim. Kalemliğimde kaç kalemim kaldı ?





# 1.SINIF TOPLAMA VE ÇIKARMA PROBLEMLERİ

Kek yapmak için 9 yumurta kullanacağım . Evde 5 yumurta var. Kek yapmak için kaç yumurtaya ihtiyacım var ?




Bir pizza dükkanında 16 pizza vardı. 9 tanesi satıldı. Geriye kaç pizza kaldı ?




1 onluk 4 birlikten oluşan sayıya 6 eklersem hangi sayıyı elde ederim ?



1234  
5678  
90





Okulun bahçesinde 17 çocuk top oynuyordu. 5 tanesi oyundan çıktı. Geriye kaç çocuk kaldı ?




Bakkal amca sabah 13 akşam 4 süt sattı. Bakkal amca toplam kaç süt satmıştır ?





Evimizde 12 tane su bardağı vardı. 6 tanesi kırıldı. Kaç tane su bardağımız kaldı ?



Parkta 7 kelebek vardı. Yanlarına 8 kelebek daha geldi. Toplam kaç kelebek oldu ?


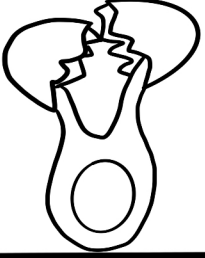


Dün 5.kutu oyun hamuru aldım. Önceden de 8 kutu oyun hamurum vardı. Toplam kaç kutu oyun hamurum oldu ?





# 1.SINIF TOPLAMA VE ÇIKARMA PROBLEMLERİ

Kek yapmak için 9 yumurta kullanacağım . Evde 5 yumurta var. Kek yapmak için kaç yumurtaya ihtiyacım var ?




Bir pizza dükkanında 16 pizza vardı. 9 tanesi satıldı. Geriye kaç pizza kaldı ?




1 onluk 4 birlikten oluşan sayıya 6 eklersem hangi sayıyı elde ederim ?



1234  
5678  
90





Okulun bahçesinde 17 çocuk top oynuyordu. 5 tanesi oyundan çıktı. Geriye kaç çocuk kaldı ?





Bakkal amca sabah 13 akşam 4 süt sattı. Bakkal amca toplam kaç süt satmıştır ?





Evimizde 12 tane su bardağı vardı. 6 tanesi kırıldı. Kaç tane su bardağımız kaldı ?



Parkta 7 kelebek vardı. Yanlarına 8 kelebek daha geldi. Toplam kaç kelebek oldu ?





Dün 5.kutu oyun hamuru aldım. Önceden de 8 kutu oyun hamurum vardı. Toplam kaç kutu oyun hamurum oldu ?





# 1.SINIF ÇIKARMA İŞLEMİ PROBLEMLERİ-1



Otobüste 19 yolcu vardı.  
İlk durakta 5 yolcu indi.  
Otobüste kaç yolcu kaldı?




Ahmet 18 sorusun 9  
tanmesini çözdü. Geriye  
çözülmeyen kaç soru  
kalmıştır?




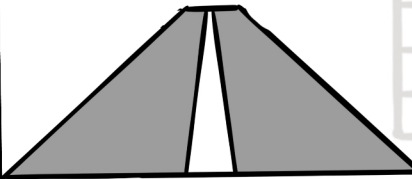
Ayşe 14 fındığın 6  
tanmesini yedi. Ayşe'nin  
kaç tane fındığı kaldı?




Okulun bahçesinde 12  
tane fidan var. 7 tanesi  
kurudu. Bahçede kaç  
fidan kaldı?





Bera 19 metre yolun  
5 metresini yürüdü.  
Geriye kaç metre yolu  
kaldı?





Tabakta 18 çilek var. 7  
tanmesini yedim, Tabakta  
kaç çilek kaldı ?



Simitçinin 20 simiti var.  
9 tanmesini sattı. Geriye  
kaç simit kaldı ?





16 kasa elmanın 9  
kasası satıldı. Kaç  
kasa elma kaldı?





# 1.SINIF ÇIKARMA İŞLEMİ PROBLEMLERİ-1



Otobüste 19 yolcu vardı.  
İlk durakta 5 yolcu indi.  
Otobüste kaç yolcu kaldı?




Ahmet 18 sorusun 9  
tanmesini çözdü. Geriye  
çözülmemeyen kaç soru  
kalmıştır?




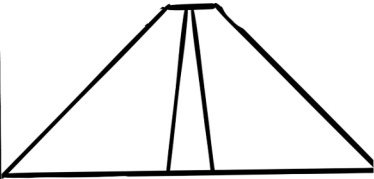
Ayşe 14 fındığın 6  
tanmesini yedi. Ayşe'nin  
kaç tane fındığı kaldı?





Okulun bahçesinde 12  
tane fidan var. 7 tanesi  
kurudu. Bahçede kaç  
fidan kaldı?





Bera 19 metre yolun  
5 metresini yürüdü.  
Geriye kaç metre yolu  
kaldı?



Tabakta 18 çilek var. 7  
tanmesini yedim, Tabakta  
kaç çilek kaldı ?



Simitçinin 20 simiti var.  
9 tanmesini sattı. Geriye  
kaç simit kaldı ?



16 kasa elmanın 9  
kasası satıldı. Kaç  
kasa elma kaldı?

