

4.SINIF

2.DÖNEM
DEĞERLENDİRME
DOSYAM



Esra GÜMÜŞSOY



SOSYAL BİLGİLER SORULARI

1. I () İsteklerimiz, ihtiyaçlarımızdan önce karşılanmalıdır.

II () Temel ihtiyaçlarımız, sosyal ihtiyaçlarımızdan öncelikli olmalıdır.

III () Aile bireyleri harcamalarında aile bütçesine uygun davranmalıdır.

IV () Yeme, içme, giyinme ve barınma temel ihtiyaçlarımızdandır.

Yukarıda verilen bilgilerden hangisi ya da hangileri yanlıştır?

- a) I ve II b) II ve IV c) Yalnız I d) Yalnız III

2. Dik yamaçlı, engebeli, çok yağış alan bir bölgede hangi doğal afetin daha çok görülmesi beklenir?

- a) Toprak kayması b) Deprem c) Tsunami d) Sel

3. Aşağıda pusula ile ilgili verilen bilgilerden hangisi yanlıştır?

- a) Koyu renkli ucu her zaman kuzeyi gösterir.
b) En doğru ve kolay yön bulma aracıdır.
c) Pusula yapımında mıknatıs kullanılır.
d) Pusula sadece karada yön bulmamızı sağlar.

4. () Ülkemiz, dünyanın aktif deprem kuşakları üzerinde yer almamaktadır.

() Depremin oluşumu engellenemez ancak alınacak önlemlerle zararları azaltılabilir.

() Deprem risk haritasına göre ülkemizdeki her şehir 1. derece deprem bölgesindedir.

Yukarıda verilen bilgilerin doğru-yanlış değerlendirilmesi nasıl olmalıdır?

- a) Y-D-Y b) Y-D-D c) D-Y-D d) Y-Y-Y

5. Trafik kazası Sel Çığ Erozyon Yangın Tsunami

Yukarıda verilenlerden kaç tanesi doğal afet değildir?

- a) 2 b) 3 c) 4 d) 5

6. Çığ Rüzgar Sel Heyelan Yangın Fırtına Sis Kar

Yukarıda verilenlerden kaç tanesi hava olayıdır?

- a) 3 b) 4 c) 5 d) 6

7I() En dađlık blge , Akdeniz Blgesi`dir.

II.() Uę tarafı denizlerle ęevrilidir.

III.() Kuzeyde ormanlık alanlar fazladır.

IV.() Batı ile Gney arası mesafe en uzundur.

Yukarıda lkemizin cođrafı zellikleriyle ilgili verilenlerden hangileri dođrudur?

a) I-III

b) II-III

c) II-IV

d) III-IV

8. Ařađıdaki seęeneklerin hangisinde sırasıyla ana ve ara ynler vardır?

a) Kuzey-Kuzeybatı b) Gneybatı -Dođu c) Batı-Kuzey d) Gneydođu-Gney

9. 1. Ulařım

a. Ultrason

Yanda verilen teknolojik rn

2. Sađlık

b. Projeksiyon cihazı

ile ait olduđu alan eřleřtirildiđin

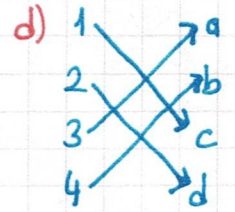
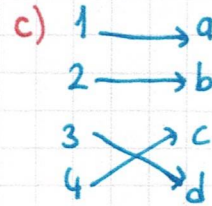
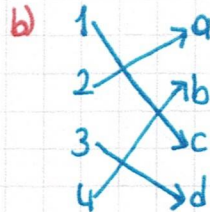
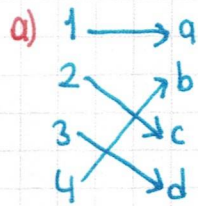
3. Haberleřme

c. Feribot

de hangi Őekil oluřur?

4. Eđitim

d. Telsiz



10. Ařađıda verilen ifadelerden hangisi dođrudur?

a) Ulařımın hızlı olması teknolojinin zararlarından biridir.

b) Teknolojide son beř yılda hię ilerleme olmamıřtır.

c) Toplu tařıma , ęevre kirliliđini azaltır.

d) Teknolojik rnlerin plastik atıkları geri dnřtrlemez.

11. Ařađıdakilerden hangisi deprem anında yapılması gerekenlerden deđildir?

a) Sabitlenmemiř dolap, raf ve pencerelerden uzak durulmalı.

b) Merdivenlere ya da aıkıřa dođru hızla kařulmalı.

c) Kesinlikle asansr kullanılmamalı.

d) Bař , iki el arasına alınarak ya da bir koruyucu malzemeye korunmalı.

12.



Mete

Bulduğum yerde kış ayları sıcak olduğundan seracılık yaygındır. Tarihi eser ve doğal güzellik bakımından zengindir. Turizm de önemli faaliyetlerden biridir.



Ayşe

Bulduğum yerde taşkömürü yatakları vardır. Madencilik önemli ekonomik faaliyetlerdendir.



Ahmet

Bulduğum yerde sanayi ve ulaşım gelişmiştir. Orman bakımından zengindir. Limanlardan önemli ölçüde ithalat ve ihracat yapılır.

Yukarıda öğrencilerin verdikleri bilgilere göre hangisi söylenemez?

- a) Ayşe'nin bulunduğu şehir Zonguldak'tır.
- b) Ahmet'in bulunduğu şehir Doğu Anadolu Bölgesinde'dir.
- c) Mete'nin bulunduğu şehir Antalya olabilir.
- d) Ahmet'in bulunduğu şehir İzmit olabilir.

13. sağlık alanında kullanılan teknolojik alettir.

..... icat edilmesiyle iletişim kolaylaşmıştır.

Galileo icat etmiştir.

Carl Friedrich Benz icat etmiştir.

Uçağın icatını yapmıştır.

telefon teleskop steteskop matbaa otomobil

Wright Kardeşler Graham Bell

Yukarıdaki boşluklar uygun kelimeler ile doldurulduğunda hangileri dışta kalır?

- a) matbaa - Graham Bell
- b) teleskop - Graham Bell
- c) matbaa - Wright Kardeşler
- d) steteskop - Wright Kardeşler

14. Aşağıdaki bilim insanlarından hangisi sağlık alanında icat yapmıştır?

- a) Gutenberg
- b) Graham Bell
- c) Luis Pasteur
- d) Ala Ficher

15.)) Gelir ve giderlerimizi gösteren çizelge

- » Bir ürünün çeşitli yollarla ortaya çıkarılması
- » Üretimi yapılan maddenin tüketiciye ulaştırılması
- » Dünyada bulunan, çeşitli amaçla kullanabileceğimiz şeyler
- » Bir kişinin hayatını sürdürebilmek için toplumda aldığı görev

Yukarıda hangi kavramların anlamı verilmemiştir?

- a) Kaynak-Bütçe b) Bütçe-Meslek c) Dağıtım-Üretim d) Tüketim-Ekonom

16.I. () Üretimin yapılabilmesi için hammaddeye, insan gücüne ve paraya ihtiyaç vardır.

II. () Fabrikaların yaptığı iş, buğday yetiştiren çiftçinin yaptığı iş, üretim örnektir.

III. () Tahtadan sandalye yapımı, tüketimdir.

IV. () Hazır yiyeceklerin marketlere teslimi, dağıtımdır.

V. () Bilgisayarların bilgi toplamak için kullanılması, tüketimdir.

Yukarıda verilen ifadelerden hangileri yanlıştır?

- a) Yalnız III b) Yalnız V c) III ve IV d) I-II-IV

17. Bilinçli tüketici;

I. Ürünün kalitesini yapılan reklamlara göre belirler.

II. Son kullanma tarihine, CE ve TSE damgalarına dikkat eder.

III. Pahalı ürünler kaliteli olacağından yüksek fiyatlı ürünleri tercih eder.

IV. Yerli malı kullanmaya özen gösterir.

V. Satın aldığı ürünle ilgili çıkabilecek sorunlarda Sağlık Bakanlığı'na başvurur.

Yukarıda verilen ifadelerden hangisi ya da hangileri söylenemez?

- a) I-II-III b) I-III-V c) II-IV-V d) III-V

18. Satın aldığımız bir ürünle ilgili sorun yaşadığımızda mağaza ile anlaşmazlığa düştüğümüzde nereye başvuru yapmalıyız?

- a) Milli Eğitim Bakanlığı c) TÜKODER (Tüketiciyi Koruma Derneği)
b) Maliye Bakanlığı d) Gıda-Tarım ve Hayvancılık Bakanlığı

19. Türkiye Büyük Millet Meclisi açılmıştır.

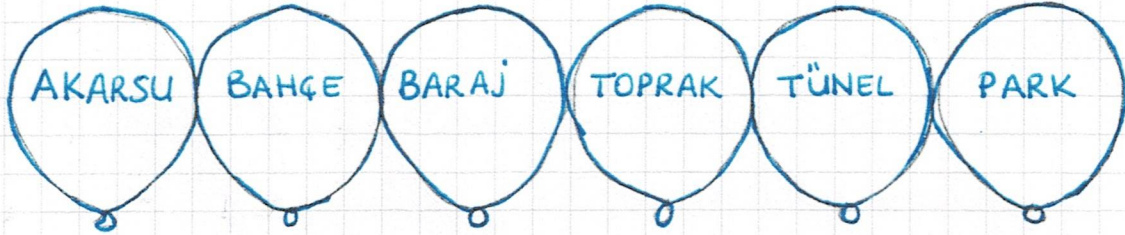
Cumhuriyet ilan edilmiştir.

Yukarıdaki boşluklar hangileriyle tamamlanmalıdır?

a) 29 Ekim 1920- 23 Nisan 1923 c) 23 Nisan 1923- 29 Ekim 1920

b) 29 Ekim 1923- 23 Nisan 1920 d) 23 Nisan 1920- 29 Ekim 1923

20.



Ece beşeri unsurların yazılı olduğu balonları patlatıyor. Buna göre kaç tane balon patlatmıştır?

a) 2

b) 3

c) 4

d) 5

21.



Ecrin "Çocuk Hakları Sözleşmesi" ile ilgili kitap okumaktadır. Buna göre aşağıdakilerden hangisi Ecrin'in okuyacağı ifadelerden biri olamaz?

a) Hiçbir çocuk sınırsız kalmaz.

b) Çocukların eğitim, sağlık, oyun oynama hakkı vardır.

c) Savaş ortamlarında çocuklar korunmalıdır.

d) Her çocuğun seçme ve seçilme hakkı vardır.

22. Aşağıdakilerden hangisi çocuk haklarından biri değildir?

a) Tüm çocukların okula gitmesi ve bu hakkın korunması devletin güvencesindedir.

b) Hiçbir çocuk rengi, ırkı, dili, dini, cinsiyeti yüzünden ayrıma tabi tutulamaz.

c) Her çocuk özgürce düşüncesini açıklama hakkına sahiptir.

d) Her çocuğun bir işte çalışma hakkı vardır.

23. "TBMM açılmıştır. TBMM'nin açıldığı gün olarak kutlanmaktadır." cümlesindeki boşluklara sırasıyla hangi kelimeler getirilmelidir?

a) İstanbul'da - Ulusal Egemenlik ve Çocuk Bayramı c) Samsun'da - Atatürk'ü Anma, Gençlik ve Spor Bayramı

b) Ankara'da - Ulusal Egemenlik ve Çocuk Bayramı d) Ankara'da - Zafer Bayramı

24. << Başkenti Atina'dır. Atatürk'ün doğduğu Selanik şehri de bu ülkededir.

<< Ülkemizin batı yönünde bulunan, başkenti Sofya olan ülkedir.

<< Başkenti Şam olan, ülkemizin güneyinde bulunan ülkedir.

Yukarıda hangi ülkeye ait bilgi bulunmamaktadır?

- a) Yunanistan b) Bulgaristan c) Suriye d) Irak

25. BAŞKENTİ

MESHUR ÖZELLİĞİ

✓ Londra

Big Ben Saat Kulesi

Yanda aşağıdaki ülke-

✓ Kopenhag

Süt ve Süt Ürünleri

lerden hangisine ait

✓ Oslo

Somon Balığı

bilgi yer almamaktadır?

✓ Berlin

Otomotiv (Araba)

✓ Washington

Özgürlük Heykeli

a) Avusturya

b) Norveç

c) İngiltere

d) Danimarka

26. Aşağıdaki özel günlerden hangisi sadece ülkemizde kutlanır?

a) Nevruz Bayramı

b) Anneler Günü

30 Ağustos

c) Zafer Bayramı

d) Ramazan Bayramı

27. Aşağıdaki ülkelerden hangisinin kültürü bizim kültürümüzle benzerlik gösterir?

a) Azerbaycan

b) Rusya

c) Fransa

d) Almanya

28. Aşağıdakilerden hangisi Türk Cumhuriyetlerinden değildir?

a) Kırgızistan

c) Kazakistan

b) Azerbaycan

d) Gürcistan

29. Piramitleri ile ünlü ülke

Yanda aşağıdaki ülkelerden hangisine

Eyfel Kulesi ile bilinen ülke

ait bilgi yer almamaktadır?

Tac Mahal ile ünlü ülke

a) Hindistan

b) Belçika

c) Mısır

d) Fransa

30. En uzun ve en kısa kara sınırimızın olduğu ülkeler sırasıyla hangileridir?

a) Nahçıvan - Suriye

b) Suriye - Nahçıvan

c) İran - Nahçıvan

d) İran - Irak

31. Aşağıdakilerden hangisi ailemize karşı sorumluluklarımız arasında değildir?

- a) Aile bütçesine uygun davranmak
- b) Ödevlerimizi zamanında yapmak
- c) Yapabileceğimiz ev işlerinde anne-babamıza yardımcı olmak
- d) Odamızı düzenli tutmak

32. Aşağıdakilerden hangisi diğerlerinden farklı bir yönü gösterir?

- a) Öğle vakti dikilen gubuğun gölgesi
- b) Pusulanın renkli ucu
- c) Karınca yuvalarının giriş yönü
- d) Kutup yıldızı

33. Antalya Mersin Adana Konya Muğla Isparta İzmir

Yukarıdaki illerden kaç tanesi Akdeniz Bölgesindedir?

- a) 3
- b) 4
- c) 5
- d) 6

34. Türkiye'nin en çok yağış alan bölgesi

- > Türkiye'nin en dağlık ve engebeli bölgesi
- > Türkiye'de nüfusun en fazla olduğu bölge
- > Türkiye'de sanayi, ticaret, ulaşımın en çok geliştiği bölge

Yukarıda hangi bölgemize ait özellik belirtilmemiştir?

- a) Doğu Anadolu
- b) Marmara
- c) Karadeniz
- d) Akdeniz

35. 1. Ova, plato, dağ doğal unsur iken park, yol, bina beşeri unsurdur.

2. Röntgen cihazı, eğitim alanında kullanılan teknolojik cihazdır.

3. Kültür, atalarımızdan bize kalan maddi-manevi değerlerin hepsidir.

4. Üretim aşamalarında tüketim, dağıtımdan sonra gelir.

Yukarıda verilen ifadelerden hangileri yanlıştır?

- a) Yalnız II
- b) II ve III
- c) II ve IV
- d) Yalnız IV

Doğru mu Yanlış mı? (Sosyal Bilgiler)

1. Önemli olayların ve durumların tarihsel olarak sıralanması kronolojidir. ()
2. Gözlerimin kahverengi olması kişisel özelliğim iken futbola ilgi duymam fiziksel özelliğimdir. ()
3. Kına gecesi, düğünlerimiz gelenekler arasındadır. ()
4. Ramazan ve Kurban Bayramı milli bayramlarımızdandır. ()
5. Kurtuluş Savaşı'nda Batı Cephesi'nde Yunanlılar ile, Doğu Cephesi'nde Ermeniler ile mücadele edilmiştir. ()
6. I. Dünya Savaşında İtilaf Devletleri arasında Bulgaristan da vardı. ()
7. Mustafa Kemal Atatürk, milli mücadeleyi başlatmak için 19 Mayıs 1919'da Samsun'a çıkmıştır. ()
8. İzmir, Muğla ülkemizin kuzey sahilindeki şehirlerdir. ()
9. Karınca yuvalarının girişi güneyi gösterirken Kutup Yıldızı kuzeyi gösterir. ()
10. Çin'de icat edilen pusula denizcilikte de kullanılır. ()
11. Ormanlar doğal unsur iken parklar beşeri unsurdur. ()
12. Fırtına, sis, dolu hava olayı iken sel, çığ doğal afettir. ()
13. Ülkemizde nüfusu en az olan il Bayburt, en fazla olan il ise İstanbul'dur. ()
14. Telsiz ulaşım alanında bir teknolojik cihaz iken, projeksiyon sağlık alanında kullanılan bir cihazdır. ()
15. Ülkemiz üç yanı denizlerle çevrili bir ada ülkesidir. ()
16. Deprem çantasında düdükle fener konulması gerekmez. ()
17. Kurtuluş Savaşından sonra Lozan Barış Anlaşması imzalanmıştır. ()
18. Şahin Bey, Kurtuluş Savaşında İzmir savunmasına katkıda bulunmuştur. ()
19. Milli Mücadele döneminde düşmana ilk kurşunu Haşan Tahsin, İzmir'de sıktı. ()
20. "Teleskop, tren, feribot, uçak" içerisinde farklı alana ait olan teknolojik cihaz teleskoptur. ()
21. Eğitim masrafı gider iken, annemin maaşı gelirdir. ()
22. Her atık geri dönüştürülebilir. ()
23. Hammaddelerin belirli aşamalardan geçerek yeniden kullanılabilir hale getirilmesi geridönüşümdür. ()
24. Demokrasi yönetimlerinde millet egemendir. ()
25. İtalya'nın başkenti Roma iken, Fransa'nın başkenti Paris'tir. ()
26. Gözlemevlerinin şehir dışında olmasının sebebi ışık kirliliğinin olmamasıdır. ()
27. Tasarruf için beyaz eşyada D sınıfı eşyaları tercih etmeliyiz. ()

SOSYAL BİLGİLER SORU GÖZÜMLERİ

1. Maddeler incelendiğinde sadece 1 nolu ifadenin yanlış olduğu görülmekte. Temel ihtiyaçlarımız her zaman sosyal ihtiyaçlarımızdan ve isteklerimizden öncelikli olmalıdır!!!

Cevap: C

2. ⚠ Dik yamaçlarda , arazinin çok eğimli ve engebeli olduğu yerlerde toprak kayması daha çok görülür. Yağışlar nedeniyle toprağın altındaki tabaka gevşer ve toprağın üstünde tabaka harekete geçer.

Cevap: A

3. Pusulaya ilgili a, b ve c seçenekleri söylenebilir.

⚠ Pusula sadece karada değil denizcilikte , havacılıkta da kullanılır.

Dağcılar , madenciler de pusula kullanır.

Cevap: D

4. ⚠ Türkiye, dünyanın aktif deprem kuşaklarından biri olan Alp-Himalaya deprem kuşağı üzerindedir.

⚠ Ülkemizde deprem risk haritasına 5 farklı risk bölgesi vardır.

1. grup en yüksek deprem riski içerirken 5. grup en düşük riski içerir.

Balkesir, Manisa, Denizli, İzmir, Aydın gibi iller 1. grupta iken Niğde,

Konya, Aksaray, Karaman gibi iller 4. ve 5. grupta yer alır.

⚠ Depremi engellenemez ancak önceden alınan tedbirlerle etkisi azaltılabilir.

Sırasıyla yanlış, doğru, yanlış ifadeler yer almaktadır. Cevap: A

5. Trafik kazası, yangın doğal afet değildir.

Sel, çığ, erozyon, tsunami doğal afettir.

Cevap: A

6. Rüzgar, fırtına, sis ve kar hava olayıdır.

Çığ, sel, heyelan doğal afettir.

Cevap: B

7. ⚠ En dağlık bölgemiz Doğu Anadolu Bölgesi'dir.

⚠ Doğu ile batı arası mesafe en uzundur.

⚠ Dış tarafı denizle çevrilidir.

⚠ Kuzeyde ormanlık alan fazladır.

2 ve 3 numaralı ifadeler doğrudur.

Cevap: B

8. Kuzey - Güney - Doğu - Batı ana yönlerdir.

Cevap: A

Kuzeybatı
Güneybatı
Kuzeydoğu
Güneydoğu

} Ara yönler

9. Feribot → Ulaşım

Cevap: B

Ultrason → Sağlık

Telsiz → Haberleşme

Projeksiyon cihazı → Eğitim

10. Ulaşımın hızlı olması → Teknolojinin yararlarından biri

Teknoloji sürekli hızla ilerlemektedir.

Plastik atıklar geri dönüştürülebilir.

Toplu taşıma, çevre kirliliğini azaltır. Çünkü toplu taşıma ile kullanılan araç sayısı azalır.

Cevap: C

11. Deprem Öncesi Alınacak Önlemler

✓ Yapılar deprem etkilerine karşı dayanıklı yapılmalıdır.

✓ Soba, ısıtıcılar, dolap ve devrilebilecek eşyalar sabitlenmelidir.

✓ Afete hazırlık planları yapılmalıdır.

✓ Yangın söndürme cihazı bulundurulmalıdır.

✓ Deprem çantası hazırlanmalıdır.

Deprem Anında Yapılması Gerekenler

✓ Sabitlenmemiş eşyalardan uzak durulmalıdır.

✓ Baş, iki el arasına alınarak ya da koruyucu malzeme ile korunmalıdır.

✓ Güvenli bir yer bulup, diz üstü ÇÖK, başını ve enseni koruyacak şekilde

KAPAN, düşmemek için sabit bir yere TUTUN.

✓ Merdivenlere ya da çıkışlara doğru koşulmamalıdır.

Deprem Sonrası Yapılması Gerekenler

✓ Acil durum çantasını yanınıza alarak buluşma noktasına gidin.

✓ Cadde ve sokakları acil yardım araçları için serbest bırakın.

Cevap: B

12. Turizm ve seracılığın yaygın olduğu, kış aylarının sıcak geçtiği bölge Akdeniz Bölgesi, şehir ise Antalya olabilir.

Taşkömürü yataklarının olduğu şehir Zonguldak'tır.

Sanayi ve ulaşımın geliştiği bölge Marmara, şehir ise İzmit olabilir.

Ahmet'in bulunduğu şehir İzmit olabilir ancak Doğu Anadolu Bölgesi

olamaz.

Cevap: B

13. Steteskop → sağlık alanında kullanılır.

Telefonun icadı ile iletişim kolaylaşmıştır.

Galileo teleskopu icat etmiştir.

Benz, otomobili icat etmiştir.

Uçağın icadını ise Wright Kardeşler yapmıştır.

Cevap: A

14. Luis Pasteur, kuduz aşısını bularak sağlık alanında önemli bir icat yapmıştır.

Cevap: C

15. Gelir-gider çizelgesi → bütçe

Tüketiciye ulaştırma → dağıtım

Bir ürünün ortaya çıkarılması → üretim

Dünyada bulunan şeyler → kaynak

Bir kişinin toplumdaki görevi → meslek

Cevap: D

16. Tahtadan sandalye yapımı → üretim

Diğer ifadeler doğru iken yalnız 3 yanlıştır.

Cevap: A

17. I, III ve V yanlış ifadelerdir.

Satın aldığı ürünle ilgili sorun olduğunda Sağlık Bakanlığı'na değil TÜKODER'e başvurmak gerekir.

Bir ürün satın alırken kaliteli ve uygun fiyatlı olanı tercih etmeliyiz.

Cevap: B

18. C TÜKODER.

19. TBMM → 23 Nisan 1920

Cumhuriyet'in ilanı → 29 Ekim 1923

Cevap: D

20. ▼ Doğal Unsur: Doğada kendiliğinden var olan unsurlar.
Beşeri Unsur: İnsanların doğayı değiştirerek oluşturduğu unsurlar.
Akarsu, toprak → doğal unsur
Bahçe, baraj, tünel, park → beşeri unsur Cevap: C
21. Seçme ve seçilme hakkı 18 yaşından büyükler içindir. Cevap: D
22. a, b ve c seçeneklerinde verilen ifadeler çocuk hakları arasındadır. Cevap: D
23. TBMM, 23 Nisan 1920'de Ankara'da açılmıştır. TBMM'nin açıldığı gün çocuklara hediye edilmiştir. Her yıl 23 Nisan Ulusal Egemenlik ve Çocuk Bayramı olarak kutlanır. Cevap: B
24. Başkenti Atina olan ülke Yunanistan
Başkenti Sofya olan ülke Bulgaristan
Başkenti Şam olan ülke Suriye Cevap: D
25. Başkenti Londra olan ülke İngiltere, Kopenhag olan ülke Danimarka
Oslo olan ülke Norveç'tir. Avusturya'ya ait bilgi yoktur. Cevap: A
26. Nevruz Bayramı, Anneler Günü, Ramazan Bayramı Türkiye dışında başka ülkelerde de kutlanır. Ancak milli bayramlarımızdan olan 30 Ağustos Zafer Bayramı Türk milletinin bayramıdır, sadece Türkiye'de kutlanır. Cevap: C
27. Azerbaycan'ın kültürü bizim kültürümüzle benzerlik gösterir.
Türk Cumhuriyeti olduğu için örf, adet ve geleneklerimiz benzer. Cevap: A
28. Gürcistan, Türk Cumhuriyetlerinden değildir. Cevap: D
29. Piramitleriyle ünlü ülke → Mısır
Eyfel Kulesiyle ünlü ülke → Fransa
Tac Mahal ile ünlü ülke → Hindistan Cevap: B
30. En uzun kara sınırimiz → Suriye
En kısa kara sınırimiz → Nahçıvan Cevap: B

31. Ödevlerimizi zamanında yapmak okula karşı sorumluluklarımız başlığı altında yer alır. Diğer seçenekler ailemize karşı sorumluluklardır. Cevap: B

32. Öğle vakti dikilen çubuğun gölgesi } Kuzeyi gösterir. Karınca yuvalarının girişi
Kutup yıldızı } ↓ Güneyi gösterir.
Pusulanın renkli ucu } Cevap: C

33. Antalya, Mersin, Adana, Isparta → Akdeniz Bölgesi illeri
Konya → İç Anadolu bölgesi ili
İzmir, Muğla → Ege Bölgesi illeri Cevap: B

34. En çok yağış alan bölge → Karadeniz
En dağlık, engebeli bölge → Doğu Anadolu
Nüfusun en fazla, sanayinin, ticaret, ulaşımın en çok geliştiği bölge
Marmara Bölgesi'dir. Cevap: D

35. Röntgen cihazı sağlık alanındaki teknolojik cihazdır.
Tüketim aşaması, dağıtımdan sonra gelir. (Hammadde - Üretim - Dağıtım ve Tüketim) Cevap: C

DOĞRU - YANLIŞ SORULARININ CEVAPLARI (SOSYAL BİLGİLER)

- | | | |
|-------|-------|-------|
| 1. D | 12. D | 23. D |
| 2. Y | 13. D | 24. D |
| 3. D | 14. Y | 25. D |
| 4. Y | 15. Y | 26. D |
| 5. D | 16. Y | 27. Y |
| 6. Y | 17. D | |
| 7. D | 18. Y | |
| 8. Y | 19. D | |
| 9. D | 20. D | |
| 10. D | 21. D | |
| 11. D | 22. Y | |