




## TARTMA İLE İLGİLİ PROBLEMLER

1.) Her birinde 19 kg domates olan 24 kasa domatesin 289 kg domates satılmış. Geriye kaç kg domates kalmıştır ?



Çözüm :


4.) 3 kilogram leblebi 45 lira olduğuna göre, 5 kilogram leblebi kaç liradır ?




Çözüm :


2.) Bahçedeki büyük kutu 30 kg ağırlığındadır. Küçük kutu ise büyük kutudan 13 kg hafiftir. Buna göre iki kutu toplam kaç kg'dır ?




Çözüm :


5.) Annem her biri 60 gr olan 3 paket tarçın almış. Tarçının 136 gr'ını kullanmış. Geriye kaç gr tarçın kalmıştır?



Çözüm :


3.) Bir pastane her gün 17 kg şeker kullanmaktadır. Şekerin 1 kilosu 5 lira olduğuna göre, bir haftada kullanılan toplam şeker kaç liradır ?



Çözüm :


6.) Kavanozda 800 gr yem vardı. Her hafta 75 gr'ını kuşa verdik. 6 hafta sonunda kaç gr ye kalır ?



Çözüm :
