



HARF (SES) BİLGİSİ

☆ Aşağıda boş bırakılan yerleri dolduralım.

A	B	D	E	H	I	K	...
1	2	5	6	10	11	14	...
...	N	O	S	U	Ü
...	17	18	22	25	26

☆ Harflerin alfabedeki sırasına göre şifreyi çözelim .

T
24	6	16	12	29	15	12	14

...
4	18	14



...
19	17	6	16	15	12	5	12	21



☆ Verilen harfin öncesini ve sonrasını yazalım .

...	G	...
-----	---	-----

...	T	...
-----	---	-----

...	M	...
-----	---	-----

...	J	...
-----	---	-----

...	Y	...
-----	---	-----

...	C	...
-----	---	-----

...	İ	...
-----	---	-----

...	U	...
-----	---	-----

...	S	...
-----	---	-----

...	D	...
-----	---	-----

...	R	...
-----	---	-----

...	O	...
-----	---	-----

...	K	...
-----	---	-----

...	H	...
-----	---	-----

...	Ü	...
-----	---	-----



EŞ SESLİ KELİMELELER

⚙️ Aşağıda verilen kelimeleri örnekteki gibi iki farklı anlamda cümlede kullanınız.

yüz

Deri yüzme işi

Babam koyunun derisini yüzdü.

Sayı olarak yüz

Sinemada yüz kişi vardı.

gül

Gülme işi

.....

Çiçek

.....

çay

Bir içecek

.....

Küçük akarsu

.....

yaş

Islak olma

.....

Yıl birimi

.....

yaz

Yazma işi

.....

Mevsim

.....

dal

Ağacın dalı

.....

Suya dalma işi

.....

saç

Saçmak işi

.....

Baştaki kıl

.....



ÜLKEMİZİN YÖNETİMİ

☀ Aşağıda verilen resimler cumhuriyetle birlikte kazanılan hangi hakları hatırlatmaktadır? Noktalı yerlere yazalım.



.....
.....
.....



.....
.....
.....



.....
.....
.....



.....
.....
.....



.....
.....
.....



.....
.....
.....

☀ Aşağıdaki ifadeler doğru ise "D", yanlış ise "Y" harfini yazalım .

1. (.....) Cumhuriyet ilan edilmeden önce devletimizi padişah yönetiyordu.
2. (.....) Cumhuriyetin ilanıla birlikte devletimizin adı Türkiye Cumhuriyeti oldu.
3. (.....) Cumhuriyet yönetiminde halkın söz hakkı yoktur.
4. (.....) Ülkemizde sadece erkekler seçme ve seçilme hakkına sahiptir.
6. (.....) Cumhuriyet yönetimi milletin egemenliğine dayanır.
7. (.....) 23 Nisan tarihinde cumhuriyet ilan edildi.
8. (.....) İlk cumhurbaşkanımız Atatürk'tür.
9. (.....) Cumhuriyet yönetiminde kadın erkek eşitliği vardır.
10. (.....) Cumhuriyetten önce kadınlar seçme ve seçilme hakkı vardı.
11. (.....) Cumhuriyetle birlikte herkes eşit şartlarda eğitim alma hakkına sahip oldu.






TARİHİ VE DOĞAL GÜZELLİKLERİMİZ

☉ Aşağıdaki görseller tarihi güzellik ise "T", doğal güzellik ise "D" harfini boyayalım.



T D



T D




T D



T D




T D



T D



T D



T D



T D



T D



T D



T D



ÇEVREMİ TANIYORUM

🌸 Ozan köyde , kuzeni Gaye şehirde yaşamaktadır. Buna göre yaşadıkları çevrede neler olabileceğini yazalım.



.....
.....
.....
.....
.....
.....

.....
.....
.....
.....
.....
.....

🌸 Aşağıdaki cümlelerin başına doğruysa "D" , yanlışsa "Y" yazalım.

- (.....) Bitkiler solunum yapmazlar .
(.....) Tüm canlılar hareket ederler.
(.....) Toprağa ekilen bir bitki uygun koşullarda önce çimlenir.
(.....) Bitkiler beslenmez.
(.....) Hayvanlar kendi besinlerini üretebilirler.
(.....) Tüm canlılar büyür ve gelişir .
(.....) Yetişkin bitkiler çiçek açar .
(.....) Sadece kuşlar yumurta ile çoğalırlar .
(.....) Bitkiler hareket edemez .
(.....) Tohumun çimlenmesi için suya ihtiyacı vardır .
(.....) Meyvelerin içinde tohum vardır .





TARTMA

Aşağıdaki varlıkların gerçek ağırlıklarını dikkate alarak isimlerini uygun tabloya yazalım.



kuş



karpuz



bilezik



simit



inek



kuzu



kaplan



defter



silgi



kaz



1 kasa elma



kalem



kabak



fare



un



civ civ



patates



kaşık



kömür



saat

KÜTLESİ GRAMLA İFADE
EDİLEBİLENLER

.....

.....

.....

.....

.....

KÜTLESİ KILOGRAMLA İFADE
EDİLEBİLENLER

.....

.....

.....














.....

.....



TARTMA

☞ Aşağıdaki varlıkların ağırlıklarını yapılan örnekteki gibi ifade edelim.

VARLIKLAR	 1 kg	 500 g	 250 g	100 g 	10 g 
 1 40 g				1 tane	4 tane
 28 kg					
 6 kg 750 g					
 30 g					
 1 60 g					
 PATATES 45 kg					
 350 g					
 5 kg 450 g					



TARTMA

Aşağıdaki varlıkların gerçek ağırlıklarının hangisi olabileceğini tahmin edip boyayınız.



750 g 140 kg 8 kg



10 g 130 g 3 kg



20 g 3 g 750 g



4 kg 500 g 50 kg



1 kg 150 g 6 kg



5 g 100 g 1 kg



4 kg 500 g 50 kg



42 kg 10 kg 120 kg



130 kg 30 kg 950 kg



2 kg 5 g 140 g



3 kg 250 g 15 g



300 kg 15 kg 60 kg



320 kg 5 g 140 g



90 g 2 kg 5 g







300 kg 15 kg 600g







TARTMA



Aşağıdaki verilere göre istenilenleri işlem yaparak bulunuz.



 → 25 g  → ?



 → 65 kg  ?



 → 176 g  ?



 → 80 g  ?



 → 115 g  ?

 → 48 kg  ?

 → 54 kg  ?

 → 30 kg  ?

 → 60 kg  ?

 → 56 kg  ?



TARTMA İLGİLİ PROBLEMLER

1. 4 kilogram toz şeker 20 lira olduğuna göre, 9 kilogram toz şeker kaç liradır?

Çözüm:



2. Annem 50 kg unun $\frac{1}{5}$ 'ini kullanmış. Geriye kaç kg un kalmıştır ?

Çözüm:



3. Babam kilosu 4 liradan 3 kg domates ve kilosu 6 liradan 2 kg patlıcan almış. Babam satıcıya 50 lira verdiğine göre kaç lira para üstü alır ?

Çözüm:



4. Gaye kilosu 60 lira olan fındıktan yarım kilogram almış. Satıcıya 1 00 lira vermiş. Kaç lira para üstü alır ?

Çözüm:



5. Her biri 40 kilogram olan 6 çuval toz şekerin 175 kilogramı satılmış. Geriye kaç kilogram şeker kalmıştır ?

Çözüm:



6. Jale 34 kg ağırlığındadır. Kemal ise Jale'den 18 kg ağırdır. Buna göre ikisi toplam kaç kg ağırlığındadır?

Çözüm:





TARTMA İLGİLİ PROBLEMLER

1. 900 kg unun önce 375 kg'ı , sonra 258 kg'ı satılmış. Geriye kaç kg un kalmıştır?

Çözüm:



2. Dayımlar 72 kg patatesin $\frac{1}{4}$ ' ini yemişler.
Geriye kaç kg patates kalmıştır ?

Çözüm:



3. Bir bakkal 72 kg toz şekeri 3 kg'lık poşetlere koymuş. Sonra 16 poşet şeker satılmış. Kaç poşet şeker kalmıştır ?

Çözüm:



4. Babam 300 gr fıstık , 250 gr badem ve 250 gr fındık aldı. Annem alınanları karıştırdı ve 325 gr'ını yedik. Geriye kaç gr kalmıştır ?

Çözüm:



5. 9 kg karpuz 27 lira olduğuna göre, 12 kilogram karpuz kaç liradır ?

Çözüm:



6. Her birinde 25 kg pirinç olan 14 torba pirinçin 276 kg'ı satılmış. Buna göre kaç kg pirinç kalmıştır ?

Çözüm:

