





1) Aşağıdaki harflerden hangisinin simetri doğrusu çizilemez ?





- A) **H**                      B) **D**  
C) **Z**                      D) **M**

2) Aşağıdaki şekillerden hangisine daha fazla simetri doğrusu çizilebilir?

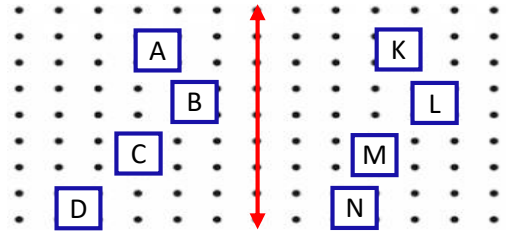
- A)                       B)   
C)                       D) 

3) Yandaki resmin yatay simetrisi aşağıdakilerden hangisidir ?



- A)                       B)   
C)                       D) 

4)



Yukarıdaki şekilde hangi kareler birbirinin simetrisidir ?





- A) A-K                      B) B-L  
C) C-M                      D) D-N

5) Yandaki şeklin kaç tane simetri doğrusu çizilebilir?

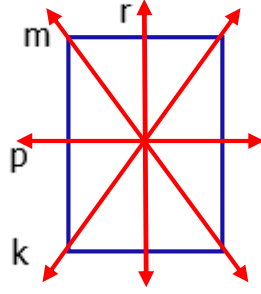


- A) 4                      B) 5                      C) 6                      D) 7

6) Aşağıdaki resimlerden hangisinin simetri doğrusu çizilemez ?

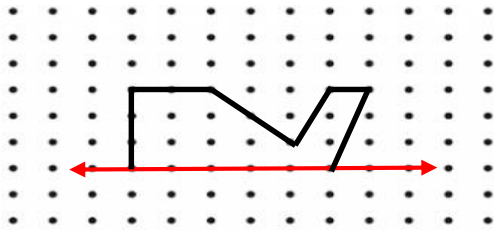
- A)                       B)   
C)                       D) 

7) Yandaki dikdörtgende doğrulardan hangileri simetri doğrularıdır?

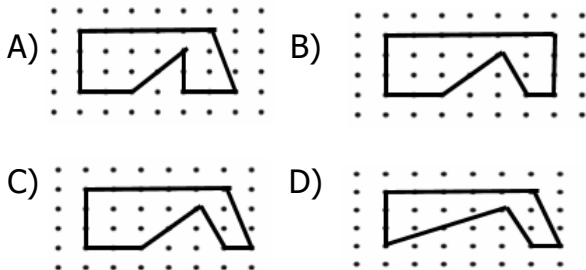


- A) p - r  
B) m - r  
C) k - r  
D) k - m

8)



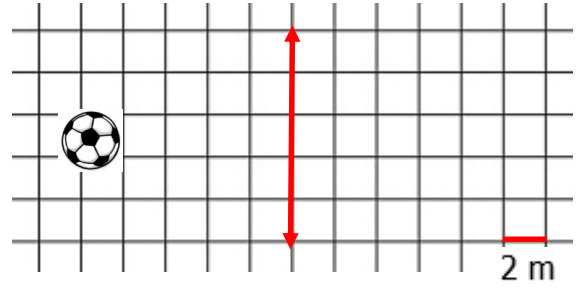
Yukarıdaki açılardan hangileri sembolle doğru gösterilmiştir?



9) I- Karenin köşegenleri simetri doğrusudur.  
II- Dikdörtgenin köşegenleri simetri doğrusudur.  
III- Çemberin sonsuz simetri doğrusu vardır.  
Yukarıdaki ifadelerden hangileri doğrudur ?

- A) I - II  
B) II - III  
C) I - II - III  
D) I - III

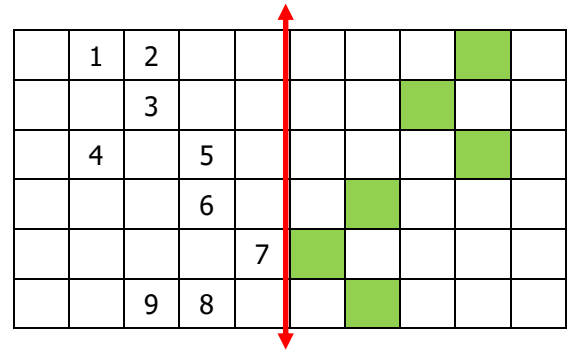
10)



Simetri aynasında topun simetri doğrusuna göre oluşacak görüntü ile arasında kaç m olur?

- A) 14 m  
B) 16 m  
C) 13 m  
D) 15 m

11)



Yukarıdaki boyalı kutuların simetrisi boyandığında hangi numaralı kutular **boyanmamış** olur ?

- A) 2 - 3 - 4  
B) 2 - 5 - 9  
C) 5 - 6 - 9  
D) 2 - 6 - 7

12) Bir kağıt gibi iki eşit parça olacak şekilde katlanıyor ve şekildedeki gibi makasla kesiliyor. Buna göre kağıdın açılmış şekli hangisi olur?

