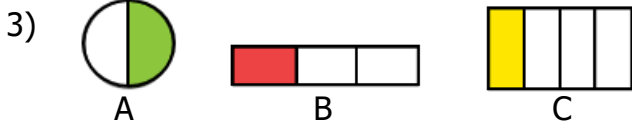


1) Annem 3 ekmeği çeyrek parçalara ayırdı. Parçalardan 7 tanesini yedik. Geriye kaç tane çeyrek ekmeğe kalmıştır ?




- A) 4      B) 6      C) 5

2) Ayşe tabağa 10 tane yarım elma koymuş. Bunun için kaç tane bütün elma kullanmıştır?

- A) 5      B) 4      C) 6



Yukarıdaki şekillerdeki boyalı alanla ilgili aşağıdakilerden hangisi yanlış bilgi vermiştir ?

- A)  A yarım dır.
- B)  C çeyrek tır.
- C)  B çeyrek tır.



Arda yukarıdaki çeyrek elmalardan 2 tane yarım elma kadarını yemiş. Geriye kaç tane çeyrek elma kalır ?

- A) 10      B) 8      C) 6

5) Aşağıdakilerden hangisi bütünün 4 eş parçasından biridir ?

- A) çeyrek      B) yarım      C) bütün

6) Tabakta 6 tane çeyrek şeftali var. 4 tane bütün şeftali olabilmesi için kaç tane daha çeyrek şeftali gereklidir ?

- A) 8      B) 10      C) 12

7) 8 tane armudun 3 tanesini yenmiş. Bu durumda kaç tane yarım armut yenmiş olur?

- A) 10      B) 8      C) 6

8) 6 tane yarım ve 8 tane çeyrek karpuz kaç tane bütün karpuz yapar?

- A) 5      B) 7      C) 6

9) Kasadaki elmaların yarısı 9 kilogram olduğuna göre tamamı kaç kilogramdır?

- A) 16      B) 20      C) 18

10) Aşağıdaki pizzalardan hangisinin çeyreği yenmiştir ?

