



Adı Soyadı :

Numarası :

Konu: Genel Değerlendirme 4

1 1 Onluk kaç birlik eder?

- A) 10 birlik
- B) 1 birlik
- C) 0 birlik

2

$$\begin{array}{r} \boxed{\dots} \\ + \boxed{\dots} \\ \hline \boxed{\dots} \end{array} \begin{array}{l} \xrightarrow{-1} \\ \xrightarrow{-1} \end{array} \begin{array}{r} 18 \\ + 11 \\ \hline \end{array}$$

Yukarıda ifade edilen toplama işlemi hangisidir?

- A) $\begin{array}{r} 17 \\ + 10 \\ \hline \end{array}$ B) $\begin{array}{r} 19 \\ + 12 \\ \hline \end{array}$ C) $\begin{array}{r} 17 \\ + 11 \\ \hline \end{array}$

3 Burak 8 yaşındadır. Ceren, Burak'tan 3 yaş büyüktür. Burak ile Ceren'in yaşları toplamı kaçtır?


- A) 15 B) 20 C) 19

4 Yandaki işlemde noktalı yerlere hangi sayılar gelmelidir?

$$\boxed{\dots} - \boxed{\dots} = 5$$

- A) $\begin{array}{|c|} \hline 5 \\ \hline \end{array} \begin{array}{|c|} \hline 2 \\ \hline \end{array}$ B) $\begin{array}{|c|} \hline 7 \\ \hline \end{array} \begin{array}{|c|} \hline 2 \\ \hline \end{array}$ C) $\begin{array}{|c|} \hline 6 \\ \hline \end{array} \begin{array}{|c|} \hline 0 \\ \hline \end{array}$

5



Yukarıda hayvanlar arasında yapılan yarışmada kaplumbağa tavşanı geçerse tavşan kaçınıcı olur?

- A) İkinci
- B) Dördüncü
- C) Üçüncü

6



Yukarıdaki ritmik saymada soru işareti ile gösterilen yerlere hangi sayılar gelmelidir?

- A) $\begin{array}{|c|} \hline 50 \\ \hline \end{array} \begin{array}{|c|} \hline 55 \\ \hline \end{array}$
- B) $\begin{array}{|c|} \hline 40 \\ \hline \end{array} \begin{array}{|c|} \hline 55 \\ \hline \end{array}$
- C) $\begin{array}{|c|} \hline 40 \\ \hline \end{array} \begin{array}{|c|} \hline 50 \\ \hline \end{array}$

7

Aşağıdaki çıkarma işlemlerinden hangisi yanlıştır?

- A) $17 - 9 = 9$
- B) $13 - 5 = 8$
- C) $12 - 5 = 7$

8 Sinan, şu an 19 yaşındadır. Buna göre Sinan'ın 6 yıl önceki, yaşı kaçtır?

- A) 15 B) 13 C) 12



Yukarıdaki paralarla aşağıdaki ürünlerden hangisini alamayız?

- A) 15 ₺ B) 18 ₺ C) 13 ₺



Yukarıdaki bütün ekmekler kaç yarım ekmek eder?

- A) 6 B) 4 C) 2

Kenarımda yok,
köşemde yok

11 Yukarıdaki konuşma balonunda hangi geometrik şekil anlatılıyor?

- A) B) C)



Yukarıdaki örüntüde noktalı yere hangi şekiller gelmelidir?

- A) B) C)

13 Aşağıdaki şekillerden hangisi küpe benzemektedir?

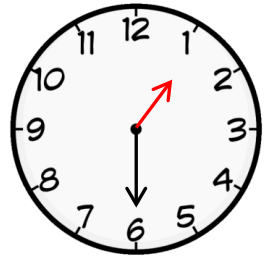
- A) B) C)

14 Aşağıdaki toplama işlemlerinden hangisi doğrudur?

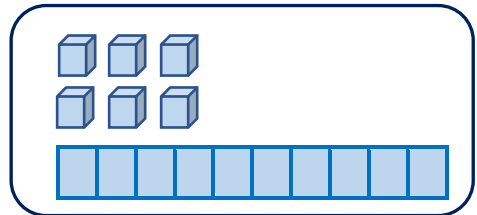
- A) $8 + 6 = 13$
B) $7 + 0 = 0$
C) $13 + 7 = 20$

15 Yandaki saatin okunuşu hangisidir?

- A) Saat bir
B) Saat iki buçuk
C) Saat bir buçuk



16



Yukarıda model hangi sayıyı göstermektedir?

- A) 16 B) 18 C) 15