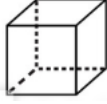




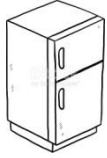
## GEOMETRİK CİSİMLER



Aşağıdaki geometrik cisimleri inceleyerek noktalı yerleri doldurunuz.



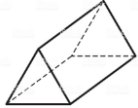
Cismin Adı: ..... Köşe Sayısı : .....  
Ayrıt Sayısı: ..... Yüz Sayısı : .....  
Bütün yüzeyleri ..... şeklindedir.



Cismin Adı: ..... Köşe Sayısı : .....  
Ayrıt Sayısı: ..... Yüz Sayısı : .....  
Yüzlerin 2 tanesi ....., 4 tanesi ..... şeklindedir.



Cismin Adı: ..... Köşe Sayısı : .....  
Ayrıt Sayısı: ..... Yüz Sayısı : .....  
Bütün yüzeyleri ..... şeklindedir.



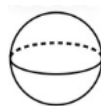
Cismin Adı: ..... Köşe Sayısı : .....  
Ayrıt Sayısı: ..... Yüz Sayısı : .....  
Yüzlerin 2 tanesi ....., 3 tanesi ..... şeklindedir.



Cismin Adı: ..... Köşe Sayısı : .....  
Ayrıt Sayısı: ..... Yüz Sayısı : .....  
Yüzlerin 2 tanesi ....., 1 tanesi ..... şeklindedir.



Cismin Adı: ..... Köşe Sayısı : .....  
Ayrıt Sayısı: ..... Yüz Sayısı : .....



Cismin Adı: ..... Köşe Sayısı : .....  
Ayrıt Sayısı: ..... Yüz Sayısı : .....