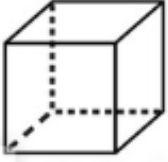




GEOMETRİK CİSİMLER




Aşağıdaki geometrik cisimlerin isimlerini yazınız. Özelliklerine altındaki kutulara isimlerini yazınız.



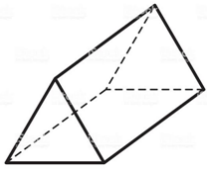
.....



.....



.....



.....



.....



.....



.....

8 KÖŞESİ OLANLAR

.....
.....
.....

12 AYRITI OLANLAR

.....
.....
.....

6 YÜZÜ OLANLAR

.....
.....
.....

6 KÖŞESİ OLANLAR

.....

3 YÜZÜ OLANLAR

.....

KÖŞESİ VE AYRITI
OLMAYANLAR

.....
.....
.....

2 YÜZÜ OLANLAR

.....

1 YÜZÜ OLANLAR

.....