



## CÜMLEDE ZAMAN

☘ Aşağıdaki cümlelerdeki iş , oluş ve hareketin gerçekleştiği zamanı inceleyelim. Geçmişte gerçekleşenleri işaretleyelim.

Babam Pazar günü köye gidecek.

Ablam hastanede ameliyat oldu.

Umut ve arkadaşları dün havuzda yüzmüşler.

Tülin odasında ders çalışıyor.

Annem çilek reçeli yaptı.

Mert Pazar günü sınava girecek.

Tülin odasında ders çalışıyor.

Pazar günü kar yağdı.

Halı yıkarken anneme yardım ettim.

Sınıfın camını Polat kırmış.

Arkadaşlarımla birlikte balık tutacağız.

Ailecek bahçede kahvaltı yapıyoruz.

Doktorun verdiği ilaçlar bitti.

Gaye yeni tokasını kaybetmiş.

Fatma parkta oyun oynuyor.





## KARTALA ÖZENEN KARGA

Kartal, yüksek bir kayanın üzerinden sürüyü izliyormuş. Aniden uçup, sürünün üzerine şimşek gibi inmiş. Sürüden bir kuzuyu kaptığı gibi havalanmış. Kartalı izleyen karganın da iştahı kabarmış. Kendi kendine:

– Ben yapamaz mıyım, neyim eksik? Ben de kuşum, demiş.

Hızla atılarak, kocaman bir koyunun sırtına konmuş. Konmuş konmasına ama güçsüz tırnakları, koyunun yününe takılıp kalmış. Ne kadar çırpındıysa bir türlü kurtulamamış. Uzaktan olup biteni izleyen çoban da:

– Ne oluyor bu kargaya diye kendi kendine söyleniyormuş.

Çoban gelip kargayı yakalamış. Ayağını bağlayıp heybesine koymuş. Sürüyü bıraktıktan sonra evine gelmiş. Evdekiler heybesindeki kuşun hangi kuş türü olduğunu sormuşlar. Çoban:

– Ben karga olarak biliyorum. Ama o kendisini kartal sanıyor, demiş.



Aşağıdaki soruları metne uygun bir şekilde cevaplayınız.

1. Kartal neren sürüyü izliyormuş ?

.....

2. Kartal sürüden ne kapmış ?

.....

3. Kartal sürünün üzerine nasıl inmiş ?

.....

4. Kartalı gören karga ne düşünmüş ?

.....

5. Karga nereye takılmış ?

.....

6. Çoban kargayı yakalayınca ne yapmış ?

.....

7. Kartal kendisini ne sanıyormuş?

.....



## ÜLKEMİN GELİŞMESİNDEKİ SORUMLULUKLARIM

Aşağıdaki çocuklardan doğru söyleyenleri "Doğru" kutusuna , yanlış söyleyenleri "Yanlış" kutusuna yazalım.



Tuğçe

Çalışkan bir öğrenci olmak için elimden geleni yapıyorum.



Aykut

Okulda aldığım görev ve sorumlulukları yerine getiriyorum.



Elif

Ödevlerimi zamanında yapmam.



Recep

Eğitimime önem vermem.



Kübra

Okulumuzdaki ve sınıfımızdaki eşyaları dikkatli kullanırım




Kayra

Vatanımı ve milletimi severim .




Sinem

Yaptığım işlere hiç özen göstermem .




Umut

Ülkemiz için herkes üzerine düşen görevi yapmalı .



Rana

Tüm dersler benim için önemlidir .



Lokman

Doğal ve tarihi güzellikleri korumam.

\* DOĞRU \*

.....  
.....  
.....

\* YANLIŞ \*


.....  
.....  
.....



## ORTAK KULLANIM ALANLARIMIZ

☀ Aşağıdaki ifadeler doğru ise “D”, yanlış ise “Y” harfini yazalım .

1. (.....) Okulumuz ortak kullanım alanıdır.
2. (.....) Odamız ortak kullanım alanı değildir.
3. (.....) Parklar ortak kullanım alanı değildir.
4. (.....) Sınıfımız ortak kullanım alanı değildir.
6. (.....) Hastaneler ortak kullanım alanıdır.
7. (.....) Okul bahçesi ortak kullanım alanıdır.
8. (.....) Evimizin mutfağı ortak kullanım alanıdır .
9. (.....) Toplu taşıma araçları ortak kullanım alanı değildir.
10. (.....) Camiler ortak kullanım alanlarıdır.
11. (.....) Piknik yerleri ortak kullanım alanlarıdır.



☀ Aşağıdaki ortak kullanım alanların nasıl davranılması gerektiğini yanlarına yazalım.



.....  
.....  
.....  
.....



.....  
.....  
.....  
.....



.....  
.....  
.....  
.....



## ÇEVREMİZİ TEMİZ TUTALIM

☞ Aşağıdaki resimlerden hangi ortamda yaşarsınız , işaretleyiniz. Resimlerde gördüğünüz olumsuzlukları ve çözüm yollarını yanlarına yazınız.

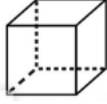




## GEOMETRİK CİSİMLER



Aşağıdaki geometrik cisimleri inceleyerek noktalı yerleri doldurunuz.



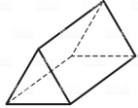
Cismin Adı: ..... Köşe Sayısı : .....  
Ayrıt Sayısı: ..... Yüz Sayısı : .....  
Bütün yüzeyleri ..... şeklindedir.



Cismin Adı: ..... Köşe Sayısı : .....  
Ayrıt Sayısı: ..... Yüz Sayısı : .....  
Yüzlerin 2 tanesi ....., 4 tanesi ..... şeklindedir.



Cismin Adı: ..... Köşe Sayısı : .....  
Ayrıt Sayısı: ..... Yüz Sayısı : .....  
Bütün yüzeyleri ..... şeklindedir.



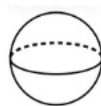
Cismin Adı: ..... Köşe Sayısı : .....  
Ayrıt Sayısı: ..... Yüz Sayısı : .....  
Yüzlerin 2 tanesi ....., 3 tanesi ..... şeklindedir.



Cismin Adı: ..... Köşe Sayısı : .....  
Ayrıt Sayısı: ..... Yüz Sayısı : .....  
Yüzlerin 2 tanesi ....., 1 tanesi ..... şeklindedir.



Cismin Adı: ..... Köşe Sayısı : .....  
Ayrıt Sayısı: ..... Yüz Sayısı : .....



Cismin Adı: ..... Köşe Sayısı : .....  
Ayrıt Sayısı: ..... Yüz Sayısı : .....

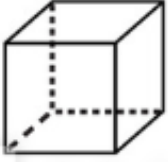




## GEOMETRİK CİSİMLER




Aşağıdaki geometrik cisimlerin isimlerini yazınız. Özelliklerine altındaki kutulara isimlerini yazınız.



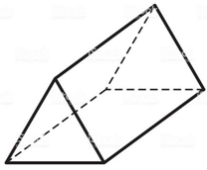
.....



.....



.....



.....



.....



.....



.....

8 KÖŞESİ OLANLAR

.....  
.....  
.....

12 AYRITI OLANLAR

.....  
.....  
.....

6 YÜZÜ OLANLAR

.....  
.....  
.....

6 KÖŞESİ OLANLAR

.....

3 YÜZÜ OLANLAR

.....

KÖŞESİ VE AYRITI  
OLMAYANLAR

.....  
.....  
.....

2 YÜZÜ OLANLAR

.....

1 YÜZÜ OLANLAR

.....



## GEOMETRİK CİSİMLER

Verdikleri bilgilere göre aşağıdaki isimlerle geometrik cisimleri eşleştiriniz.



Tüm yüzleri karedir. 6 yüzü vardır.



Köşesi ve ayrıtı yoktur. 1 yüzü vardır.



2 kare ve 4 dikdörtgen yüzü vardır.



2 üçgen ve 3 dikdörtgen yüzü vardır.



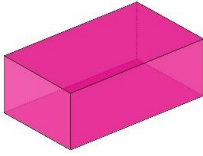
Köşesi ve ayrıtı yoktur. 1 yüzü vardır.



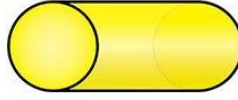
Köşesi ve ayrıtı yoktur 2 yüzü vardır.




Tüm yüzleri dikdörtgendir. 6 yüzü vardır.



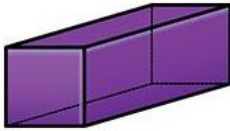
.....



.....



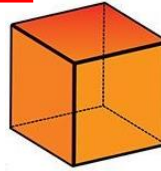
.....



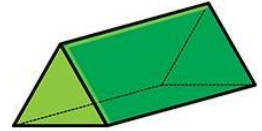
.....



.....



.....



.....



Aşağıda belirtilen geometrik cisimlerin özelliklerini yazınız.

| Cismin Adı             | Köşe Sayısı | Yüz Sayısı | Ayrıt Sayısı | Oluşturan Şekiller |
|------------------------|-------------|------------|--------------|--------------------|
| Küp                    |             |            |              |                    |
| Kare prizma            |             |            |              |                    |
| Dikdörtgenler prizması |             |            |              |                    |
| Üçgen prizma           |             |            |              |                    |
| Silindir               |             |            |              |                    |

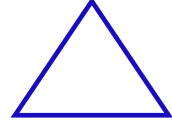
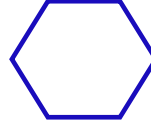

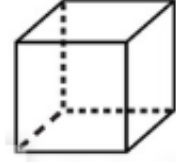
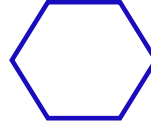

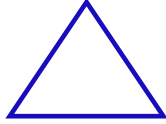

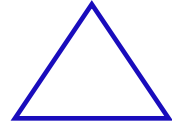

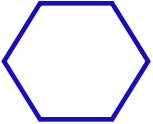
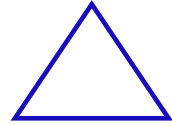

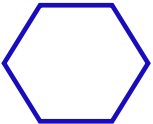
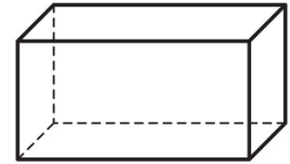
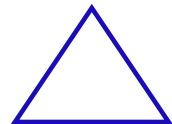

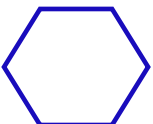
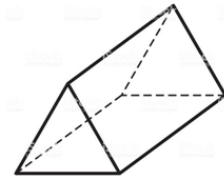




## GEOMETRİK CİSİMLER



Belirtilen şekilde boyamaları yapalım.

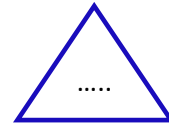

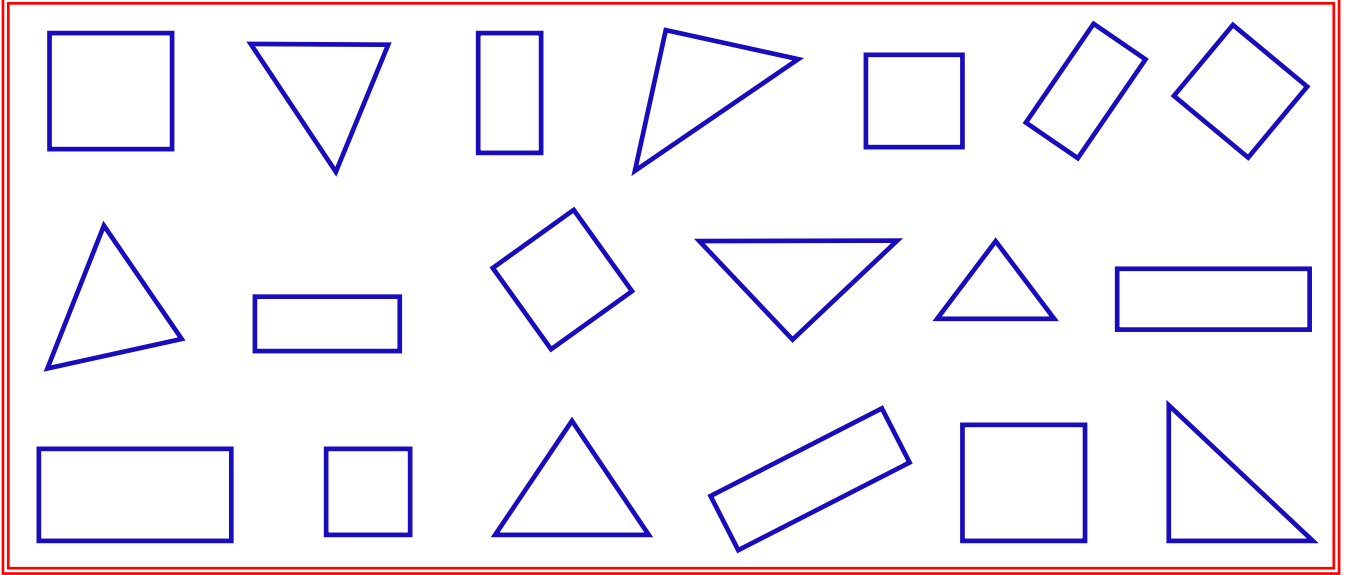
Yandaki geometrik cisimle hangi şekli çizebiliriz?  
Şekli boyayalım.Yandaki geometrik cisimle hangi şekilleri çizebiliriz?  
Şekilleri boyayalım.Yandaki geometrik cisimle hangi şekli çizebiliriz?  
Şekli boyayalım.Yandaki geometrik cisimle hangi şekli çizebiliriz?  
Şekli boyayalım.Yandaki geometrik cisimle hangi şekilleri çizebiliriz?  
Şekilleri boyayalım.



## GEOMETRİK CİSİMLER



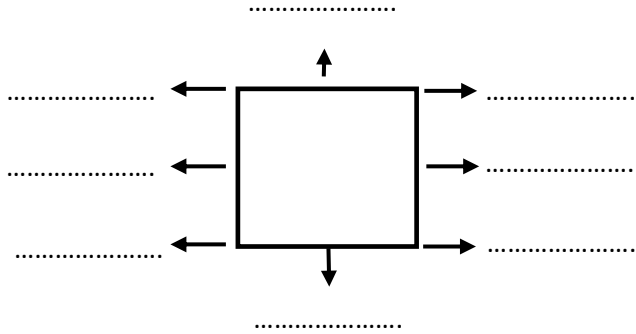
Aşağıda kare , dikdörtgen ve üçgenen kaç tane olduğunu bulalım. Sayıları ilgili şekillerdeki noktalı yerlere yazalım.



Aşağıdaki geometrik şekillerde ok işaretiyle gösterilen yerlerin isimlerini yazalım. İstenilen bilgileri yazalım.

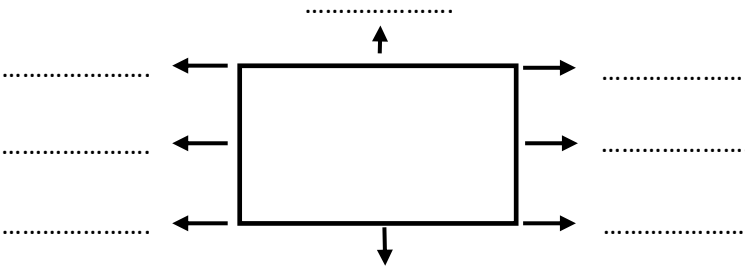
Kenar Sayısı : .....

Köşe Sayısı : .....



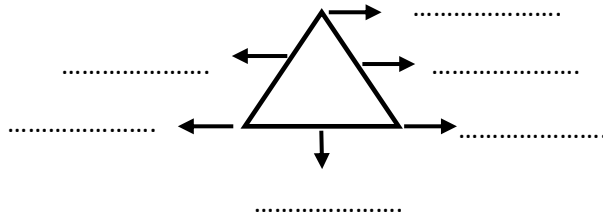
Kenar Sayısı : .....

Köşe Sayısı : .....



Kenar Sayısı : .....

Köşe Sayısı : .....





## GEOMETRİK CİSİMLER




Aşağıda verilen noktaları birleştirerek geometrik şekilleri çizin. Çizilen geometrik şeklin ismini altına yazınız.




.....




.....



.....



.....



.....



.....



Aşağıdaki verilen geometrik şekillerin köşegenlerini çizin.

