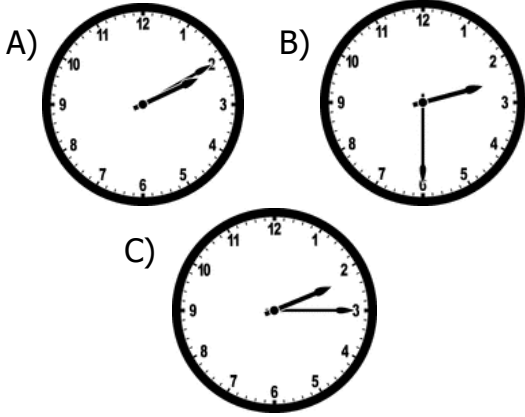
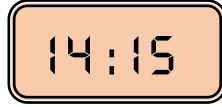
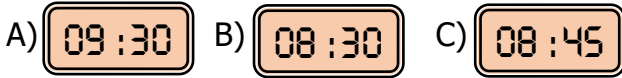


Zamanı Ölçme

1) Yanda dijital saatte gösterilen zamanın analog saatte gösterilişi aşağıdakilerden hangisidir ?



2) Erdem saat 9.00'da okula varmış. Erdem evden yarım saat önce çıktığına göre Erdem evden saat kaçta çıkmıştır ?



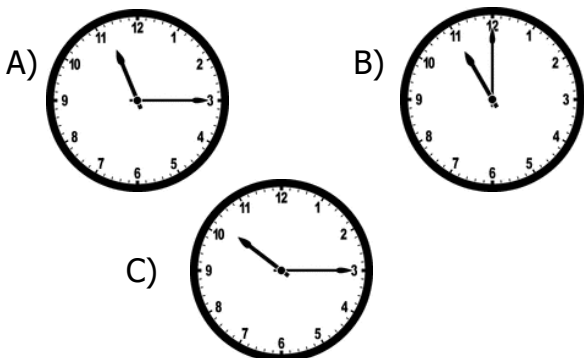
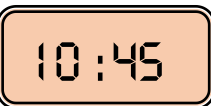
3) Gaye: 8'e çeyrek var.
Metin: 7'yi 45 geçiyor.

Yandaki saatin okunuşunu kim doğru söylemiştir ?



A) Gaye B) Metin C) Her ikisi de

4) Yandaki saatin gösterdiği zamandan yarım saat sonra saat kaçtır ?



5) 12 mevsim kaç aydır ?

A) 36 B) 24 C) 48

6) İlkbahar mevsiminin ilk ayı ile sonbahar mevsiminin 2. ayı aşağıdakilerden hangisidir?

A) mart-eylül B) nisan-ekim
C) mart-ekim

7) Arda: 4 hafta köyde kaldım.
Burçin: 32 gün köyde kaldım.
Melih : 5 hafta köyde kaldım.

Yukarıdaki bilgilere göre köyde kim daha fazla kalmıştır ?

A) Arda B) Melih C) Burçin

8) Bugün günlerden salıdır. 4 gün önce hangi gündür ?

A) cuma B) cumartesi C) pazar

9) Birinci günü çarşamba olan nisan ayında kaç tane perşembe günü vardır ?

B) 3 B) 5 C) 4

10) Yandaki saat öğleden sonraki zamanı gösterdiğine göre saat kaçtır ?



A) Saat 17 buçuk
B) Saat 19'u çeyrek geçiyor
C) Saat 19 buçuk