

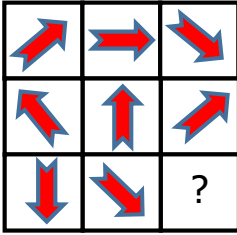
1)



Resimdeki eksik parça aşağıdakilerden hangisidir ?

- A) B)
C) D)

2)




Yukarıdaki şekilde her yatay sırada ok işareti belli bir kurala göre sıralanmıştır. Buna göre soru işareti yerine hangisi gelmelidir ?

- A) B) C) D)

3) Aşağıdakilerden hangisi diğerlerinden bir yönüyle farklıdır?

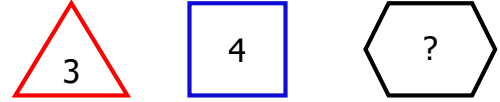
- A) B)
C) D)

4) Yandaki büyük kareden bir dikdörtgen elde etmek için en az kaç tane küçük kare çıkarmak gerekir?



- A) 4 B) 3 C) 5 D) 2

5)



Yukarıdaki şekillerle sayılar arasında bir ilişki vardır. Buna göre soru işareti yerine aşağıdakilerden hangisi gelmelidir?

- A) 4 B) 5 C) 6 D) 7

6)

PARK

Aşağıdaki kelimelerden hangisinin yukarıdaki kelime ile ilişkisi yoktur ?

- A) Ayran B) Bilet C) Reçete D) Kitap

7)

9 - 5 - 13 - 5 - 17 - 5 - ?

Yukarıdaki sayılar belli bir kurala göre sıralanmıştır. Buna göre soru işareti yerine hangi sayı gelmelidir ?

- A) 5 B) 22 C) 20 D) 21

8)

karpuz - kartal - karga
karşı - kardeş - karton

Yukarıdaki kelimeler alfabetik sıralandığında aşağıdaki kelimelerden hangileri yan yana **gelmez?**

- A) karpuz-kartal B) karpuz-karşı
C) karga-karpuz D) karşı-kartal