

1) Aşağıdaki bilgilerden hangisi yanlıştır?

- A) Sınıftaki eşyaları özenli kullanmalıyız.
- B) Parklar ve bahçeler, ortak kullandığımız yerlerdir.
- C) Okuldaki eşyaları sağlam bırakmak bizim sorumluluğumuz değildir.

2) Milletimizin ortak mallarını kullanırken .....göstermeliyiz.

Yukarıdaki ifadede boş bırakılan yere hangisi yazılmalıdır?

- A) özen
- B) ilgi
- C) zarar

3) Aşağıdakilerden hangisi ortak kullanılan bir eşya ya da alan değildir?

- A) sınıf
- B) öğretmen masası
- C) yazı tahtası

4) Aşağıdakilerden hangisi ortak kullanım alanına uygun bir davranıştır?

- A) Tiyatro salonunda yemek yemek,
- B) Okuldaki masalara ismimizi yazmak,
- C) Kütüphaneden aldığımız kitabı zamanında teslim etmek,

5) Okulumuzun daha güzel bir yer olması için aşağıdakilerden hangisi yapılmalıdır?

- A) Okulumuzun bahçesine çiçek dikmek.
- B) Okul duvarlarına yazı yazmak.
- C) Okuldaki çöp kovalarını kaldırmak.

6) Devlet mallarını özenli kullanmalı ve korumalıyız. Bunun sebebi aşağıdakilerden hangisi olamaz?

- A) İsrafi önlemek,
- B) Bizden sonrakilere sağlam bırakabilmek,
- C) Sürekli yeni eşyalar almak,

7) Aşağıdakilerden hangisi ortak kullanım eşyalarına zarar veren bireylere karşı yapılacak bir davranıştır?

- A) Zarar verenleri görmezden gelmek,
- B) Zarar verenleri uyarmak,
- C) Zarar verenlere yardımcı olmak,

8) Aşağıdakilerden hangisi bir ortak kullanım alanı değildir?

- A) okul
- B) hastane
- C) ev

9) Aşağıdakilerden hangisi ortak kullandığımız yerlerden değildir?




- A) otobüs durakları
- B) spor salonları
- C) özel arabamız

10) Aşağıdakilerden hangileri dikkatli ve özenli kullanıldığı zaman ormanları korumuş oluruz?

- A) masa ve sıraları
- B) bahçe ve duvarları
- C) oyun ve dersleri




11) Aşağıdakilerden hangisi doğrudur?

- A) Birlik ve beraberlik içerisinde toplum hayatı gelişir.
- B) Birlik ve beraberlik içerisinde işler daha zor yapılır.
- C) Birlik ve beraberlik içerisinde çok para harcanır.

- 12)  → Belediye otobüsü  
 → Stadyum  
 → Bisiklet

Yukarıda yazılanlardan hangisi ortak kullanılan yer yada eşyalardan değildir?

- A) 
- B) 
- C) 

- 13)  Okul → Eğitim amaçlı ortak kullanım  
 Hastane → Sağlık amaçlı ortak kullanım  
 Stadyum → Ulaşım amaçlı ortak kullanım

Yukarıdaki eşleştirmelerden hangisi yanlıştır?

- A) 
- B) 
- C) 

- 14)  Hor kullanmak  
 Kirli kullanmak  
 Özenli kullanmak

Ortak kullanılan eşya ve alanların kullanım şekli yukarıda verilenlerden hangisi olmalıdır?

- A) 
- B) 
- C) 

15) Aşağıdakilerden hangisi yanlış bir davranıştır?

- A) sınıf duvarına ayakla basmak
- B) çöpleri çöp kutusuna atmak
- C) sınıfı temiz tutmak

16) Aşağıdaki yerlerden hangisinde eğlenceli ve güzel vakit geçiririz?

- A) oyuncakları arızalı bir çocuk parkında
- B) temiz ve düzenli bir oyun parkında
- C) kirli ve düzensiz bir oyun parkında