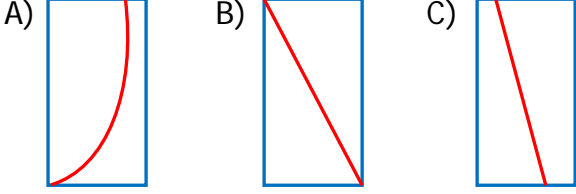



Geometrik Şekiller

1) Aşağıdaki seçeneklerin hangisinde dikdörtgenin köşegeni doğru çizilmiştir?



2)



Yukarıdaki şekilde kaç tane dikdörtgen vardır?

- A) 9 B) 7 C) 5

3)



1. 2. 3. 4.

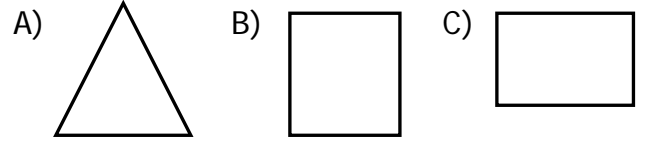
Yukarıdaki geometrik şekillerin hangilerini cetvel kullanarak çizebiliriz?

- A) 4 - 3 - 2
B) 1 - 2 - 4
C) 1 - 2 - 3

4)



Yukarıdaki çubukları kullanan Arzu hangi şekli oluşturamaz?



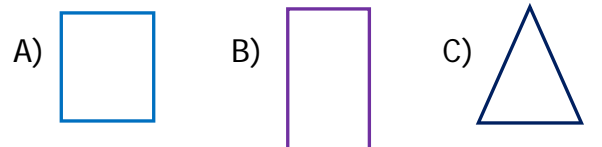
5)



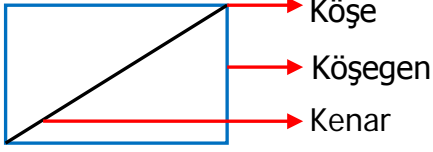
Aşağıda verilen ifadelerden hangisi yukarıdaki geometrik şekillerin ortak özelliklerinden biri değildir?

- A) Kenar sayıları eşittir.
B) Bütün kenar uzunlukları birbirine eşittir.
C) Köşe sayıları eşittir.

6) Aşağıdaki geometrik şekillerden hangisinin köşegeni yoktur?



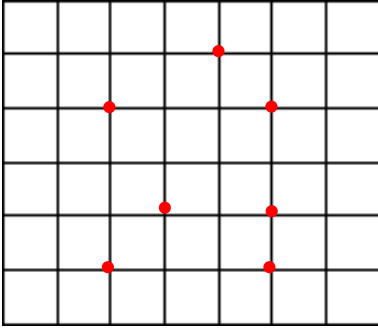
7)



Yukarıda dikdörtgen üzerinde verilen isimlendirmelerden hangisi doğrudur?

- A) Köşe
- B) Köşegen
- C) Kenar

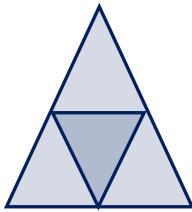
8)



Yukarıdaki noktaları birleştirerek hangi şekil oluşturulamaz?

- A)
- B)
- C)

9)



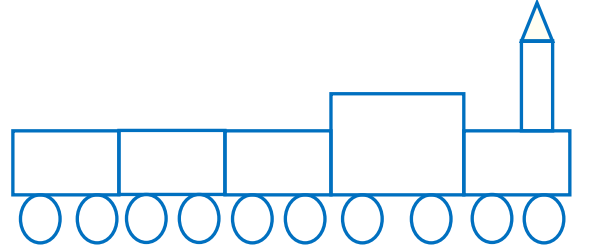
Yukarıdaki şekilde kaç tane üçgen vardır?

- A) 4
- B) 5
- C) 6

10) Aşağıda dikdörtgenle ilgili verilen bilgilerden hangisi yanlıştır?

- A) Dört köşesi vardır
- B) İki köşegeni vardır.
- C) Kenar uzunlukları birbirine eşittir.

11)



Yukarıdaki görselde hangi geometrik şekil yoktur?

- A) Dikdörtgen
- B) Kare
- C) Üçgen

12)

- Küp
- Koni
- Kare prizma

Yukarıdaki geometrik cisimlerden hangilerini kullanarak kare çizilebilir?

- A) ve
- B) ve
- C) ve

CEVAP ANAHTARI

1) B

2) A

3) C

4) C

5) B

6) C

7) A

8) B

9) B

10) C

11) B

12) C

13)

14)

15)

16)

17)

18)

19)

20)