

1)

Canlı ve cansız varlıkların birlikte yaşamlarını sürdürdükleri ortama **çevre** denir.




Aşağıdakilerden hangisi **çevre** ile ilgili **doğru** bir bilgi değildir?

- A) Evimiz, sokağımız ve mahallemiz yakın çevremizi oluşturur.
 B) Şehirdeki biri ile köydeki biri farklı çevre özellikleri gözlemleyebilir.
 C) Canlı ve cansız varlıklar birbirleriyle etkileşim halinde değillerdir.

2)

| | |
|-------|---------|
| Aslan | Kedi |
| Kuş | Penguen |

Yakın çevremizde görmemizin zor olduğu hayvanları boyarsak nasıl bir **görüntü** oluşur?

- A)  B)  C) 

3) Aşağıdakilerden hangisi, **yaşadığımız yakın çevremizde** ihtiyaçlarımızı karşıladığımız yerlerden biri değildir?

- A)  deniz feneri
 B)  okul
 C)  hastane

4)

Atıkların çeşitli işlemlerden geçirilerek yeni ürünlere dönüştürülmesine ne denir?



Öğretmenin yukarıdaki **tahtaya** yazdığı sorunun cevabı aşağıdakilerden hangisidir?

- A) Yapay çevre
 B) Bilinçsiz tüketim
 C) Geri dönüşüm

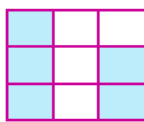
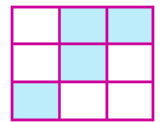

5) **Yapay çevre**, insan etkisiyle oluşturulmuş ya da **değişikliğe** uğratılmış yerlerdir. Aşağıdakilerden hangisi **yapay çevreye** örnek verilemez?

- A) çöller B) evler C) havaalanı

6)



Yukarıdaki resimlerden **yapay çevreye** örnek olanların kutucuklarını boyarsak ortaya nasıl bir **görüntü** çıkar?

- A)  B) 
 C) 

7)

Dünyada olduğu gibi ülkemizde de faaliyet gösteren, çevreyi ve doğal yaşamı korumayı amaçlayan **sivil toplum kuruluşları** vardır.

Aşağıdakilerden hangisi bu **sivil toplum kuruluşlarından** biridir?

- A) Sağlık ve Sosyal Yardım Vakfı
- B) Tüketici ve Çevre Eğitim Vakfı
- C) Gazeteciler ve Yazarlar Vakfı

8) İnsanlar tarafından değişikliğe uğratılmamış yerlere **doğal çevre** denir.

Aşağıdakilerden hangisi **doğal çevreye** örnek verilemez?

- A) denizler
- B) marketler
- C) kayalıklar

9)



Ayşe

Yerleşim yerleri olan köyler doğal çevredir.



Veli

Bir yerin yapay çevre olması için insan etkisi olmamalıdır.



Oya

Doğal anıtlar doğal çevrenin bir parçasıdır.



Baki

Milli parklar koruma altına alınan doğal çevrelerdir.

Doğal ve **yapay** çevreyle ilgili yukarıdaki kişilerden hangilerinin ifadeleri doğrudur?

- A) Baki ve Oya
- B) Veli ve Ayşe
- C) Oya ve Veli

10)

| Çevre | Doğal Çevre | Yapay Çevre |
|---------|-------------|-------------|
| Irmak | ✓ | |
| Okul | | ✓ |
| Baraj | ✓ | |
| Lokanta | ✓ | |
| Yollar | | ✓ |

Yukarıda tabloda bazı çevreler verilmiştir. Tablodaki sütunlara "✓" işareti koyularak bu çevrelerin özellikleri belirtilmiştir.

Buna göre yukarıdaki tabloda kaç adet **hata** yapılmıştır?

- A) 4
- B) 3
- C) 2

11)

| | |
|-------------------------|---|
| Peribacaları / Nevşehir | 1 |
| Kaçkar Dağı / Rize | 2 |
| Yedigöller / Bolu | 3 |

Her biri bir **rakam** ile eşleşen **yerler** ile ilgili aşağıdakilerden hangisi yanlış değildir?

- A) 2 numaralı yer milli parktır.
- B) 1 numaralı yer milli parktır.
- C) 3 numaralı yer doğal anıttır.

12) Aşağıdakilerden hangisi **doğal** ve **yapay** çevrenin **farklarındandır**?

- A) Yapay çevre kendiliğinden oluşurken doğal çevre insanlar tarafından oluşturulur.
- B) Yapay çevrede doğal çevreye göre insan ve araç daha fazladır.
- C) Yapay çevrenin oluşum süreci uzunken doğal çevrenin kısadır.

CEVAP ANAHTARI

- 1) C
- 2) B
- 3) A
- 4) C
- 5) A
- 6) C
- 7) B
- 8) B
- 9) A
- 10) C
- 11) A
- 12) B