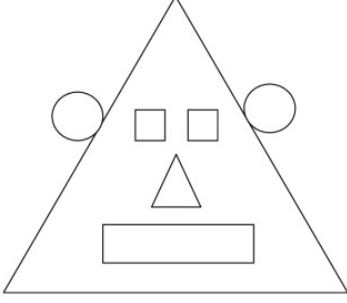


1)



Yukarıdaki **görselle** ilgili aşağıdakilerden hangisi doğru değildir?

- A) Görselde 2 tane çember vardır.
 B) Görselde 2 tane kare vardır.
 C) Görselde 1 tane üçgen vardır.

2)



Aşağıdaki **şekillerden** hangisi, yukarıda bahsedilen özelliklere sahip değildir?

- A) Üçgen B) Kare C) Dikdörtgen

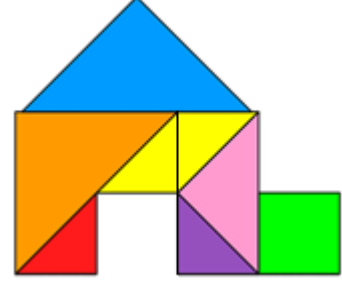
3)



Yandaki geometrik **şekillerle** ilgili aşağıdakilerden hangisi doğrudur?

- A) Köşe sayıları toplamı 7'dir.
 B) Birleşirlerse dikdörtgen oluşur.
 C) Kenar sayıları toplamı 8'dir.

4)




Yukarıdaki **resim** oluşturulurken aşağıdaki şekillerden hangisi kullanılmamıştır?

- A) Üçgen B) Çember C) Kare

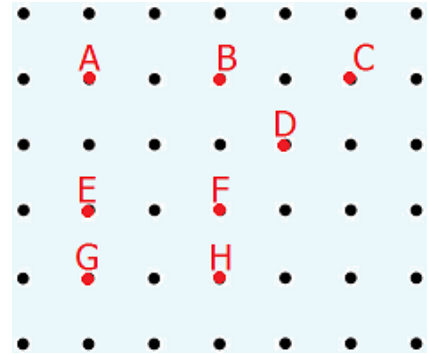
5)

- »»» Kenarı yoktur.
 »»» Köşesi yoktur.
 »»» Köşegeni yoktur.

Yukarıda özellikleri verilen geometrik şekil **aşağıdakilerden** hangisidir?



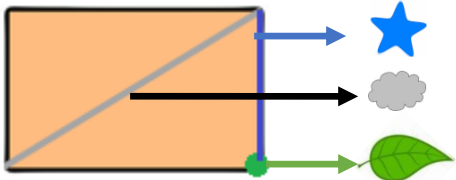
6)



Yukarıdaki noktali alanda harfle belirtilmiş noktalardan hangileri birleşirse dikdörtgen oluşmaz?

- A) A-G-H-B B) G-H-F-E
 C) A-E-F-B

7)

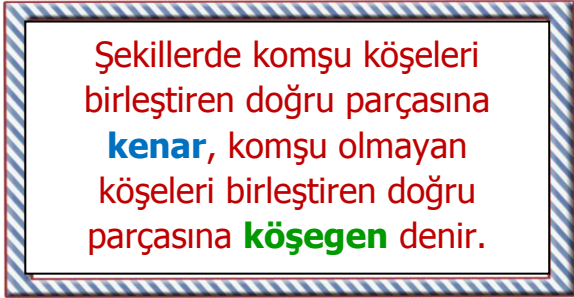


Her biri bir **varlık** ile eşleşen yerlerin doğru isimlendirilmesi aşağıdakilerden hangisidir?



- A) köşe - ayrit - köşegen
B) ayrit - köşegen - köşe
C) köşegen - köşe - ayrit

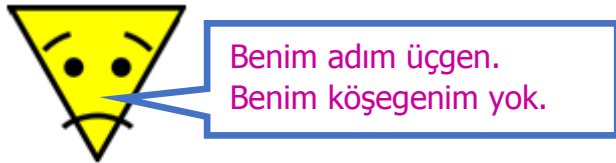
8)



Yukarıdaki **açıklamaya** göre aşağıdaki şekillerden hangisinin **köşegeni yoktur**?

- A)  B)  C) 

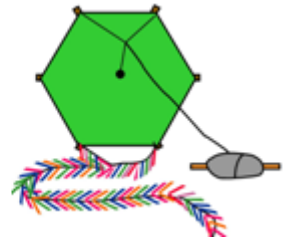
9)



Üçgenin **köşegeninin** olmamasının sebebi aşağıdakilerden hangisidir?

- A) Üçgenin 2 tane köşesi vardır.
B) Komşu olmayan 3 köşesi vardır.
C) Komşu olmayan köşesi yoktur.

10)



Yukarıda verilen **nesnelere** aşağıdakilerden hangisinin **örneği değildir**?

- A) altıgen B) yedigen C) sekizgen


11)



Sekizgen






Beşgen



Altıgen

Yukarıdaki şekiller ve isimleri eşleştirilirse nasıl bir **görüntü** oluşur?

- A)  B)  C) 

12)



Mine

Arıların bal petekleri altıgenlerden oluşur.



Kaya

Altıgen ve beşgenin köşe sayıları farklı değildir.



Esra

Sekizgenin sekiz köşesi ve 7 kenarı vardır.

Yukarıdaki öğrencilerden hangisinin ifadesi yanlış değildir?

- A) Kaya B) Esra C) Mine

CEVAP ANAHTARI

- 1) C
- 2) A
- 3) A
- 4) B
- 5) B
- 6) C
- 7) A
- 8) B
- 9) C
- 10) B
- 11) A
- 12) C