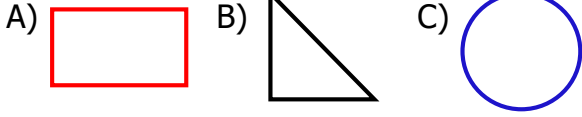
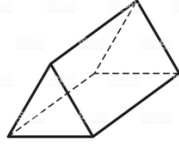


1) Aşağıdaki geometrik şekillerden hangisinin köşesi **yoktur** ?

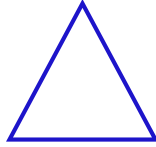





2) Yandaki geometrik cisim ile aşağıdaki şekillerden hangisi **çizilemez**?



- A) daire B) dikdörtgen  
C) üçgen

3) Aşağıdaki bilgilerden hangisi yandaki şekil için doğru **değildir**?



- A)  3 tane kenarı vardır.  
B)  3 tane köşesi vardır.  
C)  3 tane köşegeni vardır.

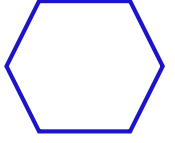
4) Aşağıdakilerden hangisi kare ve dikdörtgenin ortak özelliklerinden **değildir** ?

- A) Kenar ve köşe sayıları  
B) Kenar uzunlukları  
C) Köşegen sayıları

5) Fatih bir dikdörtgenin 2 köşegenini çizmiş. Bunun sonucunda aşağıdakilerden hangisi doğrudur ?

- A) 4 tane üçgen elde eder.  
B) 2 tane üçgen elde eder.  
C) 4 tane kare elde eder.

6) Bir altıgeni karşılıklı köşelerinden iki eş parçaya bölersek eş parçalardan biri hangi geometrik şekildir ?



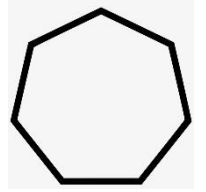
- A) Beşgen B) Dörtgen  
C) Üçgen

7) Yandaki dikdörtgenin uzun kenarları 12 , kısa kenarları 8 santimetredir. Uzun kenarları dörder santimetre kısaltılırsa hangi geometrik şekil elde edilir ?



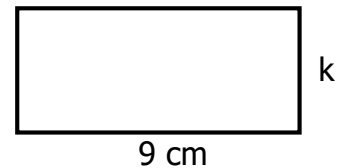
- A) üçgen B) dikdörtgen  
C) kare

8) Yandaki geometrik şekil aşağıdakilerden hangisidir?



- A) altıgen B) yedigen  
C) sekizgen

9)



Yukarıdaki dikdörtgenin "k" harfiyle gösterilen kenarının uzunluğu hangisi **olamaz**?

- A) 10 cm B) 7 cm C) 5 cm

10) Aşağıdakilerden hangisi yanlıştır ?

- A) Karenin 4 tane eş kenarı vardır.  
B) Altıgenin 6 kenarı , 6 köşesi vardır.  
C) Her üçgenin kenar uzunlukları eşittir.

## CEVAP ANAHTARI

- 1) C
- 2) A
- 3) C
- 4) B
- 5) A
- 6) B
- 7) C
- 8) B
- 9) A
- 10) C