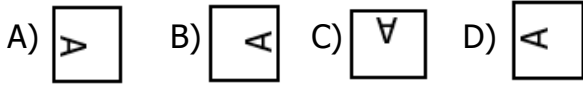


Yukarıdaki şekillerle eşleştikleri sayılar arasında bir ilişki vardır. Buna göre soru işareti yerine ne gelmelidir ?

- A) 18 B) 25 C) 15 D) 21

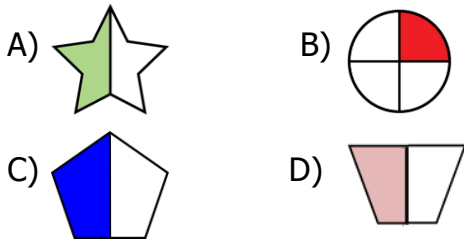
2) Aşağıdaki şekillerden hangisi diğerlerinden farklıdır?



3) Aşağıdaki kelimelerden hangisi bir yönüyle diğerlerinden farklıdır?

- A) yakmak B) kaynar
C) yanarak D) kanarya

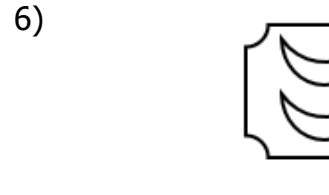
4) Aşağıdaki şekillerden hangisi bir yönüyle diğerlerinden farklıdır?



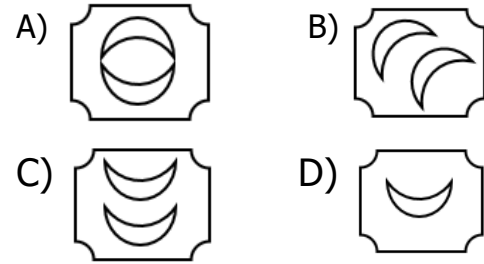
5) $\triangle + \triangle + \triangle + \triangle = 20$

Yukarıdaki toplama işlemine göre $\triangle \times \triangle$ işleminin sonucu kaçtır ?

- A) 20 B) 30 C) 16 D) 25




Yukarıdaki şekil başka bir şeklin ortadan ikiye katlanmış halidir. Katlı şeklin açılmış hali aşağıdakilerden hangisidir?



7)



Resimdeki eksik parça aşağıdakilerden hangisidir ?



8)

18	14	26	30
9	7	13	?

Yukarıdaki sayılar arasında bir ilişki vardır. Buna göre soru işareti yerine ne gelmelidir ?

- A) 10 B) 20 C) 13 D) 15

CEVAP ANAHTARI

- 1) C
- 2) D
- 3) A
- 4) B
- 5) D
- 6) C
- 7) A
- 8) D