



TÜRKÇE

☆ Aşağıdaki cümlelerde noktalı yerlere uygun kelimeleri yazalım.



Bahçedeki yere düşen elmaları



Annem her sabah parkta yürüyüş



Kübra kümesteki yumurtaları



Tekir tabağındaki sütü



Sıla sabah ılık süt



Melih zor problemleri



Sıla sabah ılık süt



Annem dün balkonda halıları



Ablam kuruyan çamaşırları



Kayra geç yattığı için sabah erken



Babam bahçedeki odunları





Arkadaşlarımla yarın pikniğe



Yarın sipariş ettiğim kitaplar



Sude yaptığı resmi





TÜRKÇE

☆ Aşağıdaki karşılaştırma cümlelerinde noktalı yerlere uygun kelimeleri yazınız.

en , farklı olarak , kadar , benzer , aynısı , daha , gibi

Benim boyum Ali'nin boyundan uzun.

Sinem , Melek güzel resim yapar.

Mağazadaki güzel elbiseyi aldık.

O çantanın Selim'de de var.

Yarasaların , kuşlara yanı uçmalarıdır.

Demet , kardeşi çabuk ağlar.

Bu kutu diğerinden ağır.

Teyzem , annemden gezmeyi sever.

Umut'un bilyeleri Metin'in bilyelerinden fazla.

O halının amcamlarda da var.

Sinem , ablası güzel şarkı söyler.

Hasan , benden bulmaca çözer.

Amcamın , babama yanı futbolu sevmeleridir.

Çiçekçideki güzel çiçeği anneme aldım.

Dün ablam kitap okudum.

Ercan denizde balık yüzüyor.

Elif , Gaye'den yarışmaya daha iyi hazırlandı.



TÜRKİYE'NİN YERİ

1. Etkinlik: Dünya haritasında ülkemizi bularak boyayınız. Ülkemizin adını seçenekler arasında bulup boyayınız.



Ankara

Kayseri

Türkiye

İstanbul

İzmir

2. Etkinlik: Aşağıda belirtilen şehir isimlerini noktalı yerlere isimlerini yazarak , haritada bulup belirtilen renge boyayınız.




Yaşadığımız şehir: (Kırmızı) Başkentimiz : (Mavi)

Nüfusu en kalabalık şehrimiz: (Yeşil)

Yazın en çok turist gelen şehrimiz: (Kahverengi)

Kedisiyle ünlü şehrimiz: (Sarı)

Yaşadığımız şehre komşu şehirlerden biri : (Pembe)



VATANIMIZIN VE MİLLETİMİZİN SEMBOLLERİ

1. Etkinlik: İstiklâl Marşı'nda verilmeyen kelimelerin numaralarını yazarak tamamlayalım.

İSTİKLÂL MARŞI

[.....], sönmez bu şafaklarda yüzen [.....] sancak;

Sönmeden [.....] üstünde tüten en son ocak.

O benim milletimin [.....], parlayacak;

O [.....], o benim milletimindir ancak.

Çatma, [.....] olayım, çehreni ey nazlı [.....] !

[.....] ırkıma bir gül... Ne bu şiddet, bu celâl?

Sana olmaz dökülen [.....] sonra helâl;

Hakkıdır, Hakk'a tapan, milletimin [.....] .

1 hilâl

2 yıldızdır

3 benimdir

4 kurban

5 yurdumun

6 istiklâl

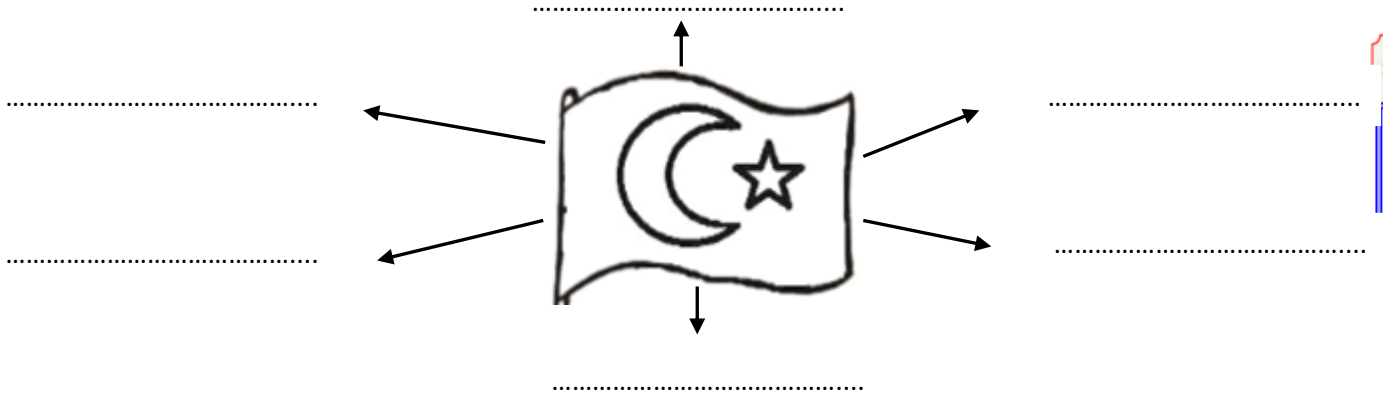
7 Korkma

8 al

9 kanlarımız

10 Kahraman

2. Etkinlik: Bayrağımızı boyayalım. Bayrağımızın bize çağrıştırdığı kelimeleri noktalı yerlere yazalım.



3. Etkinlik: Cümlelerdeki boş bırakılan yerleri uygun kelimelerle tamamlayalım .

- ☆ Milli marşımız'dir. **şehitlerimizin kanından**
 - ☆ Her bağımsız ülkenin bir vardır. **saygı**
 - ☆ sevmek demek bayrağımızı ve milli marşımızı sevmek demektir. **beyaz**
 - ☆ Milli marşımız kıtadır . **bayrağı**
 - ☆ Bayrağımız ve renklerde dir. **yıldız**
 - ☆ İstiklâl Marşı'mızı yazmıştır. **on**
 - ☆ Bayrağımız kırmızı rengini almıştır. **Vatanı**
 - ☆ Bayrağımıza ve İstiklâl Marşımıza göstermeliyiz.
 - ☆ Bayrağımızın üzerinde ve vardır.
- Mehmet Akif Ersoy kırmızı ay İstiklal Marşı**

MİLLİ BAYRAMLARIMIZ

1. Etkinlik: Milli bayramlarımızı önce ilgili olayla , sonra ilgili bayram kutlamasıyla eşleştiriniz.

OLAYLAR



19 Mayıs Atatürk'ü Anma
Gençlik ve Spor Bayramı



30 Ağustos Zafer
Bayramı



23 Nisan Ulusal Egemen-
lik ve Çocuk Bayramı



29 Ekim Cumhuriyet
Bayramı

BAYRAM KUTLAMALARI



2. Etkinlik: Aşağıdaki metinde boş bırakılan yerleri uygun kelimelerle tamamlayınız.

Ankara

Çocuk

yenilikler

düşmanlar

Samsun

Cumhuriyet

yendik

Zafer

Bandırma

Spor

Egemenlik

toplantılar

Gençlik

Birinci Dünya Savaşı sonunda yurdumuz tarafından işgal edildi. Bunun üzerine Atatürk , Vapuru ile İstanbul'dan Samsun'a hareket etti. 19 Mayıs 1919'da 'a çıktı. Bu önemli günü Atatürk'ü Anma , ve Bayramı olarak kutlarız. Atatürk buradan Erzurum ve Sivas'a giderek yaptı. Halkı etrafında topladı. 23 Nisan 1920'deda Türkiye Büyük Millet Meclisini açtı. Bugünü Ulusal ve Bayramı olarak kutlarız. 30 Ağustos 1922'de düşmanı Düşmanın yenildiği günü Bayramı olarak kutlarız. Atatürk daha sonra çeşitli yaptı. Buların en önemlisi 29 Ekim 1923'te cumhuriyeti ilan etmesidir. Bugünü de Bayramı olarak kutlarız.

ATATÜRK'ÜN HAYATI

1. Etkinlik: Verilen resimlerden faydalanarak Atatürk'le ilgili bilgileri tamamlayalım.



Atatürk 'te doğmuştur.



Atatürk'ün annesinin adı 'dir.



Atatürk'ün babasının adı 'dir.



Atatürk'ün kız kardeşinin adı 'dir.



Atatürk okula önce de başladı.



Atatürk daha sonra na gitmiştir.



Babasının ölümü üzerine Atatürk bir süre çiftliğinde kaldı.



Atatürk büyüyünce olmak istiyordu.



Atatürk annesinden habersiz sınavına girdi ve kazandı. Sonra Selanik Askeri Ortaokuluna başladı.



Atatürk'ü çok seven matematik öğretmeni ona adını verdi.

ATATÜRK'ÜN HAYATI



Atatürk 1881 yılında Selanik'te doğdu. Kendisine Mustafa adı verildi. Babası Ali Rıza Bey, annesi Zübeyde Hanım'dır. Mustafa okul çağına gelince Mahalle Mektebi'nde öğrenime başladı. Sonra babasının isteğiyle Şemsi

Efendi Mektebi'ne geçti. Bu sırada babasını kaybetti. Bir süre annesiyle birlikte dayısının çiftliğinde kaldı. Ardından Selanik'e dönerek ilkokulu bitirdi. Atatürk büyüyünce subay olmak istiyordu. Bu nedenle sınavını kazandığı askeri ortaokula kaydoldu. Okuldaki matematik öğretmenin ismi de Mustafa'ydı. Bir gün senin ismin de Mustafa, benimki de Mustafa. Bundan böyle senin adın Mustafa Kemal olsun, dedi.

Kız kardeşi Makbule Hanım, Mustafa'nın ceviz oyunu, saklambaç ve daha bir çok değişik oyunlar oynadığını, çok hareketli olduğunu, çeşitli şakalar yaptığını anılarında ifade etmiştir.

SORULARI CEVAPLAYALIM

1. Atatürk nerede doğmuş?

.....

2. Atatürk'ün babasının ve annesinin adı nedir ?

.....

3. Atatürk babasının isteğiyle hangi okula gitti ?

.....

4. Atatürk babası öldükten sonra bir süre nerede kaldı ?

.....

5. Atatürk büyüyünce ne olmak istiyordu ?

.....

6. Atatürk'e Kemal adını kim verdi ?

.....

7. Atatürk çocukken hangi oyunları oynuyormuş ?

.....

BÖLME İŞLEMİYLE İLGİLİ PROBLEMLER

1. Etkinlik : Aşağıdaki problemleri yapalım . Doğru cevabı boyayalım.

1.) 15 tane cevizi 3 kişiye eşit olarak paylaşıyoruz. Her birine kaç ceviz düşer ?

Çözüm:



4

5

6



2.) 14 tane boncuğumuz var. Bu boncuklarla ikişerli kaç grup oluştururuz? Çözüm:



7

6

5

3.) 20 tane fıncığımız var. Bu fıncıklarla dörderli kaç grup oluştururuz?

Çözüm:



3

4

5



4.) 12 tane çiçeğimizi 2 vazoya eşit olarak paylaşıyoruz. Her vazoda kaç çiçek olur ?

Çözüm:



5

6

7

5.) 30 tane elmayı 5 tabağa eşit olarak paylaşıyoruz. Her birine kaç tane bisküvi düşer ?

Çözüm:



5

6

7



6.) 12 tane çocuk bahçede üçerli gruplar oluşturuyor. Çocuklar kaç grup oluşturmuştur ?

Çözüm:



5

3

4

7.) Suna 8 tane boyayı ikişerli gruplara ayırmış. Kaç grup oluşturmuştur?

Çözüm:



3

4

5

8.) 28 tane balığı 4 akvaryuma eşit olarak paylaşıyoruz. Her akvaryumda kaç balık olur ?

Çözüm:



7

6

5

BÖLME İŞLEMİYLE İLGİLİ PROBLEMLER

1. Etkinlik : Aşağıdaki problemleri yapalım . Doğru cevabı boyayalım.

1.) 10 tane kalem 2 çocuğa eşit olarak paylaşıyoruz. Her birine kaç kalem düşer ?

Çözüm:



4

5

6

2.) 18 tane balonumuz var. Bu balonlarla üçerli kaç grup oluştururuz?

Çözüm:



6

7

8

3.) 12 tane kuş 4 tane dala eşit sayıda konmuşlar. Her bir dala kaç tane kuş konmuştur ?

Çözüm:



3

4

5

4.) 25 tane kuzumuz var. Kuzuları beşerli gruplara ayırdık. Kaç grup olmuştur ?

Çözüm:



4

5

6

5.) Sıla 6 tane tokasını ikiyeşerli gruplara ayırmış. Sıla tokalardan kaç grup oluşturmuştur ?

Çözüm:



3

4

5

6.) 9 tane öğrenci 3 sıraya eşit sayıda oturmuşlar. Her bir sıraya kaç öğrenci oturmuştur ?

Çözüm:



2

3

4

7.) Soner 24 sayfa olan kitabını her gün eşit sayıda sayfa okuyarak 4 günde bitirmesi için günde kaç sayfa okumalıdır?

Çözüm:



3

4

6

8.) 15 tane ekmeği her gün eşit sayıda yiyerek 5 günde bitirdik. Buna göre bir günde kaç ekmek yedik ?

Çözüm:



5

4

3

BÖLME İŞLEMİYLE İLGİLİ PROBLEMLER

1. Etkinlik : Aşağıdaki problemleri yapalım . Doğru cevabı boyayalım.

1.) Ömer ve Ali 14 cevizi eşit olarak paylaşmışlar. Her birine kaç ceviz düşmüştür ?

Çözüm:



4

6

7



6

7

8

2.) Aysu ve 2 arkadaşı 21 tane eriği eşit olarak paylaşmış. Her birine kaç erik düşmüştür ?

Çözüm:



3

4

5



7

6

8

3.) Annem 16 dilim keki 4 tabağa eşit sayıda koydu. Annem bir tabağa kaç dilim kek koymuştur ?

Çözüm:



4.) Umut 35 sayfa olan kitabından her gün 5 sayfa okumuş ve bitirmiş. Umut kitabı kaç günde bitirmiştir ?

Çözüm:



5.) Oya 18 tane fıncığın yarısını yemiş. Oya kaç tane fıncık yemiştir ?

Çözüm:



6.) Mert ve 3 arkadaşı 32 bilyeyi eşit sayıda paylaşmışlar. Her birine kaç bilye düşmüştür ?

Çözüm:



7

8

9



7

6

8

7.) Ablam her 8 sayfa test çözerse 40 sayfa testi kaç günde çözer ?

Çözüm:



8.) 14 dilim böreğin yarısını yedik. Kaç tane börek yedik ?

Çözüm:



4

5

6

6

7

8

BÖLME İŞLEMİYLE İLGİLİ PROBLEMLER

1. Kümeste 16 tane tavuk var. Tavukların yarısı satılmış. Kaç tane tavuk satılmıştır?

Çözüm:



2. 2 deste kalem 5 arkadaş eşit olarak paylaşmış. Her birine kaç kalem düşer ?

Çözüm:



3. Bahçedeki kuzuların toplam 28 ayağı var. Buna göre bahçede kaç tane kuzu vardı ?

Çözüm:



4. Oya ve Şahin 18 lirayı eşit olarak paylaşmışlar. Her birine kaç lira düşmüştür?

Çözüm:



5. Recep 32 sayfa olan kitabından her gün 4 sayfa okursa, kitabı kaç günde bitirir?

Çözüm:



6. Ercan'ın 30 tane fıncığı var. Her gün eşit sayıda yiyerek 5 günde bitiriyor. Ercan bir günde kaç fıncık yemiştir ?

Çözüm:




7. Sinem tabaktaki 12 bisküvinin yarısını yemiştir. Sinem kaç tane bisküvi yemiştir ?

Çözüm:



8. Gaye ve 2 arkadaşı 27 tane boncuğu eşit olarak paylaşmışlar. Buna göre her birine kaç tane boncuk düşmüştür ?

Çözüm:



Doğru cevaplarla problem numaralarını eşleştirilim.

7
...

9
...

8
...

4
...

6
...

8
...

9
...

6
...

BÖLME İŞLEMİ PROBLEMLER

1. 12 kutu süt Kemal ve 2 arkadaşına eşit olarak paylaştırılıyor. Her birine kaç kutu süt düşer?

Çözüm:



2. 14 kitabın yarısını okudum. Kaç tane kitap okudum ?

Çözüm:



3. Günde 4 ekmek yiyoruz. 24 tane ekmeği kaç günde yeriz ?

Çözüm:



4. Sıla 45 tane boncuğu 5 tane ipe eşit olarak dizmiş. Her bir ipte kaç tane boncuk vardır ?

Çözüm:



5. Tekin 16 tane bilyenin yarısını arkadaşına vermiş. Tekin kaç tane bilye vermiştir?

Çözüm:



6. Kümesteki tavukların toplam 10 tane ayağı vardır. Buna göre kümeste kaç tane tavuk vardır ?

Çözüm:



7. Emine 27 tane çileği 3 tabağa eşit olarak koymuş. Her tabakta kaç çilek vardır ?

Çözüm:



8. Ahırdaki ineklerin toplam 12 tane ayağı vardır. Buna göre ahırda kaç tane inek vardır ?

Çözüm:



Doğru cevaplarla problem numaralarını eşleştirelim.

5
...

9
...

8
...

4
...

3
...

9
...

7
...

6
...

BÖLME İŞLEMİ PROBLEMLER

1. Ahırdaki 23 tane ineğin 5 tanesi satıldı.
Kalan ineklerin yarısı diğer ahıra götürüldü.
Diğer ahıra kaç tane inek götürüldü ?

Çözüm:



2. Aysel 30 tokanın 9 tanesini kendine ayırdı. Kalanını ise 3 arkadaşına eşit olarak paylaştırdı. Her bir arkadaşına kaç toka düşmüştür ?

Çözüm:



3. Babam 42 tane elma almış. Elmaların 14 tanesini yedik. Kalanını ise her gün 4 tane yersek kaç günde bitiririz ?

Çözüm:



4. Talat'ın 28 tane bilyesi vardı. Babası 12 tane daha bilye aldı. Talat bilyelerini 5 kutuya eşit olarak paylaştırdı. Her bir kutuda kaç bilye olur ?

Çözüm:



5. Tabakta 18 tane erik vardı. Annem 9 tane daha erik koydu. Ben ve 2 arkadaşım erikleri eşit sayıda yedik. Her birimiz kaç erik yedik ?

Çözüm:



6. Annem önce 14 , sonra 18 tane poğaçayı pişirdi. Her gün eşit sayıda yiyerek 4 günde bitirdik. Günde kaç tane poğaçayı yedik ?

Çözüm:



7. Buzdolabında 7 tane yumurta vardı. Annem 9 tane daha yumurta koydu. Sonra yumurtaların yarısını yedik. Buzdolabında kaç tane yumurta kaldı?

Çözüm:



8. Bahçede 13 çocuk oyun oynuyordu. Sonra 7 çocuk daha geldi. Çocuklar 5'erli gruplara ayrıldılar. Çocuklar kaç grup olmuştur ?

Çözüm:



BÖLME İŞLEMİ PROBLEMLER

1. Bakkal 51 ekmeğin 27 tanesini önceden satmış. Kalanını ise 4 müşteriye eşit olarak satmış. Her birine kaç ekmeği satmıştır ?

Çözüm:



2. Pelin 7, Erkan 8 tane çiçek toplamış. Çiçekleri eşit olarak 3 vazoya koymuşlar. Her vazoda kaç çiçek olmuştur?

Çözüm:



3. Tabaktaki 13 çileğin 5 tanesi çürümüş. Kalanını ise Arda ve Oya eşit sayıda yemişler. Her biri kaç çilek yemiştir ?

Çözüm:



4. İrmak 26 tane elmanın 6 tanesini sepette bırakmış. Diğerlerini ise 5 tabağa eşit olarak koymuş. Her tabakta kaç elma vardı ?

Çözüm:



5. Ömer 42 sayfa olan kitabından önce 15 sayfa okumuş. Kalanını ise her gün eşit sayfa okuyarak 3 günde bitirmek istiyormuş. Günde kaç sayfa okuması gerekir ?

Çözüm:



6. Pikniğe 37 kişi gidecektik ama 7 kişi gelmedi. Oyun oynamak için her biri 5 kişiden oluşan gruplara ayrıldık. Kaç grup oluşmuştur ?

Çözüm:



7. Babam bir cebinden 9 , diğer cebinden 7 lira çıkardı. Parayı 4 kişiye eşit olarak paylaştırdı. Her birine kaç lira düşer ?

Çözüm:



8. Gaye'nin 8 kitabı vardı. Babası 4 tane daha kitap aldı. Gaye kitapların yarısını okudu. Gaye kaç tane kitap okumuştur?

Çözüm:



BÖLME İŞLEMİ PROBLEMLER

1. Hasan 23 tane bilyenin 9 tanesini arkadaşına vermiş. Kalan bilyeleri ise 2 cebine eşit olarak koymuş. Hasan'ın bir cebinde kaç bilye vardır ?

Çözüm:



2. Bakkal 52 kutu sütün 16 tanesini satmış. Kalan sütleri 4 poşete eşit olarak koymuş. Her bir poşette kaç kutu süt vardır?

Çözüm:



3. Ada 12 ,Demet 9 boncuğunu masaya koymuşlar. İki arkadaş boncukları üçerli gruplara ayırmışlar. Oluşan grup sayısı kaçtır ?

Çözüm:



4. İsmet'in 15 lirası vardı. Babası 25 lira daha verdi. İsmet parasından her gün 5 lira harcarsa kaç günde parası biter ?

Çözüm:




5. Kümesten dün 12, bugün 8 tane yumurta aldım. Her gün eşit sayıda yiyerek yumurtaları 4 günde bitirdik. Bir günde kaç yumurta yedik ?

Çözüm:



6. Caner'in 5, Kenan'ın 7 tane cevizi vardı. İki arkadaş cevizlerini birleştirip eşit olarak paylaştılar. Her birine kaç ceviz düşer ?

Çözüm:




7. 32 tane çiçeğin 14 tanesi kurudu. Kalan çiçekleri 3 vazoya eşit şekilde koydum. Bir vazoda kaç tane çiçek vardır ?

Çözüm:



8. Jale 26 ve 19 sayfa olan iki kitabını her gün 5'er sayfa okuyarak bitirmek istiyor. Jale kitapları kaç günde bitirir ?

Çözüm:



BÖLME İŞLEMİ PROBLEMLER

1. 32 tane fındığı 4 çocuğa eşit olarak paylaşırsak her birine kaç fındık düşer ?

Çözüm:



2. Sepetteki 22 elmanın 4 tanesi çürümüş. Diğer elmaları ise 3 tabağa eşit olarak koydum. Bir tabakta kaç tane elma olur ?

Çözüm:



3. Ozan ve arkadaşı 10 tane boyayı paylaşmışlar. Her birine kaç boya düşmüştür ?

Çözüm:



4. Masaya Ozan 17, Oya 19 boncuk bırakmış. Boncukları 4 kutuya eşit olarak koymuşlar. Bir kutuda kaç tane boncuk vardır ?

Çözüm:



5. Sila 4 deste çiçeği 5 vazoya eşit olarak koydu. Bir vazoda kaç tane çiçek vardır ?

Çözüm:



6. Selim 30 tane bademin 12 tanesini yemiş. Kalan bademleri ise 3 arkadaşına eşit olarak paylaşmış. Her birine kaç badem düşmüştür ?

Çözüm:



7. Pazarcı 49 tane kavunun 9 tanesini satmış. Kalan kavunları 5 kasaya eşit olarak koymuş. Bir kasada kaç tane kavun vardır ?

Çözüm:



8. Kümesteki tavukların ayak sayısı 12'dir. Kümeste kaç tane tavuk vardır ?

Çözüm:



BÖLME İŞLEMİ PROBLEMLER

1. Efe ve 3 arkadaşı 36 cevizi paylaşmışlar. Efe kendi cevizlerinden 4 tanesini kardeşine vermiş. Efe'nin kaç cevizi kalmıştır?

Çözüm:



2. Annemin yaptığı 42 tane kurabiye'nin 7 tanesini yedik. Kalanını 5 tabağa eşit olarak koyarsak bir tabakta kaç kurabiye olur?

Çözüm:



3. Her gün 3 lira harcayan Metin 15 lirayı kaç günde harcar ?

Çözüm:



4. Aytaç ve 3 arkadaşı 16 kalemi eşit olarak paylaşmışlar. Aytaç'ın evde 8 tane daha kalemi vardı. Aytaç'ın kaç kalemi oldu?

Çözüm:



5. 6 bilyenin 3 katının yarısı kaç tane bilye yapar ?

Çözüm:



6. Rana'nın 18 lirası var. Tanesi 3 lira olan tokalardan kaç tane alır ?

Çözüm:



7. Betül'ün 18 tane boncuğu vardı. Ablası 6 tane daha verdi. Betül boncuklarını 3 eşit gruba ayırdı. Bir grupta kaç tane boncuk vardır ?

Çözüm:



8. Kayra 35 sayfa olan kitabından 14 sayfa okumuş. Kalanını ise eşit miktarda okuyarak 3 günde bitiriyor. Her gün kaç sayfa okumuştur ?

Çözüm:

