



Adı Soyadı :

Numarası :

Konu: Nokta Etkinliği 3

Aşağıda okunuşları verilen sıra sayılarını yazalım.

Dördüncü : Birinci :

Altıncı : Yedinci :

Onuncu : Yirminci :

ikinci : Üçüncü :

Aşağıdaki cümlelerin sonuna nokta koyunuz.

Yarın okula gideceğiz

Halil amca bahçeye havuz yaptı

Çocuklar kediye süt verdi

Aşağıdaki tarihlerde gün, ay ve yıl belirten sayıların arasına nokta koyalım.

15 25 2020 30 08 2019

10 12 1974 01 01 2021

24 02 1596 13 04 1888

Aşağıda belirtilen saat ve dakikaların arasına nokta koyalım.

12 20 10 30 22 10

18 15 21 10 07 30

08 10 11 40 12 35

19 25 10 55 02 10

Aşağıdaki Türkiye Haritası'nda belirtilen illeri nokta ile gösterelim.



Aşağıdaki kısaltmaların sonuna nokta koyalım.


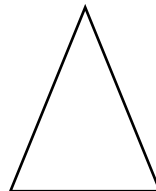
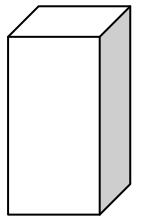
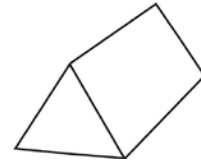
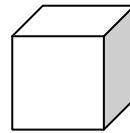
Dr Mah

Av Cad

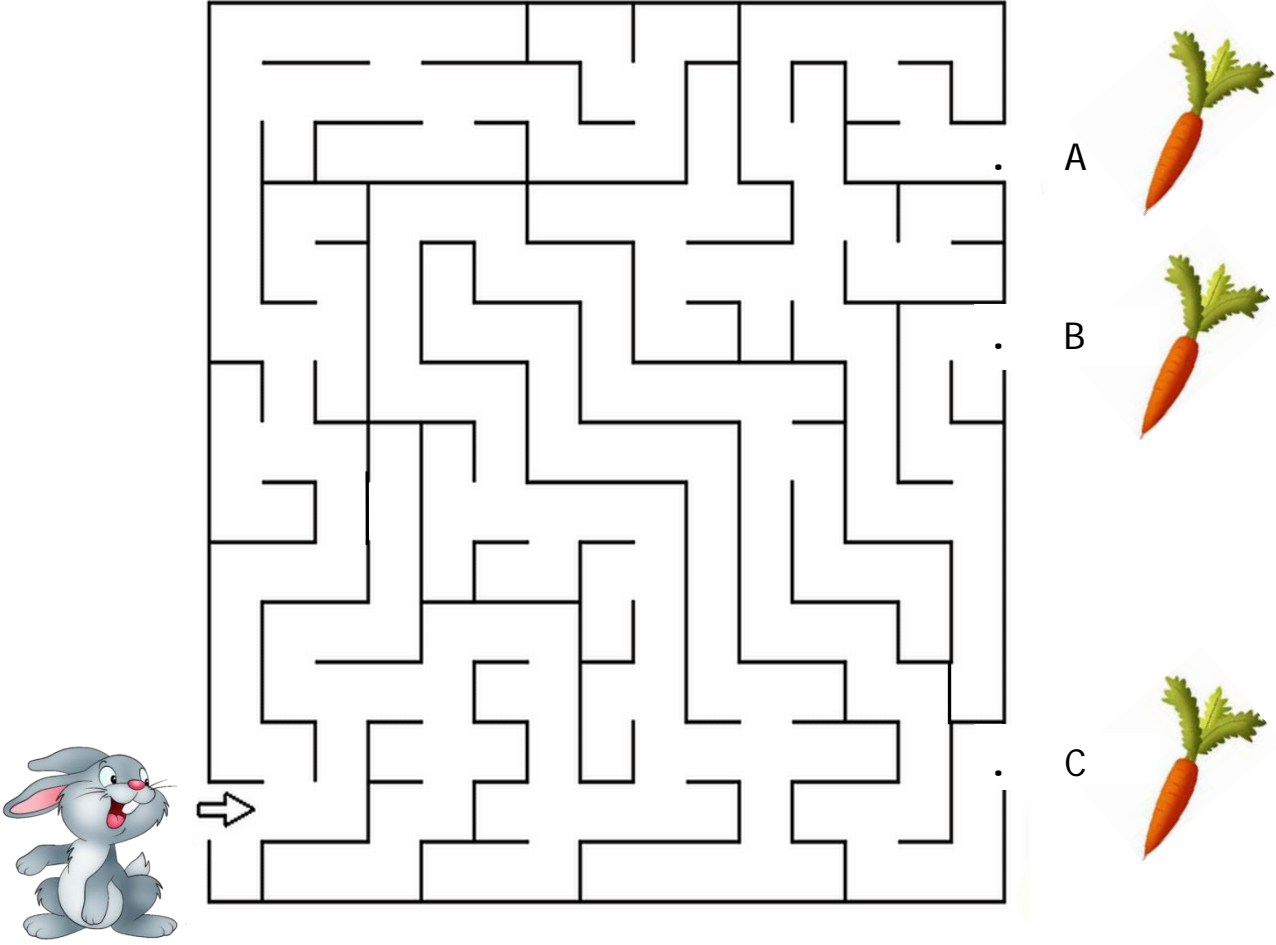
Prof Alb

İng vb

Aşağıdaki geometrik cisimlerin ve geometrik şekillerin köşelerine nokta koyalım.



Aşağıdaki labirentte tavşan hangi noktadan çıkarsa havuca ulaşabilir?



Aşağıdaki noktaları birer birer takip ederek resimleri tamamlayınız.

