

1)

İnsanların oluşumuna katkıda bulunmadığı, doğada kendi başına var olan çevreye **doğal çevre** denir

Aşağıdaki cümlelerden hangisinde **doğal çevreden** bahsedilmemektedir?

- A) Ailece ormanda yürüyüş yaptık.  
B) Babamla denizde balık tuttuk.  
C) Annemle hayvanat bahçesine gittik.

2)

Doğal çevreye en çok zararı veren canlılar .....**1**.....

Doğal çevrenin zarar görmesi canlı çeşitliliğini .....**2**.....

Yukarıdaki **cümlelerde** noktalı alanlara aşağıdakilerden hangileri gelmelidir?

**2****1**

- A) hayvanlardır - artırır  
B) azaltır - insanlardır  
C) artırır - böceklerdir

3) Aşağıdaki çevrelerden hangisi **doğal çevreye** örnek verilebilir?

- A) şelale B) baraj C) köy

4)

İnsan etkisiyle oluşturulmuş, ya da değişikliğe uğratılmış çevreye **yapay çevre** denir.




Aşağıdaki cümlelerden hangisinde **yapay çevreden** bahsedilmektedir?

- A) Gölün kenarında piknik yaptık.  
B) Evimizin yanına yeni bir bina yapıldı.  
C) Karşiki dağda bir mağara varmış.

5)

Akarsular	Futbol Sahası	Kayalıklar
Otopark	Nehirler	Köprüler

Yukarıdaki tabloda bulunan **çevrelerden doğal olmayanları** boyarsak nasıl bir **görüntü** oluşur?

- A)  B)   
C) 

6) Aşağıdaki çevrelerden hangisi **yapay çevreye** örnek verilemez?

- A)  dağ B)  fabrika C)  şehir

7)

Yer kabuğunun oluşumu sırasında meydana gelen mağara, şelale, traverten, peribacası gibi yer yüzü şekilleridir.

Yukarıda açıklaması verilen **çevreler** aşağıdakilerden hangisidir?

- A) milli parklar      B) doğal anıtlar  
C) yapay çevre

8)

- |                          |  |
|--------------------------|--|
| <input type="checkbox"/> | Yapay çevre hayvanlardan oluşurken doğal çevreyi insanlar oluşturur. |
| <input type="checkbox"/> | Doğal ve yapay çevrede hayvanların beslenme koşulları aynıdır.       |
| <input type="checkbox"/> | Doğal çevrenin oluşum süreci yapay çevreye göre daha uzundur.        |

Doğal ve yapay çevrenin farklarıyla alakalı yukarıdaki ifadelerden hangisi **doğrudur**?

- A)       B)       C)

9)



Yukarıdaki **balığın** hangi çevrede yaşadığı söylenebilir?

- A) özgür      B) doğal      C) yapay

10)



Yukarıdaki **resimden** hangi sonucu çıkarabiliriz?

- A) İnsan dışında hiçbir varlık doğal çevreye zarar vermez.  
B) Hayvanlar insanların yaşam alanlarını yok ederler.  
C) İnsanların doğal çevrede ağaçlara ihtiyaçları yoktur.

11)



Aşağıdakilerden hangisi **doğal çevreyi** korumanın faydalarından değildir?

- A) Hayvan ve bitki çeşitliliği korunur.  
B) İnsanların yaşam alanı yok olur.  
C) Yaşanabilir, temiz bir çevre oluşur.

12) Aşağıdaki hayvanlardan hangisinin yaşam alanı **diğerlerinden** farklıdır?



# CEVAP ANAHTARI

1) C

2) B

3) A

4) B

5) C

6) A

7) B

8) A

9) C

10) A

11) B

12) C