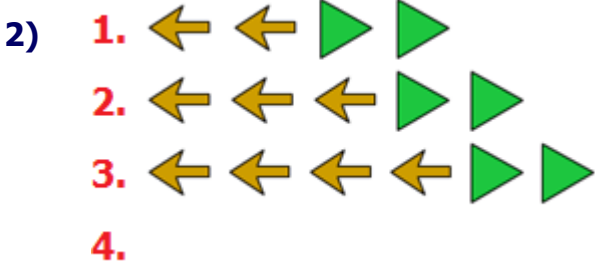

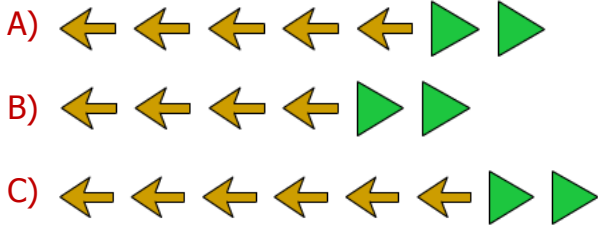




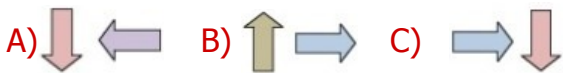
Yukarıdaki **örüntüde** boş bırakılan yere hangi **şekil** gelmelidir?



Yukarıdaki sıralamalı **örüntüye** göre **4. alana** aşağıdakilerden **hangisi** gelmelidir?



Üstteki **örüntü** aşağıdakilerden hangileriyle **sürdürülmelidir**?

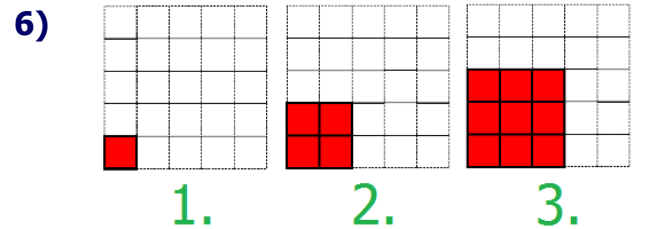
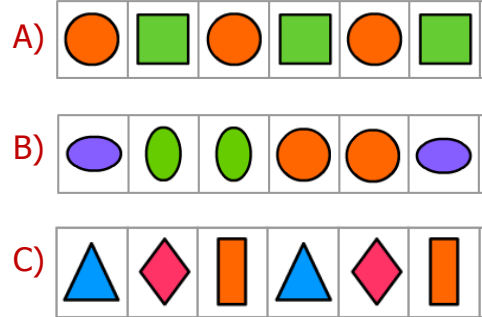


Yukarıdaki dizilimin **kurallı bir örüntü** olması için **hangisi** yapılmalıdır?

- A) 4 ile 3 yer değiştirmelidir.  
 B) 2 ile 1 yer değiştirmelidir.  
 C) 2 ile 4 yer değiştirmelidir.




Hangi seçenekteki **örüntünün kuralı** yukarıdaki örüntüyle **aynıdır**?



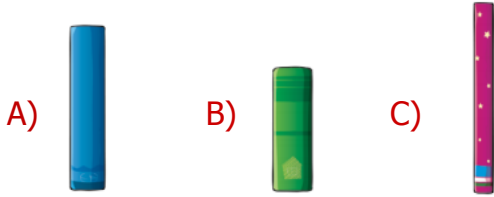
Yukarıdaki **örüntüye** göre bir sonraki adımda(4.) kaç kare boyanacaktır?

- A) 12 B) 14 C) 16

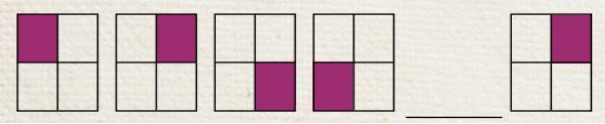
7)




Yukarıdaki kitaplar **belli bir kurala** göre dizilmiştir. Buna göre soru işareti olan yere aşağıdakilerden hangisi gelecektir?



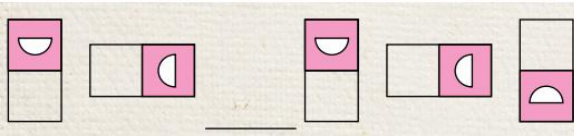
8)



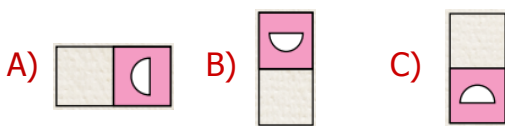
Yukarıdaki **kurallı** dizilime göre boş alana aşağıdakilerden hangisi gelmelidir?



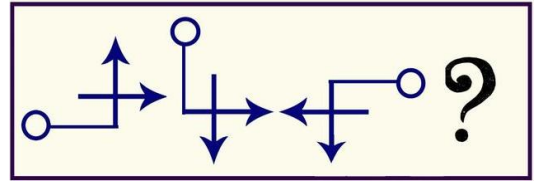
9)



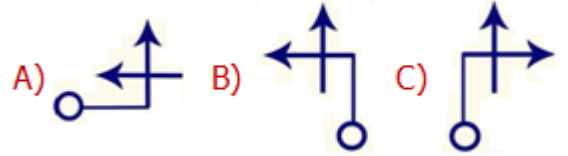
Yukarıdaki **kurallı** dizilime göre boş alana aşağıdakilerden hangisi gelmelidir?



10)



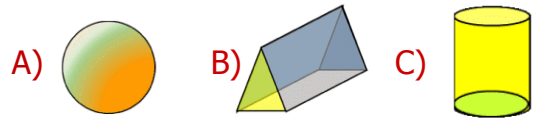
Yukarıdaki **dizilime** göre soru işareti olan yere aşağıdakilerden hangisi gelecektir?



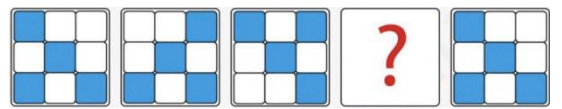
11)

üçgen prizma	küp	küre	silindir
→			↓
←			
üçgen prizma	silindir	?	küp

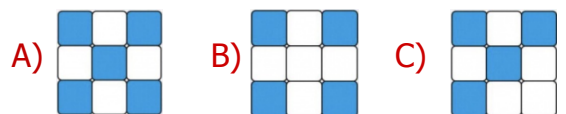
Yukarıdaki **örüntüye** göre soru işareti olan yere aşağıdakilerden hangisi gelecektir?



12)



Yukarıdaki **dizilime** göre soru işareti olan yere aşağıdakilerden hangisi gelecektir?



# CEVAP ANAHTARI

1) B

2) A

3) C

4) A

5) B

6) C

7) A

8) B

9) C

10) B

11) A

12) C