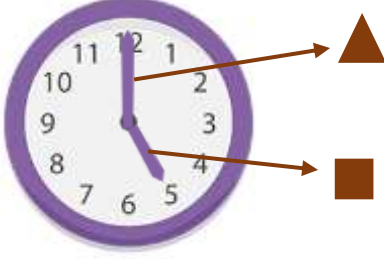


1)



Yukarıdaki analog saat ile ilgili verilen bilgilerden hangisi yanlıştır?

- A) ▲ yelkovandır.
 B) ■ akreptir.
 C) Saat tam on ikidir.

2) Aşağıdaki saatlerden hangisinde saat on biri çeyrek geçmektedir?



3)



Yukarıdaki dijital saat ile ilgili verilen bilgilerden hangisi doğrudur?

- A) ▲ saattir.
 B) ■ saniyedir.
 C) Saat sekizdir.

4)

09:15

Yukarıdaki dijital saatin okunuşu aşağıdakilerden hangisidir?

- A) Saat tam on beştir.
 B) Saat dokuzu çeyrek geçiyor.
 C) Saat on beşi dokuz geçiyor.

5)

02:30

Yukarıdaki dijital saat ile aynı saati gösteren analog saat hangisidir?



6)



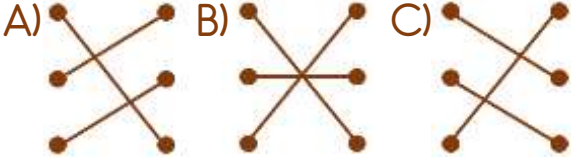
Saat 5'te kitap okumaya başladım ve yarım saat kitap okudum.

Celil kitap okumayı bitirdiğinde saat kaç olmuştur?

- A) 03:50 B) 05:30 C) 05:00



Yukarıdaki analog ve dijital saatler nasıl eşleştirilmelidir?

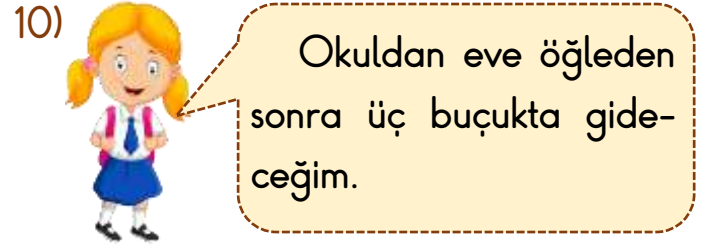


8) Hangi dijital saat yandaki analog saatten farklı bir saati göstermektedir?

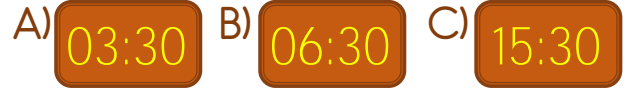


9) Zamanı ölçme kavramları ile ilgili verilen bilgilerden hangisi yanlıştır?

- A) Bir gün 12 saattir.
 B) Analog saatlerde akrep ve yelkovan bulunur.
 C) Akrep gün içinde iki kez aynı saati gösterir.



Nehir'in eve döneceği saati hangi dijital saat göstermektedir?




11) Yandaki analog saat, dijital saatte sabah ve akşam nasıl gözükür?



12) Antalya'dan yola çıkan Hasan Ensar 3 saat yolculuk yaparak öğleden sonra saat 2'de Denizli'ye ulaşmıştır.

Hasan Ensar Antalya'dan saat kaçta yola çıkmıştır?



Cevap Anahtarı

1-C 2-A 3-A 4-B 5-C 6-B 7-B 8-C 9-A 10-C 11-B 12-A