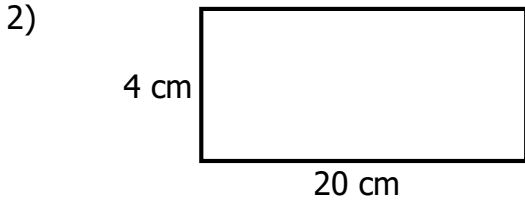


- 1) — Dört kenarı vardır.
 — 2 Uzun , 2 kısa kenarı vardır.
 — Tüm kenar uzunlukları birbirine eşittir.
 — Bir kenarının uzunluğunu 4 ile çarpar-
 çevresini buluruz.

Öğretmen Lale'den kare hakkında bilgi vermesini istemiş. Her doğru bilgi için 10 puan almış. Buna göre Lale kaç puan almıştır ?

- A) 40 B) 20 C) 10 D) 30




Ölçüleri yukarıdaki gibi olan bir dikdört-
 genden kısa kenarını değiştirmeden kareler
 elde etmek istiyoruz. Kaç tane kare elde
 ederiz?

- A) 3 B) 4 C) 5 D) 6

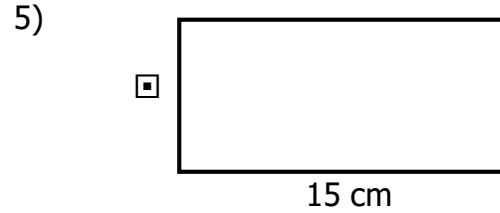
- 3) Kenar uzunlukları doğal sayı olduğuna göre
 aşağıdakilerden hangisi bir karenin çevre
 uzunluğu **olamaz**?

- A) 16 cm B) 32 cm
 C) 25 cm D) 40 cm



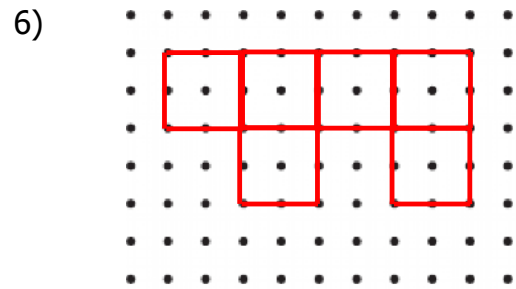
Yukarıdaki noktali kağıtta her noktanın arası 1
 birimdir. Buna göre karenin çevre uzunluğu kaç
 birimdir ?

- A) 20 B) 24 C) 16 D) 18



Yukarıdaki dikdörtgende soru işareti yerine
 gelebilecek en büyü tek sayıyı yazarsak dik-
 dörtgenin çevre uzunluğu kaç cm olur?

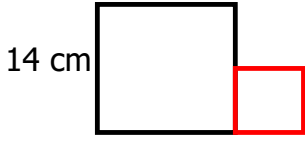
- A) 46 cm B) 56 cm
 C) 58 cm D) 54 cm



Yukarıdaki noktali kağıtta her noktanın arası 1
 birimdir. Buna göre şeklin çevre uzunluğu kaç
 birimdir ?

- A) 26 B) 28 C) 30 D) 32

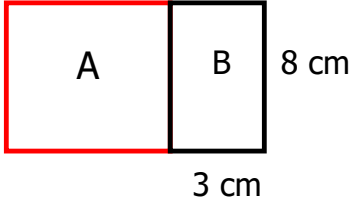
7)



Büyük karenin bir kenarının uzunluğu küçük karenin bir kenarının uzunluğunun 2 katıdır. Buna göre tüm şeklin çevresi kaç cm'dir

- A) 84 cm B) 77 cm
C) 63 cm D) 70 cm

8)



Yukarıdaki A şekli kare , B şekli dikdörtgendir. Buna göre şeklin tamamının çevresi kaç cm'dir?

- A) 38 cm B) 46 cm
C) 40 cm D) 36 cm

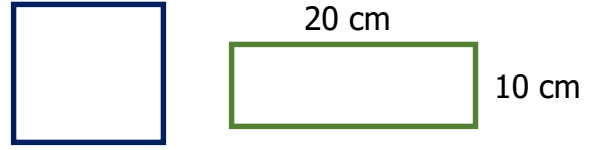
9)



Yukarıdaki L karesinin bir kenarının uzunluğu K karesinin bir kenarının uzunluğunun yarısıdır. K karesinin çevresi 48 cm olduğuna göre L karesinin çevresi kaç cm'dir?

- A) 12 cm B) 26 cm
C) 24 cm D) 20 cm


10)



Yukarıdaki kare ve dikdörtgenin çevre uzunlukları birbirine eşittir. Buna göre karenin bir kenarının uzunluğu kaç cm'dir?

- A) 60 cm B) 15 cm
C) 14 cm D) 16 cm

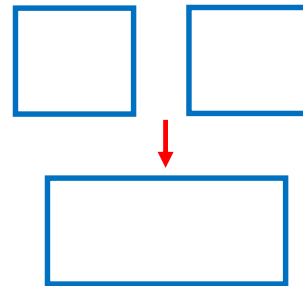
11)



Yukarıdaki dikdörtgenin kısa kenarı 17 cm olduğuna uzun kenarı en az kaç cm olabilir?

- A) 18 cm B) 19 cm
C) 17 cm D) 16 cm

12)



Çevre uzunlukları 32 cm olan iki kare yan yana getirilerek bir dikdörtgen oluşturuluyor. Oluşturulan dikdörtgenin çevresi kaç cm'dir?

- B) 64 cm B) 48 cm
C) 50 cm D) 46 cm

CEVAP ANAHTARI

- 1) D
- 2) C
- 3) C
- 4) A
- 5) B
- 6) B
- 7) D
- 8) A
- 9) C
- 10) B
- 11) A
- 12) B