



YAZIM YANLIŞI

* Aşağıdaki cümlelerdeki yanlış yazılan kelimeleri bulup işaretleyelim. Altına cümleyi doğru bir şekilde yazalım .

* Aysunun kuşu maviş kafesinden kaçmış.

*

* Okanın kalemi bulundumu ?

*

* cemre , fatih sultan mehmet ilkokulunda okuyor.

*

* Ablam Uludağ Üniversitesi kazandı.

*

* Yarın ömere yardım edecemisin ?

*

* Kutuları taşıdı Erdem eve.

*

* seni okula babanmı bıraktı ?

*

* Geçen yaz eliflerle izmirde tatil yaptık .

*


ALA GEYİK



Çocuktum ufacıktım,
Top oynadım acıktım.
Buldum yerde bir erik,
Kaptı bir ala geyik.
Geyik kaçtı ormana,
Bindim bir ak doğana.
Doğan yolu şaşırdı,
Kaf Dağı'ndan aşırıldı.
Attı beni bir göle,
Gölden çıktım bir çöle.
Çölde buldum izini,
Koştum tuttum dizini.



Geyik beni görünce,
Düştü büyük sevince.
Verdi bana bir elma,
Dedi: "Dinlenme, durma..
Dağdan yürü, kırdan git.
Altın köşke çabuk var.
Seni bekler ezeli,
Orda dünya güzeli.
Bin yıllık çile doldu,
Bunu dedi kayboldu.
Yedim sırlı elmayı,
Gördüm gizli dünyayı.



Ziya GÖKALP

Aşağıdaki soruları metne uygun bir şekilde cevaplayınız.

1. Çocuk yerde ne bulmuş ?

.....

2. Geyik niçin sevinmiş ?

.....

3. Doğan çocuğu nereye atmış ?

.....

4. Geyik çocuğa ne vermiş ?

.....

5. Çocuk neye binmiş ?

.....

6. Çocuk geyiğin izini nerede bulmuş ?

.....

7. Çocuk sırlı elmayı yiyince ne görmüş ?

.....

DİNİ BAYRAMLARIMIZ

1. Etkinlik: Aşağıda verilen milli gün ve bayramlarımızla, dini gün ve bayramlarımızı harflerini ait oldukları yere yazalım.

A 19 Mayıs Atatürk'ü Anma Gençlik ve Spor Bayramı

B Mevlit Kandili

C Kurban Bayramı

C Ulusal Egemenlik ve Çocuk Bayramı


D Zafer Bayramı

E Kadir Gecesi

F Cumhuriyet Bayramı



G 15 Temmuz Demokrasi ve Millî Birlik Günü

Ğ Ramazan Bayramı






2. Etkinlik: Aşağıdakilerden hangileri dini gün ve bayramlarda yapılır? Yapılanların çiçeğini boyayalım.

- Bayram namazına gideriz.
- Okullarda sınıflarımızı süsleriz.
- Sokaklar , caddeler bayraklarla süslenir.
- Annemiz misafirler için hazırlıklar yapar.
- Camilerde kandil programları olur.
- Sınıfça gösteriler hazırlarız.
- Okullarda törenler yapılır.
- Büyüklerimizin evlerine bayramlaşmaya gideriz.
- Evimizi temizler , bayram için hazırlık yaparız.
- Törelerde saygı duruşu yapılır ve İstiklal Marşı okunur.
- Kurban keseriz.
- Çocuklara şeker veya harçlık verilir.
- Konuşmalar yapılır , şiirler okunur.





KÜLTÜREL ÖGELERİMİZ

1. Etkinlik: Aşağıdaki görsellerden bizim kültürümüze ait olanları işaretleyelim.



2. Etkinlik: Aşağıdaki ifadelerden doğru olanların başına (D), yanlış olanların başına (Y) yazalım.

- (...) Güreş ve okçuluk ata sporumuzdur.
- (...) Spagetti bizim kültürümüze ait bir yemektir.
- (...) Nasreddin Hoca bizim kültürümüze aittir.
- (...) Futbol ve basketbol ata sporlarımızdır.
- (...) Kına geceleri kültürümüze ait değildir.
- (...) Kebap kültürümüze ait bir yemektir.
- (...) Mimari yapılar kültürel mirasımızın bir ögesidir.
- (...) Her ülkenin kültürü aynıdır.
- (...) Bağlama kültürümüze ait bir müzik dalıdır.
- (...) Baklava ve lokum kültürümüze aittir.





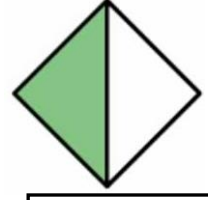
KESİRLER

🌸 Aşağıdaki görsellerin altına "bütün-yarım-çeyrek" kelimelerinden uygun olanını yazalım.

















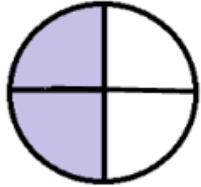




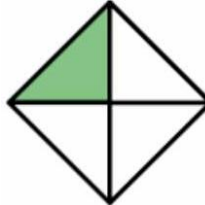




























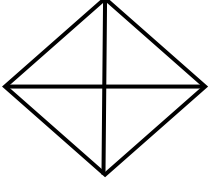




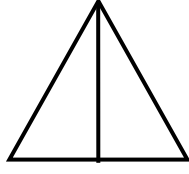


KESİRLER


🌸 Aşağıdaki şekillerin belirtilen kadarını boyayınız.




Çeyrek



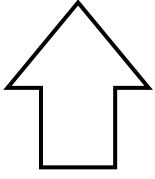
Yarım



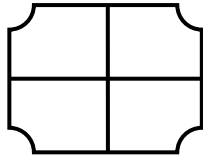
Bütün



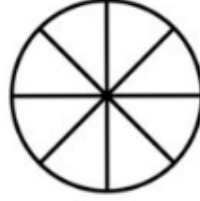
Yarım



Bütün



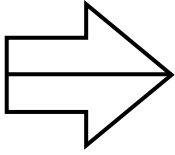
Çeyrek



Yarım



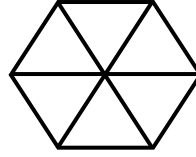
Çeyrek



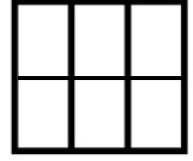
Yarım




Bütün



Yarım



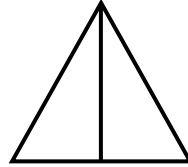
Yarım



Yarım



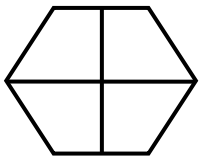
Çeyrek



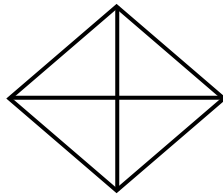
Bütün



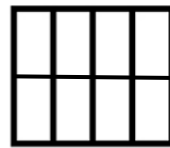
Bütün



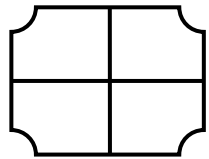
Çeyrek



Bütün



Çeyrek



Yarım



KESİRLER

🌸 Aşağıdaki cümlelerdeki noktalı yerleri uygun şekilde dolduralım.



2 Bütün elma yarım elma eder.



5 Bütün domates yarım domates eder.



3 Bütün karpuz çeyrek karpuz eder.



7 Bütün portakal yarım portakal eder.



4 Bütün pizza çeyrek pizza eder.



3 Bütün armut çeyrek armut eder.



4 yarım domates çeyrek domates eder.



6 yarım portakal çeyrek portakal eder.



3 yarım armut çeyrek armut eder.



7 yarım elma çeyrek elma eder.



2 yarım karpuz çeyrek karpuz eder.



5 yarım pizza çeyrek pizza eder.



KESİRLER


🌸 Aşağıdaki görsellerin altına "bütün-yarım-çeyrek" kelimelerinden uygun olanını yazalım.



8 Yarım domates yarım domates eder.



6 Yarım karpuz bütün karpuz eder.



14 Yarım armut bütün armut eder.



10 Yarım portakal bütün portakal eder.



12 Yarım pizza bütün pizza eder.




12 Çeyrek elma bütün elma eder.



4 Çeyrek karpuz bütün karpuz eder.



8 Çeyrek pizza bütün pizza eder.



20 Çeyrek portakal bütün portakal eder.



16 Çeyrek domates bütün domates eder.

BÜTÜN , YARIM , ÇEYREK PROBLEMLER

1. 4 bütün ekmek kaç yarım ekmek eder ?

Çözüm:



2. 8 bütün elma kaç çeyrek elma eder?

Çözüm:



3. 6 yarım limon kaç tane çeyrek limon eder ?

Çözüm:



4. 14 yarım armut kaç tane bütün armut eder ?

Çözüm:



5. 24 tane çeyrek kivi kaç tane bütün kivi eder ?

Çözüm:



6. 16 tane çeyrek portakal kaç tane yarım portakal eder?

Çözüm:



7. 5 bütün pasta kaç tane yarım pasta eder ?

Çözüm:



8. 32 tane çeyrek elma kaç tane bütün elma eder ?

Çözüm:



9. 10 tane yarım karpuz kaç tane çeyrek karpuz eder?

Çözüm:



BÜTÜN , YARIM , ÇEYREK PROBLEMLER

1. 16 tane yarım kurabiye kaç tane bütün kurabiye eder ?

Çözüm:



2. 9 tane fotokopi kağıdı kaç tane çeyrek fotokopi kağıdı eder ?

Çözüm:



3. 20 tane çeyrek simit kaç tane bütün simit eder ?

Çözüm:



4. Ali 3 bütün elmadan kaç yarım elma elde eder ?

Çözüm:



5. 5 tane bütün yumurta kaç tane çeyrek yumurta eder ?

Çözüm:



6. 8 tane yarım portakal kaç tane bütün portakal eder?

Çözüm:



7. 24 tane çeyrek armut kaç tane bütün armut eder ?

Çözüm:



8. 3 tane yarım karpuz kaç tane bütün karpuz eder ?

Çözüm:



9. 10 tane çeyrek domates kaç tane yarım domates eder?

Çözüm:



10. 14 tane yarım ekmek kaç tane bütün ekmek eder?

Çözüm:



BÜTÜN , YARIM , ÇEYREK PROBLEMLER

1. 28 tane çeyrek kivi kaç tane bütün kivi eder ?

Çözüm:



2. 8 tane bütün elma kaç tane çeyrek elma eder ?

Çözüm:



3. 6 tane çeyrek ekmek kaç tane yarım ekmek eder ?

Çözüm:



4. 9 tane yarım armut kaç tane çeyrek armut eder ?

Çözüm:



5. 7 tane bütün şeftali kaç tane yarım şeftali eder ?

Çözüm:



6. 4 tane bütün pasta kaç tane çeyrek eder?

Çözüm:



7. 16 tane yarım kivi kaç tane bütün kivi eder ?

Çözüm:



8. 6 tane yarım elma kaç tane çeyrek elma eder ?

Çözüm:



9. 4 tane karpuz kaç tane yarım karpuz eder?

Çözüm:



10. 36 tane çeyrek limon kaç tane bütün limon eder?

Çözüm:

