



➤ İlk soruyu metne göre cevaplayınız.

1) Aşağıdaki **atasözlerinden** hangisi, metnin ana fikriyle ilgilidir?

- A) Tatlı dil yılanı deliğinden çıkarır.
 B) Kurunun yanında yaş da yanar.
 C) Horoz ölür, gözü çöplükte kalır.

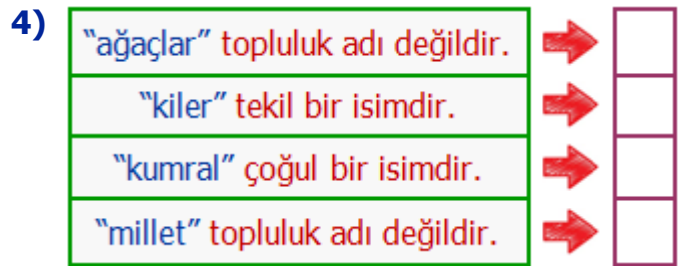


2) Yukarıdaki öğrenciler, **yazımı doğru** olan her kelime için **3 şeker** kazanacaklardır. Buna göre, en fazla şekeri kim kazanır?

- A) Elif B) Selim C) Arda

3) "**İhtiyar** adam **yaşlı** köpeğine **mama** verdi." cümlesinde altı çizili sözcükler arasındaki **anlam** ilişkisi aşağıdakilerden hangisinde yoktur?

- A) acemi – usta B) uzak – irak
 C) soru – sual



Yukarıdaki cümlelerden doğru olanlara **D**, yanlış olanlara **Y** yazarsak nasıl bir görüntü oluşur?

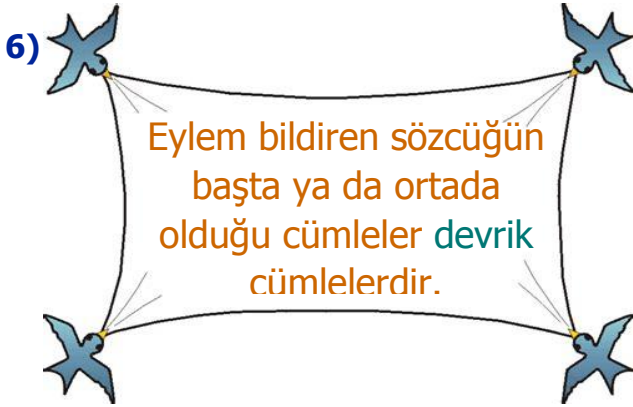
- A) Y D Y D
 B) D D Y Y
 C) D Y D Y

5)

| | |
|---|---|
| ★ | Eş görevli sözcükler arasına nokta konur. |
| ♥ | Seslenme ve uyarı sözlerinden sonra ünlem kullanılır. |
| ❖ | Bazı kısaltmaların sonuna virgül konur. |
| ● | Sıra bildiren sayılardan sonra nokta kullanılır. |

Her biri bir **şekil** ile eşleştirilen ifadelerden hangileri **yanlış** değildir?

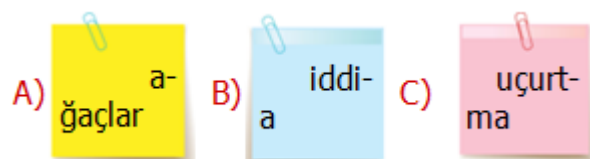
- A) ★ ve ❖ B) ♥ ve ● C) ❖ ve ●



Yukarıdaki açıklamaya göre aşağıdaki tümcelerden hangisi **devrik** değildir?

- A) Bir ağırlık çöktü omuzlarıma.
B) Çok zekiymiş bizim oğlan.
C) O, burayı avucunun içi gibi bilir.

7) Aşağıdaki kelimelerden hangisi satır sonunda yanlış ayrılmamıştır?



Yukarıdaki kişilerden hangileri **eş sesli** kelimelere örnek vermiştir?

- A) Arif – İpek B) Hilmi – Oya
C) İpek – Hilmi

9)

| | | |
|----------|----------|-----------|
| sa-at-çi | ai-le-si | grey-furt |
| prog-ram | ka-rt | kont-rol |

Yukarıdaki kelimelerden hecelerine **doğru** ayrılmış olanları boyarsak ortaya nasıl bir görüntü çıkar?

- A) B) C)



Her biri **harf** ile eşleşen kelimeler alfabetik sıralanırsa harfler hangi kelimeyi oluşturur?

- A) ALEM B) AMEL C) ELMA

11)



Yukarıdaki **rakamlarla** oluşturulabilecek; rakamları farklı, **üç** basamaklı **en küçük** ve **iki** basamaklı **en büyük** sayıların **toplamı** aşağıdakilerden hangisidir?

- A) 3 onluk + 4 birlik + 6 yüzlük
 B) 4 yüzlük + 3 birlik + 2 onluk
 C) 2 birlik + 4 onluk + 3 yüzlük

12)



Eray ve **Sema** akıllarından tuttıkları sayılarla ilgili şu **ipuçlarını** vermişlerdir:

Eray → Aklımdan tuttuğum sayı, **en yakın** onluğu **390** olan **en küçük** sayıdır.

Sema → Aklımdan tuttuğum sayı, **en yakın** onluğu **370** olan **en büyük** sayıdır.

Yukarıdaki ipuçlarına göre **Eren** ve **Sema'nın** akıllarından tuttıkları sayıların **farkı** kaçtır?

- A) XI B) XVI C) XIX

13)



9 taksitle **çamaşır makinesi** alan bir aile, **5** taksiti ödemiş ve geriye toplam **476** lira borçları kalmıştır. Buna göre makinenin **1 taksiti** kaç liradır?

- A) ₺109 B) ₺119 C) ₺129

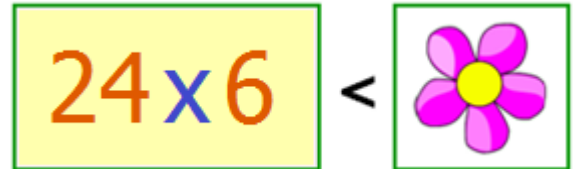
14)



Bir çiftçi **bahçesinden** her birinde **17kg** olan **24** sepet elma topladı. Elmaların **çeyreğini** satan çiftçinin daha ne kadar elması vardır?

- A) 102kg B) 306kg C) 408kg

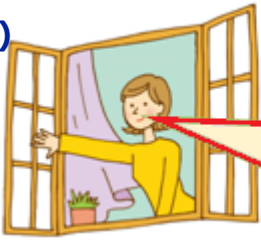
15)



Yukarıdaki **çiçek** yerine yazılabilecek **en küçük** sayısının $\frac{1}{5}$ 'i kaçtır?

- A) 29 B) 30 C) 31

16)



Saat dörde çeyrek var. 55 dakika sonra canlı dersin başlayacak.

Yukarıdaki konuşmaya göre **canlı ders** saat kaçta başlayacaktır?



17)



Emel, bisiklet almak için yukarıdaki paraları biriktirmiştir. Bisikletin fiyatı **734** lira ise **Emel'in** ne kadar daha paraya ihtiyacı vardır?

A) ₺249 B) ₺299 C) ₺349

18)



Dayım kendi ürettiği zeytinyağını şişelere doldurup satmaktadır. Şişeler **2** litre yağ almaktadır. Yağın **1** litresini **17** liraya satan dayım, bu sene 25 şişe yağ satmıştır. Buna göre dayım kaç lira para kazanmıştır?

A) ₺425 B) ₺850 C) ₺965

19)

6 yüzü, 8 köşesi ve 12 ayrıtı var.

Köşesi ve ayrıtı yok, 3 yüzü var.

Köşesi ve ayrıtı yok, 2 yüzü var.

5 yüzü, 6 köşesi ve 9 ayrıtı var.

•

•

•

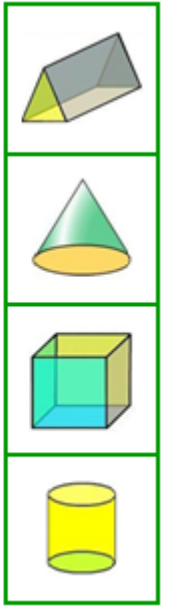
•

•

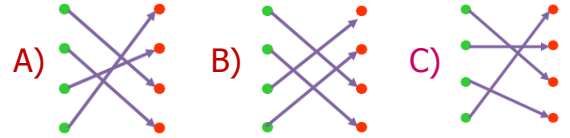
•

•

•



Yukarıdaki özelliklerle, geometrik cisimler eşleştirilirse ortaya nasıl bir **görüntü** çıkar?



20)

Şekillerde komşu köşeleri birleştiren doğru parçasına **kenar**, komşu olmayan köşeleri birleştiren doğru parçasına **köşegen** denir.

Yukarıdaki **açıklamaya** göre aşağıdaki şıklardan hangisinde yazılı **geometrik şekillerin** tümünün **köşegeni** vardır?

- A) üçgen – dikdörtgen – daire
B) kare – üçgen – beşgen
C) altıgen – dikdörtgen – kare

21)



Hayatında ilk kez **manolya** çiçeği gören **Elif**, çiçeğin kokusunun daha önce kokladığı diğer çiçeklerden daha güzel olduğunu fark etti.

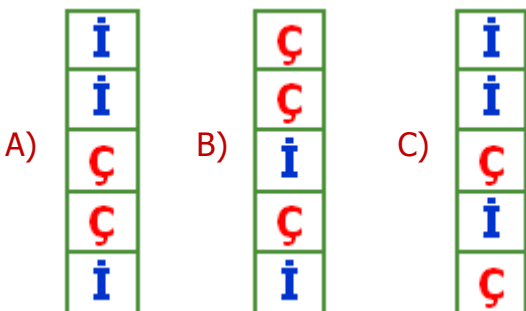
Yukarıdaki açıklamaya göre **Elif** hangi duyu organını kullanmamıştır?



22)

| | | |
|----------------------------|---|--|
| Topa ayağımızla vurmak | → | |
| Matkapla duvarı delmek | → | |
| Prizden fişi çıkarmak | → | |
| Salıncakta birini sallamak | → | |
| Montun fermuarını açmak | → | |

Yukarıdaki örneklerden **çekme kuvveti** olanlara **Ç**, **itme kuvveti** olanlara **İ** yazarsak nasıl bir görüntü oluşur?



23) Işığın **görmeye** etkisi ile ilgili aşağıdaki bilgilerden hangisi yanlış değildir?

- A) Işık önce suda yayılır, sonra havada dolanır ve boşlukta kaybolur.
B) Işık, varlıkların üzerine düşerek onları aydınlatır. Bu sayede varlıkları görürüz.
C) Işık önce gözümüze gelir, gözümüzden de cama ve cisimlere yansır.

24)



Işık kaynakları hangi şıkta yukarıdaki sıralamayla tam eşleşmektedir?



- 1 2 3 4
- A) kibrit - meşale - fener - ay
B) güneş - far - ayna - şimşek
C) yıldırım - mum - yıldız - ampul

25)



Aşağıdaki kaynaklardan hangisi, **yandaki** ses kaynağı ile aynı grupta yer alır?



| | |
|---|---|
|  | İnsan kulağının belirli bir işitme sınırı vardır. |
|  | Yaklaşan aracın sesi, artan ses örneğidir. |
|  | Hoparlör ve megafon ses şiddetini artırmaz. |
|  | Ses, havasız ortamlarda daha iyi yayılır. |

Her biri bir mevye ile eşleştirilen cümlelerden hangileri **doğru** değildir?




- A)   B)   C)  




27) 

İpuçları

- 1) Üreyemez.
- 2) Solunum yapmaz.
- 3) Boşaltım yapmaz.

Aşağıdakilerden hangisi, öğretmenin verdiği **ipuçlarına** uygun bir varlık değildir?

- A)  B)  C) 

| | |
|---|---|
|  | Çimlenme sonucu oluşan genç bitkiye tohum denir. |
|  | Tohumun filizlenmesi için su ve oksijen gereklidir. |
|  | Tohumlar havasız ve soğuk ortamlarda ekilmelidir. |

Yukarıdaki **ifadelerden** hangisi **yanlış** değildir?

- A)  B)  C) 

29)  Pamukkale travertenleri milli parklara örnektir.

 Bolu'daki Yedigöller doğal anıtlara örnektir.

 Rize'deki Kaçkar Dağı milli parklara örnektir.

 Antalya'daki Damlatas Mağarası doğal anıttır

Milli park ve doğal anıtlarla ilgili öğrencilerin hangilerinin ifadeleri doğrudur?

- A) Baki ve Oya
B) Veli ve Ayşe
C) Oya ve Veli

30)

| Çevre | Yapay Çevre | Doğal Çevre |
|---------|-------------|-------------|
| şelale | ✓ | |
| nehir | | ✓ |
| otopark | | ✓ |
| camiler | ✓ | |
| mağara | ✓ | |
| okyanus | | ✓ |

Yukarıda tabloda bazı **çevreler** verilmiştir. Tablodaki sütunlara "✓" işareti koyularak bu **çevrelerin** özellikleri belirtilmiştir.

Buna göre yukarıdaki tabloda kaç adet **hata** yapılmıştır?

- A) 4 B) 3 C) 2

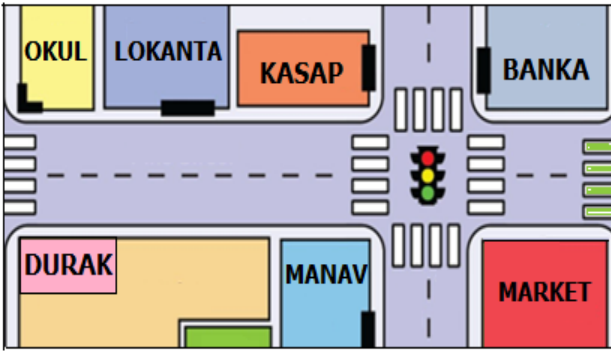
31)



İrem ve **Hakan** aynı sınıfa gidiyorlar. Her ikisi de gitar çalabilmek için kursa gidiyorlar. Buna göre bu iki arkadaş ile ilgili aşağıdaki **bilgilerden** hangisi doğrudur?

- A) İlgi alanları farklı değildir.
- B) Fiziksel özellikleri farklı değildir.
- C) Cinsiyetleri farklı değildir.

32)



Ayşe'nin babası bankada çalışmaktadır. **Ayşe** her gün okul çıkışında hiçbir yere uğramadan, okul ile aynı caddede bulunan bankaya gitmektedir. Babasının iş yeri okula çok yakındır.

Açıklamaya göre **Ayşe** okuldan çıkıp bankaya doğru yürürken **sol** tarafında aşağıdakilerden hangisi yer almaz?

- A) Lokanta
- B) Manav
- C) Kasap

33)

| | |
|-------------|--|
| Emin | İzlemesek de, televizyon evimizde sürekli açıktır. |
| Seda | Her gün abur cubur almak için babamdan para isterim. |
| Ufuk | Dişlerimi fırçalarken suyu açık bırakmam. |
| Hale | Okul eşyalarımı özenli ve idareli kullanırım. |

Yukarıdaki ifadelere bakarak, hangi kişilerin **bilinçli** olduğunu söyleyemeyiz?

- A) Emin ve Ufuk B) Hale ve Ufuk
- C) Seda ve Emin

34)

| | | |
|---------|--------|----------|
| Oksijen | Giysi | Çikolata |
| Bilezik | Kaykay | Su |

Yukarıdaki tabloda **istekler** ve **ihtiyaçlar** verilmiştir. İhtiyaçların kutularını boyarsak ortaya nasıl bir görüntü çıkar?

- A)







| | | |
|--|--|--|
| | | |
| | | |
- B)

| | | |
|--|--|--|
| | | |
| | | |
- C)

| | | |
|--|--|--|
| | | |
| | | |

35) Kişisel bakım, insanın fiziki görüntüsüne özen göstererek kendine ait araçlarla gerekli bakımını yapmasıdır. Aşağıdakilerden hangisi **kişisel bakım** aracıdır?

- A) Tarak B) Mandal C) Ceket

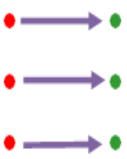
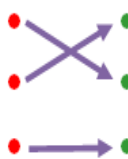
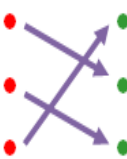
| | | |
|---|---|---|
|  |  |  |
| Hamburger | Kola | Sebze |
|  |  |  |
| Cips | Pizza | Balık |

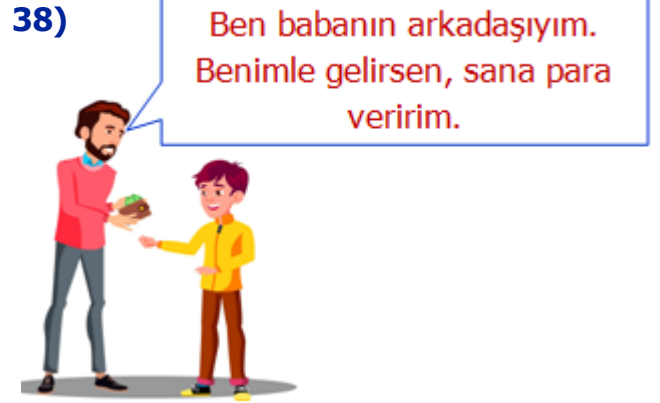
Dengeli ve düzenli beslenen bilinçli bir insan yukarıdaki yiyeceklerden **kaç** tanesini fazla tüketmez?

- A) 2 B) 4 C) 3

| | | | |
|---|---|---|----------------------------|
|  | ● | ● | Bisiklet Giremez |
|  | ● | ● | Mecburi Bisiklet Yolu Sonu |
|  | ● | ● | Mecburi Bisiklet Yolu |

Yukarıdaki trafik işaret levhaları ile anlamları eşleştirilirse ortaya nasıl bir **görüntü** çıkar?

- A)  B)  C) 



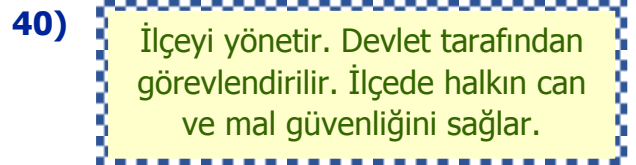
Görsele göre **Selim**, tanımadığı bu kişiye hangi cevabı vermelidir?

- A) Parayı alıp kumbarama koyarım.
B) Bana çikolata da alır mısınız?
C) Para istemem, sizinle de gidemem.



Aşağıdakilerden hangisi, **deprem** sırasında yapmamamız gereken bir davranıştır?

- A) Binadan çıkarken asansör kullanmalıyız.
B) Balkon ve pencereden uzak durmalıyız.
C) Hayat üçgeni oluşturmalıyız.



Yukarıda açıklanan **yönetim birimi** aşağıdakilerden hangisidir?

- A) Vali B) Muhtar C) Kaymakam

CEVAP ANAHTARI

| TÜRKÇE | MATEMATİK | FEN BİL. | HAYAT BİL. |
|--------|-----------|----------|------------|
| 1) B | 11) C | 21) A | 31) A |
| 2) C | 12) A | 22) C | 32) B |
| 3) A | 13) B | 23) B | 33) C |
| 4) B | 14) B | 24) C | 34) C |
| 5) B | 15) A | 25) B | 35) A |
| 6) C | 16) C | 26) A | 36) B |
| 7) C | 17) C | 27) B | 37) B |
| 8) A | 18) B | 28) C | 38) C |
| 9) A | 19) A | 29) A | 39) A |
| 10) B | 20) C | 30) B | 40) C |